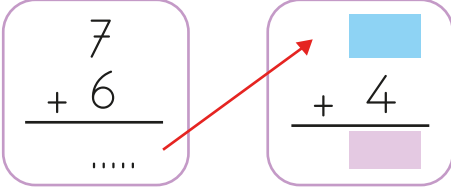


1. Ece'nin 8 tane bilyesi var. Zeynep Ece'ye 6 bilye daha vermiştir. Ece'nin kaç bilyesi olmuştur?

Yukarıda verilen problemin çözümü aşağıdakilerden hangisidir?

- A. $8 + 6 = 14$
 B. $8 + 6 = 15$
 C. $8 + 14 = 22$

2. 

Yukarıdaki toplama işleminde renklere karşılık gelen sayılar aşağıdakilerden hangisidir?

- A.

11
15

 B.

13
17

 C.

12
16

3. 

Görsele göre çiftlikteki hayvanların ayak sayıları toplamı kaçtır?

- A. 14 B. 16 C. 18

4.

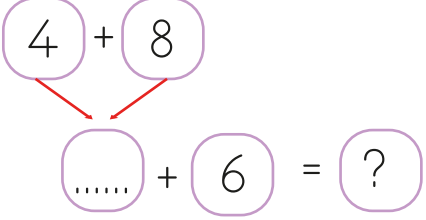
1.	$\begin{array}{r} 15 \\ + 5 \\ \hline \dots \end{array}$
a.	11

2.	$\begin{array}{r} 13 \\ + 6 \\ \hline \dots \end{array}$
b.	19

3.	$\begin{array}{r} 6 \\ + 5 \\ \hline \dots \end{array}$
c.	20

Yukarıda verilen işlemler sonuçlarıyla eşleştirildiğinde hangi seçeneğe ulaşılır?

- A. 1-c B. 1-b C. 1-c
 2-b 2-a 2-a
 3-a 3-c 3-b

5. 

Buna göre "...?" yerine aşağıdaki sayılardan hangisi yazılmalıdır?

- A. 18 B. 19 C. 17

6.

Y	$9 + 9$
---	---------

$10 + 8$

M	$9 + 8$
---	---------

$7 + 10$

S	$8 + 7$
---	---------

Yukarıda sonuçları aynı olan işlemler birleştirildiğinde hangi renk dışarıda kalır?

- A. Y B. M C. S

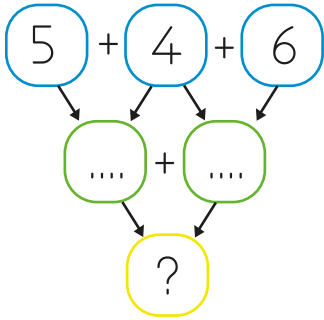
7. $4 - \dots - \dots - ?$

Deniz 4'ten başlayıp her seferinde 5 ekleyerek sırayla sayıları yazacaktır.

Buna göre Deniz "?" yerine aşağıdaki sayılardan hangisini yazmalıdır?

- A. 19 B. 18 C. 17

8.



Yukarıda "?" yerine gelecek sayının onluk ve birlikleri hangi seçenekte doğru verilmiştir?

- A. 2 onluk 7 birlik
B. 1 onluk 9 birlik
C. 1 onluk 8 birlik

9. Aşağıdaki seçeneklerin hangisinde toplama işlemi için kullanılan kavramlar vardır?

- A. arttırma eksiltme toplam
B. çıkan eksilen fark
C. artı fazlası ekleme

10. Yanda verilen işlemde toplananların yeri değiştiriliyor.

$$\begin{array}{r} 12 \\ + 5 \\ \hline \dots \end{array}$$


Buna göre yeni işlemin sözel ifadesi aşağıdakilerden hangisidir?

- A. Beş, beş daha on eder.
B. Beşle on ikinin toplamı on yedi eder.
C. On beş artı iki on yedi eder.

11.

$11 + 3$	$10 + 0$
$9 + 1$	$6 + 5$
$8 + 2$	$5 + 7$

Yukarıdaki tabloda, sonucu 10 olan işlemler boyanırsa hangi seçenek oluşur?



12. $\textcircled{18}$ • • 10 ile 2'nin toplamı
 $\textcircled{17}$ • • 11 ile 7'nin toplamı
 $\textcircled{12}$ • • 9 ile 8'in toplamı

Yukarıdaki eşleştirmeler hangi seçenekte doğru verilmiştir?

