

SH UZUNLUK ÖLÇME - 1


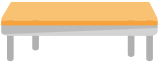
1.



Yukarıdaki defterin uzunluğunu, aşağıdaki ölçme birimlerinden hangisi ile ölçmemiz uygun olur?

- A. Parmak
- B. Kulaç
- C. Adım

2.



Yukarıdakilerin hangisini karışla ölçemeyiz?

- A. Koltuk
- B. Silgi
- C. Sıra

3. Aşağıdakilerden hangisi standart uzunluk ölçme aracıdır?



4. Aşağıda verilen vücudumuzun bölümlerinden hangisi en kısadır?

- A. Parmak
- B. El
- C. Kol

5. Hangisinin gerçek uzunluğu bir karışınızdan fazladır?



6.



Yukarıdaki kalem kaç parmak uzunluğundadır?

- A. 10
- B. 9
- C. 11

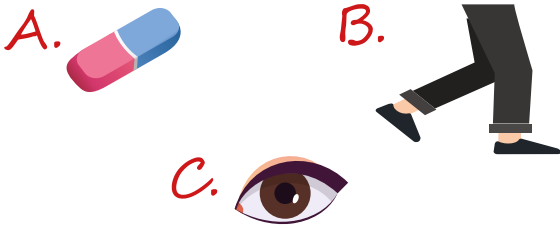
7.




Yukarıdaki bireylerden en kısası ile en uzununu hangi seçenekte verilmiştir?

- A. En kısa - 1
En uzun - 5
- B. En kısa - 2
En uzun - 4
- C. En kısa - 3
En uzun - 6

8. Evdeki halının uzunluğunu hangisi ile ölçmemiz doğrudur?



9. Aşağıdaki meyvelerden boyu en kısa olan hangisidir?



10. Aşağıdaki nesnelere cetvel ile ölçülmüştür. Buna göre hangisinin boyu daha kısadır?

- A. Çay bardağı
- B. Küp şeker
- C. Sürahi

11. Aşağıdaki ölçüm araçlarından hangisinin ismi yanlış verilmiştir?



12. Hangi ölçüm aracı her zaman doğru sonuç verir ?

