


1.



Baştaki kaktüs boy sırasına göre numaralanmış kaktüslerden hangi ikisinin arasında yer almalıdır?

- A. 1-2 B. 2-3 C. 3-4



Yukarıdaki resimle ilgili olarak;

- Boyu en uzun olan kişi İlkerdir.
- Ayhan'ın boyu, Erman'ın boyundan kısadır.

2 ve 3. soruları yukarıda verilenlere göre cevaplayalım.

2. Kafasında bere olan çocuğun adı nedir?

- A. Ayhan B. Erman
C. İlker

3. Resimde elini kaldıran çocuğun adı nedir?

- A. Ayhan B. Erman
C. İlker


4.



Yukarıdaki simgelerle belirtilen uzunluk ölçme birimlerinin uzun-
dan kısaya doğru sıralanışı hangi
seçenekte verilmiştir?

- A. ☆ △ ○ B. △ ○ ☆
C. △ ☆ ○


5.



Yazı tahtasının uzunluğu tahmini olarak kaç karış uzunluğundadır?

- A. 5 B. 10 C. 15

6.



Yukarıda verilen kalemleri kısa
olandan uzun olana doğru sıra-
ladığımızda hangi kelime oluşur?

- A. KATI
B. KITA
C. ATIK



Yukarıdaki kalemin boyu 5 ataş kadardır.

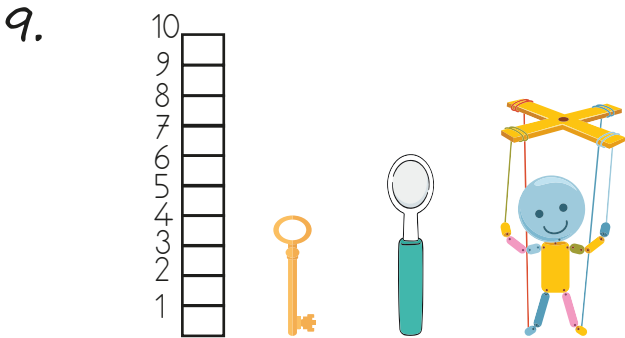
Uç uca ekleyeceğimiz 4 kalemin boyu kaç ataş olur?

- A. 15 B. 20 C. 25



Yukarıda verilenlerden en kısa ve en uzun olana "✓" atılırsa hangi görüntü oluşur?

- A.



Yukarıda verilen nesnelerin en uzundan en kısaya doğru sıralaması hangi seçenektir?

- A. Kaşık - anahtar - kukla
 B. Kukla - kaşık - anahtar
 C. Anahtar - kukla - kaşık

10.

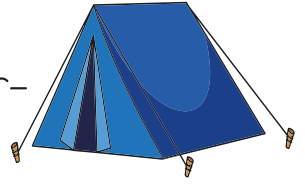


Yukarıda verilen çocukların saç uzunluklarının kısıdan uzuna doğru sıralaması hangi seçenektir?




- A. 1 - 3 - 2 B. 1 - 2 - 3
 C. 2 - 3 - 1

11. Yandaki resimde belirtilen

uzunluğu üç arkadaş farklı şekillerde ölçüyorlar.



Ölçümü hangisi daha kısa sürede yapar?

- A.  Adım B.  Ayak
 C.  Parmak

12. Aldığım ip 13 parmak uzunluğundaydı. İpin bir kısmını kesip kullandım. Geri kalan kısmını sakladım. Kesip kullandığım kısım 7 parmak uzunluğunda olduğuna göre sakladığım kısım kaç parmak uzunluğundadır?

- A. 8 B. 7
 C. 6