

1. Tablo: Bir Çiftlikteki Hayvan Sayısı

Hayvan	Sayısı	Hayvan	Sayısı
İnek	785	Tavuk	958
Ördek	620	Keçi	540

Tabloya göre aşağıdaki ifadelerden hangisi yanlıştır?

- A. İneklerin sayısı, keçilerden 245 fazladır.
 B. Ördek ve tavukların ayak sayıları toplamı 3156'dır.
 C. İneklerin ayak sayısı toplamı, keçilerin ayak sayısı toplamından 980 fazladır.
 D. Çiftlikte en fazla bulunan hayvan ördektir.

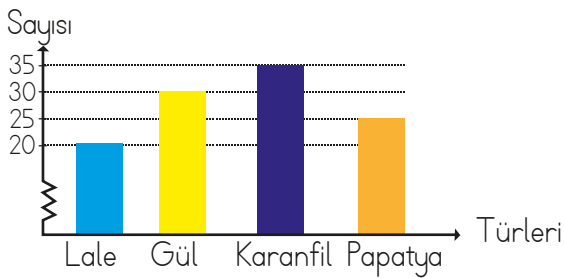
2. Tablo: Öğrencilerin 80 soruluk bir sınavda yaptıkları doğru sayılarının oranı

Yapılan doğrular		Yapılan doğrular	
Mehmet	$\frac{7}{10}$	Kaan	$\frac{4}{10}$
Seda	$\frac{9}{10}$	Yusuf	$\frac{2}{10}$

Yukarıdaki tabloya göre verilen öğrencilerin yaptıkları toplam doğru sayısı kaçtır?

- A. 170 B. 176 B. 180 D. 190

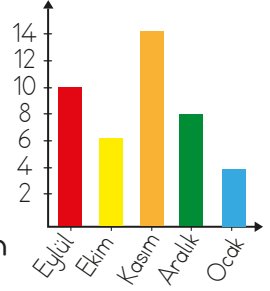
3.



Yukarıdaki grafikte bir çiçekçide bulunan çiçek sayıları gösterilmiştir. Buna göre aşağıdakilerden hangisi yanlıştır?

- A. Karanfil sayısı, lale sayısının 2 katından 10 eksiktir.
 B. En az bulunan çiçek laledir.
 C. Gül ve papatya sayısını toplamı 100'ün yarısından 5 fazladır.
 D. Bu çiçekçide verilen çiçek sayısı toplamı 110'dur.

4. Yandaki grafik bir öğrencinin 5 ay boyunca her ay okuduğu kitap sayısı gösterilmiştir. Okunan her kitap 80 sayfadır. Buna göre yapılan yorumlardan hangisi yanlıştır?



- A. Kasım, en fazla kitap okuduğu aydır.
 B. Ekim ayında 480 sayfa kitap okumuştur.
 C. Eylül ayında 800 sayfa kitap okumuştur.
 D. Ocak ayı kitap okumak için en az süreyi ayırdığı aydır.

5.

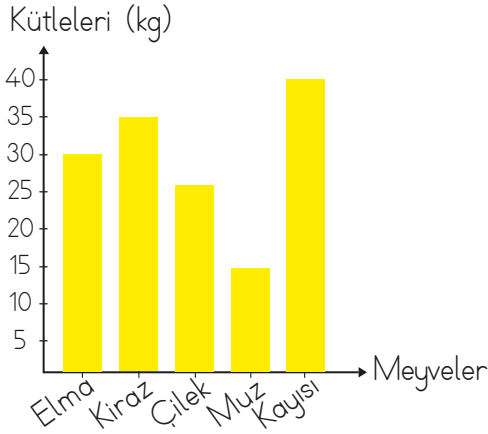
Tablo: En Sevilen Oyunlar

Renkler	Kişi Sayısı
Körebe	### IIII
Saklambaç	### ### ###
Sek sek	### ### IIII
Birdirbir	### III

Tabloda bir sınıftaki tüm öğrencilerin sevdiği oyunlar verilmiştir.

Buna göre aşağıdaki ifadelerden hangisi yanlıştır?

- A. Öğrencilerin en çok sevdiği oyun saklambaçtır.
 B. Birdirbiri seven öğrenci sayısı sekseki seven öğrenci sayısından 6 eksiktir.
 C. Bu sınıfta toplam 46 öğrenci vardır.
 D. En az sevilen oyun ile körebe oyunun seven öğrenci sayısının toplamı 15'tir.



6, 7, 8 ve 9. soruları bir manavda bulunan meyvelerin toplam ağırlıklarına göre cevaplayalım.

6. Bu manavda bulunan meyveler toplam kaç kilogramdır?

- A. 100 B. 125 C. 145 D. 160

7. Bu manavda 1 kg elma 15 liraya satıldığına göre tüm elmalar satılınca kaç lira gelir elde edilir?

- A. 150 B. 300
C. 450 D. 600

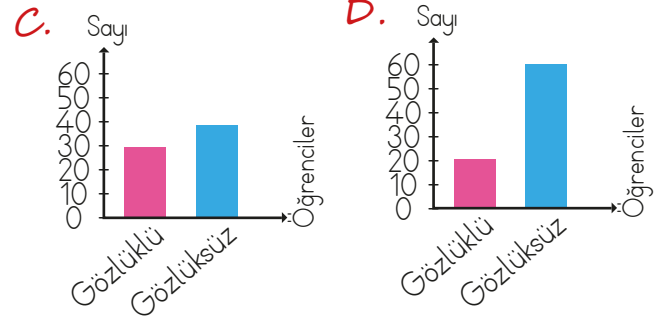
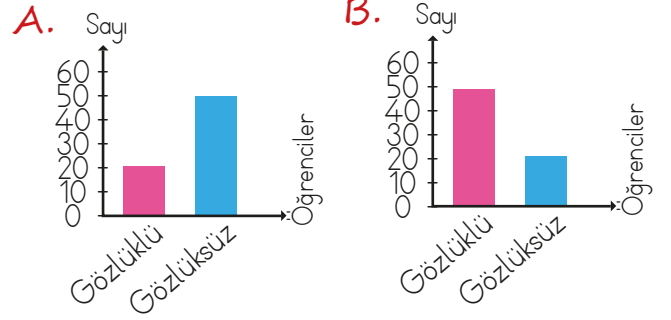
8. Bu manav bir kg kayısıyı 20 liraya almış her bir kg'a aldığı fiyatın beşte biri kadar kar ekleyerek satmıştır. Bu manavın kayısıdan elde ettiği kar kaç liradır?

- A. 100 B. 160
C. 200 D. 250

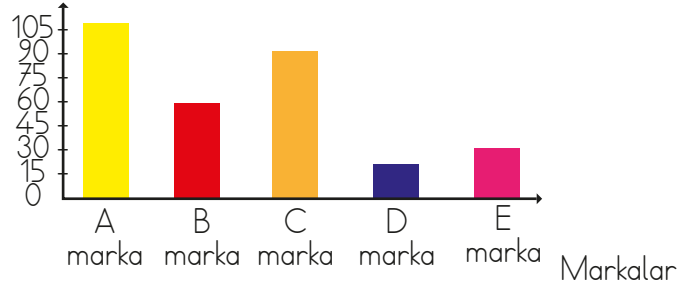
9. Bu manavdaki çilek ve kirazların toplamının çeyreği satılmamıştır. Buna göre satılan çilek ve kiraz toplam kaç kilogramdır?

- A. 30 B. 45 C. 50 D. 60

10. Bir sınıfta 20 gözlüklü öğrenci bulunmaktadır. Bu sınıfta bulunan gözlüksüz öğrenci sayısı gözlüklü öğrenci sayısının 3 katından 10 kişi eksiktir. Buna göre bu sınıfta bulunan toplam öğrencinin sütun grafiği şeklinde gösterilmiş şekli aşağıdakilerden hangisidir?



11. Satılan arabalar (adet)



Yukarıdaki bir galeride çeşitli markalardan satılan araçların sayısı verilmiştir. Grafiğe göre aşağıdaki bilgilerden hangisi doğrudur?

- A. Bu galeride markalardan satılan en çok ve en az aracın toplamı 125'tir.
B. B markasından satılan araç sayısı E markasından satılan araç sayısının 3 katıdır.
C. C markasından satılan araç sayısı D markasından satılan araç sayısı farkı 75'tir.
D. Bu galeride en fazla yaz aylarında araç satılmıştır.