

Kulüpler	Öğrenci Sayıları
Satranç Kulübü	17
Spor Kulübü	19
Müzik Kulübü	15

Yukarıdaki tabloda 1. sınıf öğrencilerinin kulüplerdeki sayıları verilmiştir.

1 ve 2. soruyu tabloya göre cevaplıyalım.

1. Tabloya göre en çok öğrencinin bulunduğu kulüp hangisidir?

- A. Satranç Kulübü
- B. Spor Kulübü
- C. Müzik Kulübü

2. Tabloya göre öğrenci sayısı; 1 onluk, 7 birlik şeklinde ifade edilebilen kulüp hangisidir?

- A. Satranç Kulübü
- B. Spor Kulübü
- C. Müzik Kulübü

Bir grup çocuğa en sevdikleri faaliyetler sorulmuş ve aşağıdaki tablo oluşturulmuştur.

Faaliyet	Çocuk sayısı
	7
	8
	9

3 ve 4. soruyu tabloya göre cevaplıyalım.







3. Tabloya göre en çok sevilen faaliyet ile en az sevilen faaliyetin çocuk sayıları toplamı kaçtır?

- A. 15
- B. 17
- C. 16

4. Tabloya göre yüzmeyi ve ip atlamayı seven çocukların sayıları toplam kaçtır?

- A. 17
- B. 16
- C. 15

Tabloda Defnelerin pazardan satın aldıkları sebzelerin sayısı gösterilmiştir. 5, 6, 7, 8 ve 9. soruları tabloya göre cevaplayalım.


 Biber	4	 Patlıcan	15
 Soğan	8	 Domates	19
 Kabak	9	 Havuç	13

5. Defneler en çok hangi sebze-  
den satın almıştır?


- A.  B.  C. 

6. Defneler en az hangi sebzeden  
almıştır?


- A.  B.  C. 

7. Defneler kaç tane  almıştır?

- A. 15 B. 13 C. 19

8. Defneler kaç tane  almıştır?

- A. 4 B. 9 C. 8

9. Defneler kaç tane  almıştır?

- A. 8 B. 13 C. 15

Tablo: Çiftlikteki Hayvanlar

Hayvan Adı	Hayvan Sayısı
Koyun	9
Tavuk	5
Horoz	6
Keçi	4

10 ve 11. soruları yukarıdaki  
tabloya göre cevaplayalım.

10. Çiftlikteki hayvanlardan hangisi-  
nin sayısı en fazladır?

- A. Koyun B. Keçi C. Horoz

11. Çiftlikteki 2 ayaklı hayvan sayısı  
toplam kaçtır?

- A. 12 B. 11 C. 10