

| Kurs Adı  | Kişi Sayısı |
|-----------|-------------|
| Yüzme     | 8           |
| Basketbol | 9           |
| İngilizce | 10          |
| Futbol    | 7           |

1, 2 ve 3. soruları yukarıdaki tabloya göre cevaplayalım.

1. Yüzme ve futbol kursuna katılan toplam öğrenci sayısı kaçtır?

A. 15      B. 16      C. 17




2. Futbol kursuna kaç kişi daha katılırsa İngilizce kursuna katılan öğrenci sayısına eşit olur?

A. 1      B. 2      C. 3

3. Yüzme kursuna katılan öğrencilerden 5 tanesi kurstan ayrılırsa yüzme kursunda kaç kişi kalır?

A. 1      B. 2      C. 3

Tablo : Ormandaki Hayvanlar

|        |   |
|--------|---|
| Maymun |  |
| Fare   |  |
| Kurağa |  |

Her nesne 1 hayvanı göstermektedir.

4, 5 ve 6. soruları yukarıdaki tabloya göre cevaplayalım.

4. Fareler kurbağalardan kaç fazladır?

A. 1      B. 2      C. 3

5. Maymunlar, farelerden kaç eksiktir?

A. 1      B. 2      C. 3

6. Ormandaki hayvanların toplam sayısı kaçtır?

A. 13      B. 12      C. 11

| Ders Adı      | Ders Saati |
|---------------|------------|
| Türkçe        | 10         |
| Matematik     | 8          |
| Müzik         | 2          |
| Hayat bilgisi | 8          |

7, 8 ve 9. soruları yukarıdaki tabloya göre cevaplayalım.

7. Matematik ile hayat bilgisi dersleri toplam kaç saattir?

A. 16      B. 10      C. 8

8. Türkçe dersi hayat bilgisi dersinden kaç saat fazladır?

A. 6      B. 2      C. 8

9. En az ders saati olan ders hangisidir?

A. Türkçe  
B. Matematik  
C. Müzik

Tablo : En Çok Sevilen Meyveler

| Meyve Adı | Kişi Sayısı |
|-----------|-------------|
| Muz       | 7           |
| Kivi      | 13          |
| Çilek     | 6           |
| Karpuz    | 13          |

10, 11 ve 12. soruları yukarıdaki tabloya göre cevaplayalım.

10. Hangi iki meyveyi seven kişi sayısı birbirine eşittir?

A. Muz - Karpuz  
B. Kivi - Karpuz  
C. Kivi - Çilek

11. Çilek seven öğrenci sayısı, muz seven öğrenci sayısından kaç eksiktir?

A. 1      B. 8      C. 7

12. Çilek seven öğrenci sayısı ile muz seven öğrenci sayısının toplamı hangi meyveyi sevenlerin sayısına eşittir?

A. Hiçbiri  
B. Çilek  
C. Kivi