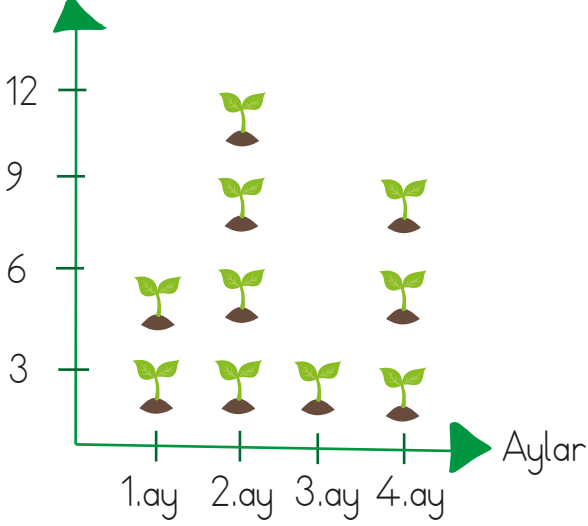


Aşağıdaki grafikte okulumuzun çevre kulübünün 4 ay boyunca diktiği tohum sayıları gösterilmektedir. Grafiği inceleyelim. Grafikle ilgili sıklık ve çetele tablolarını dolduralım. Soruları cevaplayalım.

Tohum sayıları



Dikilen tohumların çetele tablosu	
1.ay	### /
2.ay	
3.ay	
4.ay	

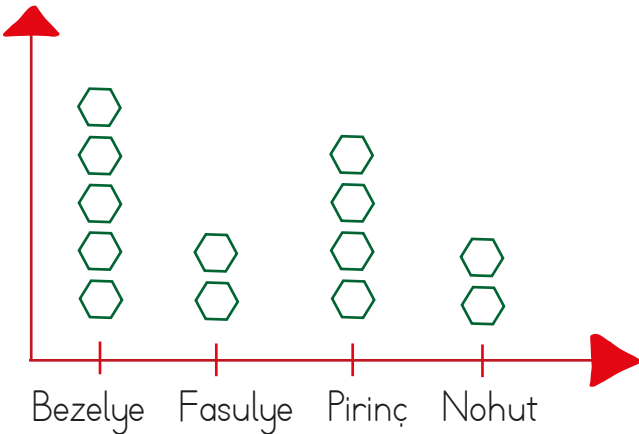
Dikilen tohumların sıklık tablosu	
1.ay	6
2.ay	
3.ay	
4.ay	

Her şekil 3 tohumu göstermektedir.

- 1.ay kaç tohum dikilmiştir?
- 4.ay kaç tohum dikilmiştir?
- En az tohum dikilen ay kaçınıcı aydır?
- 4 ayda dikilen toplam tohum sayısı kaçtır?

Şekil grafiğinde verilen bilgilere göre noktalı yerleri dolduralım.

**Şekil grafiği:** Demir'in Pazarda Sattığı Ürünler



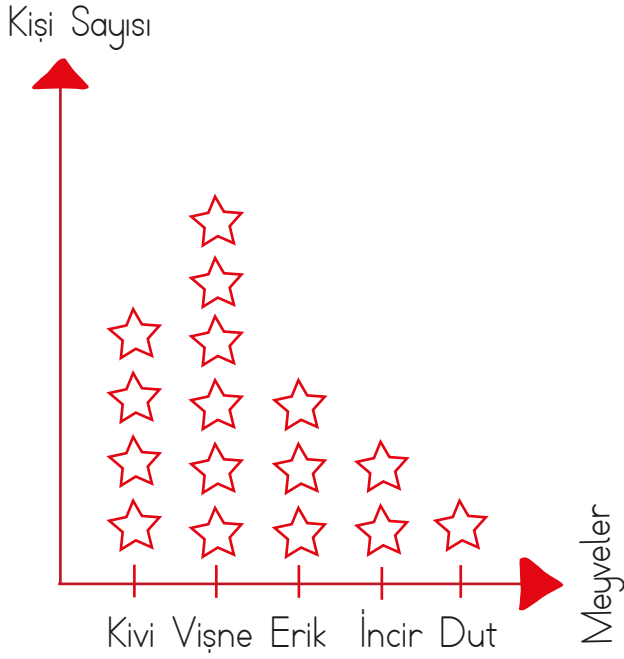
Her şekil 5 kilogramı göstermektedir.

Demir pazarda en çok ..... satmıştır.

Demir pazarda ..... ve .....u eşit miktarda satmıştır.

Demir pazarda toplam ..... kilogram ürün satmıştır.

Aşağıda verilen şekil grafiklerini inceleyelim. Şekil grafiklerinin çetele ve sıklık tablolarını oluşturalım.



Her şekil 2 meyveyi göstermektedir.

Sevilen meyvelerin çetele tablosu

Meyveler	Kişi sayısı
Kivi	
Vişne	
Erik	
İncir	
Dut	

Sevilen meyvelerin sıklık tablosu


Meyveler	Kişi sayısı
Kivi	
Vişne	
Erik	
İncir	
Dut	

Aşağıdaki çetele tablosundan yararlanarak şekil grafiği oluşturalım. Soruları yanıtlayalım.

Tablo: Kazanılan Madalyalar

Madalyalar	Madalya Sayıları
Altın	
Gümüş	
Bronz	

Grafik:.....



Altın madalya sayısı ile bronz madalya sayısı arasındaki fark kaçtır?

.....

Gümüş madalya sayısı altın ve bronz madalya toplamından kaç eksiktir?

.....