


1. Aşağıdaki saatlerden hangisinin okunuşunda yanlışlık yapılmıştır?



On bir buçuk



Yedi



Üç

2.



Yukarıdaki saatin kaçı gösterdiği aşağıdaki seçeneklerin hangisinde verilmiştir?

A. Saat 12

B. Saat 3

C. Saat 6

3. Yandaki saat, 3 saat sonra kaçı gösterir?



A. Saat 12'yi

B. Saat 9'u

C. Saat 3'ü

4.



Elif'in dersi yukarıda verilen saatte başlayıp 2 saat sonra bitecektir.

Buna göre Elif'in dersi kaçta biter?

A. 11.30

B. 10.30

C. 11.00

sonerhoca.net

5.

dün	bugün	yarın
.....	salı

Yukarıdaki tabloya göre boşluklara hangi günler yazılmalıdır?

A. çarşamba - perşembe

B. pazartesi - perşembe

C. pazartesi - çarşamba

6. Aşağıdakilerin hangisi saat ibrelerinden kısa olanın adıdır?

A. kadran

B. yelkovan

C. akrep

7. ve 8. soruları takvime göre cevaplayalım.

MART						
P	S	Ç	P	C	C	P
		1	2	3	4	5
6	7	8	9	10	11	12
13	14	15	16	17	18	19
20	21	22	23	24	25	26
27	28	29	30	31		

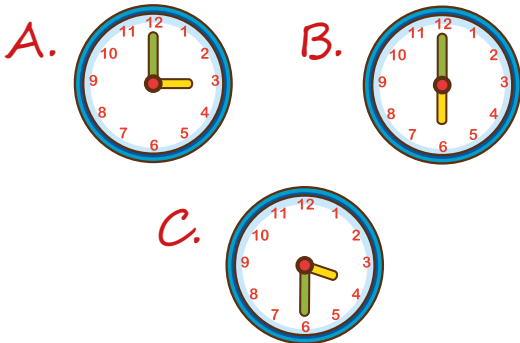
7. Takvime göre perşembe günlerinin sayısı ile cuma günlerinin sayısının toplamı kaçtır?

- A. 8 B. 10 C. 9

8. Takvime göre 18 Mart hangi güne gelmektedir?

- A. Perşembe B. Cuma
C. Cumartesi

9. Aşağıdakilerden hangisi tam saati göstermez?



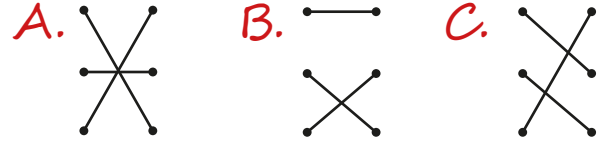
10. Dün salı ise yarın hangi gündür?

- A. Perşembe B. Cuma
C. Çarşamba

11.

3. ay • • Mart
7. ay • • Aralık
12. ay • • Temmuz

Yukarıda sırası verilen aylar ve adları eşleştirildiğinde aşağıdaki görüntülerden hangisi ortaya çıkar?



12.

Önce	Ay	Sonra
M	Nisan	
	Kasım	S

Yukarıdaki tabloya göre renklere karşılık gelen aylar aşağıdaki seçeneklerin hangisinde verilmiştir?

- A. M Mart B. M Mayıs
S Aralık S Ekim
C. M Haziran
S Aralık