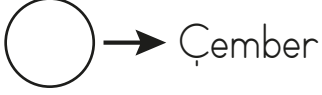
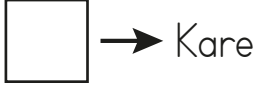


1.



Yukarıdaki verilen eşleştirmelerden kaç tanesi doğrudur?

A. 1 B. 2 C. 3

2.

- ★ Kenarı ve köşesi yoktur.
- 4 kenarının dördü de eşittir.

Yukarıdaki geometrik şekiller sırasıyla hangisinde verilmiştir?

- A. ★ = Çember ● = Kare
 B. ★ = Üçgen ● = Kare
 C. ★ = Kare ● = Üçgen

3. Aşağıdakilerden hangisinin köşesi ve kenarı **yoktur**?



4. Aşağıdaki seçeneklerde eşyaların benzedikleri geometrik şekiller altına yazılmıştır.

Hangisi **yanlış** bir eşleştirme olmuştur?




5.



Yukarıdaki verilen geometrik şekle göre ve sembolleri yerine aşağıdakilerden hangisi gelir?

- A. Kenar Kenar
 B. Kenar Köşe
 C. Köşe Kenar

6.



Yukarıdaki geometrik şekil ile ilgili aşağıdaki ifadelerden hangisi **yanlıştır**?


- A. Mavi renkli çizimler kenarları ifade eder.
 B. Kırmızı renkli simgeler şeklin köşelerini ifade eder.
 C. Şeklin adı karedir ve sadece iki kenarı birbirine eşittir.

7.



Yukarıdaki hediye kutusu kullanılarak aşağıdaki geometrik şekillerden hangisi çizilemez?

A.




B.



C.

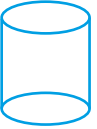


8.



Yukarıdaki daire, aşağıdaki geometrik cisimlerin hangisi kullanılarak çizilemez?

A.



B.



C.



9. Görselleri verilen nesnelere hangisinin kenarı ve köşesi yoktur?

A.



B.

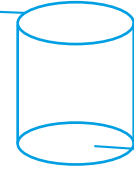


C.



10.

Ayrıntı



Köşe

Yüz

Yukarıdaki cisimde verilenlerden kaç doğrudur?

A. 1

B. 2

C. 3

11.



2 köşegeni vardır.



Bütün kenarları aynı uzunluktadır.



4 köşesi vardır.

Yukarıdaki öğrencilerden kaç tanesinin hem karenin hem de dikdörtgenin ortak bir özelliğini söylemiştir?

A. 1

B. 2

C. 3

12.



Yukarıdaki şekil için hangisi yanlıştır?

A. Bütün kenarları birbirine eşittir.

B. Dört kenarı vardır.

C. Köşe sayısı, üçgenin köşe sayısı ile aynıdır.