

1. Aşağıdakilerden hangisinin miktarı fincan ile ölçülür?



2. Aşağıdakilerden hangisi bardakla ölçülemez?



3.



Yukarıdaki kapları ağzına kadar su ile doldurduğumuzda kaç numaralı kap daha az su alır?

A. 1


B. 2

C. 3

4. Yandaki kova aşağıdakilerden hangisi ile daha geç dolar?



5. Aşağıdaki bardakların hangisinde görseldeki bardaktan daha az miktarda sıvı vardır?



6.



Kova ve tencerede eşit miktarda su vardır.


Buna göre aşağıdakilerden hangisi doğrudur?

A. Tencerede daha fazla su vardır.

B. Kova ve tenceredeki su miktarları eşittir.

C. Kova daha fazla su almıştır.


7. Hafta içi her gün 1 bardak ballı süt içen Can'ın toplamda tükettiği süt miktarı aşağıdaki görsellerden hangisi olamaz?




8. Sütçü Rıza, sütünü hangi kaba koyarsa süt daha az miktarda görünür?



9.



Yukarıda verilen elmalardan 1 sürahi elma suyu çıkmaktadır. 3 sürahi elma suyu çıkarmak için kaç tane elma kullanmak gerekir?



10.



Yukarıdaki kaplarla ilgili hangisi doğrudur?

- A. En az sıvıyı 1. kap alır.
B. 1. kap, 3. kaptan daha az sıvı alır.
C. En çok sıvıyı 2. kap alır.

sonerfoca.net

11.



Yukarıdaki kaplar az sıvı alandan çok sıvı alana doğru sıralandığında sıralama hangisi gibi olur?

- A. 1 - 3 - 2 B. 2 - 3 - 1
C. 3 - 1 - 2

12. Bir şurup şişesinden 6 çorba kaşığı şurup çıkıyorsa iki şurup şişesinden kaç çorba kaşığı şurup çıkar?

- A. 16 B. 10 C. 12