

1. 
Çorba prinç Ayran Sirke Şeker




Yukarıdaki kaselerin kaç tanesinin içinde sıvı vardır?


- A. 3 B. 4 C. 5

2.  Ali  Hasan

Yukarıda Ali ile Hasan'ın sürahileri ve bardakları verilmiştir.

Ali ve Hasan sürahilerinden birer bardak su boşalttıklarında Ali'nin ve Hasan'ın sürahilerindeki su seviyeleri sırasıyla aşağıdakilerin hangisindeki gibi olabilir?

- A.  B. 
C. 

3. 

Yukarıdaki sürahiden 6 bardak su çıkıyor.

Buna göre 12 bardak su için kaç sürahi su gerekir?

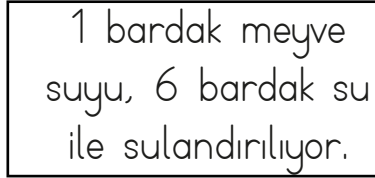
- A. 2 B. 3 C. 4

4. Ayça Hanım yandaki parfümü günde 3 kez kullanıyor.

10 gün sonra şişede kaç kullanımlık parfüm kalır?



- A. 25 B. 30 C. 10

5. 



Yukarıdaki konsantre meyve suyundan bir sürahiye 2 bardak döken Recep, kaç bardak su kullanmalıdır?

- A. 8 B. 10 C. 12

6. Bir boyacı, 1 sarı boyayı, 3 kutu beyaz boyayla karıştırmaktadır.



Sarı Boya

Beyaz Boya

Bu boyacı, 9 kutu beyaz boyayı, kaç kutu sarı boya ile karıştırır?

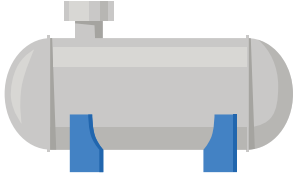
- A. 4 B. 3 C. 5

7. Yandaki kutudan 4 bardak süt çıkmıştır. 4 kutu süttten 6 bardak tüketildiğine göre geriye kaç bardak süt kalmıştır?



A. 10 B. 12 C. 9

8. Tamamen su ile dolu aşağıdaki su deposunun yarısı kullanılarak 9 kova su ile doldurulmuştur.



Buna göre bu su deposu kaç kova su almaktadır?

A. 18 B. 20 C. 36

9. Yandaki varilde 48 kova su bulunmaktadır. Varilden 19 kova su boşaldıktan sonra varile 6 kova daha su eklenmiştir. Varilde kaç kova su kalmıştır?



A. 32 B. 34 C. 35

10. Yandaki havuzda 21 kova su vardır. Havuza 4 çocuk girdiğinde 3 kova su boşalmaktadır. Havuz tam doluyken 8 çocuk havuza girdiğine göre havuzda kaç kova su kalmıştır?



A. 16 B. 15 C. 14

- 11.



Bir şişe süt ile 4 bardak doldurabiliyor. Ahmet hafta içi günde ikişer bardak, hafta sonu günde birer bardak süt tüketmektedir. Buna göre Ahmet bir haftada kaç şişe süt tüketir?

A. 5 B. 3 C. 4

- 12.



Yukarıdaki kova, yanında verilen bardaklara ayrı ayrı boşaltılırsa, en kısa sürede boşaltandan en uzun sürede boşaltana doğru sıralaması aşağıdakilerden hangisi olur?

A. 3, 1, 2 B. 1, 2, 3

C. 2, 3, 1