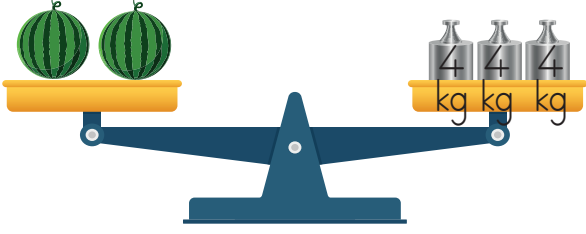


1.



Yukarıdaki terazi dengede olduğuna göre 1 karpuzun kütlesi kaç kilogramdır?

A. 2      B. 4      C. 6

Meyve		
Elma		16 kg
Kiraz		35 kg
Armut		28kg
Kayısı		19 kg

Erdem, ailesiyle birlikte bahçelerinde bir günde yukarıdaki tabloda verilen miktarlarda meyve toplamıştır. 2 ve 3. soruları grafiğe göre cevaplayalım.

2. Erdem'in topladığı meyvelerden hangi ikisinin kilosu diğerlerinden fazladır?

A.      B.      C.

3. Erdem toplam kaç kilogram meyve toplamıştır?

A. 90      B. 96      C. 98


4.



6 kilogram elma almak için 24 TL verdim.

Demir'in alışveriş yaptığı manavda elma, armuttan pahalı, muzdan ucuzdur.

Buna göre manavdaki meyvelerin kilogram fiyatları aşağıdakilerden hangisi olabilir?



A.      4              5              6  
 B.      5              4              3  
 C.      6              5              4


5. Şeker, un ve pirincin toplam ağırlığı 51 kilogramdır.



Buna göre pirinç kaç kilogramdır?

A. 16      B. 15      C. 18

6.



Zeynep ile Sila'nın kiloları toplamı Karan'ın kilosundan kaç kilogram eksiktir?

A. 2      B. 4      C. 6


7.



Yukarıdaki üç kutudaki muzların toplamı 93 kg olduğuna göre 3. kutuda kaç kg muz vardır?

A. 30 B. 23 C. 24

8.

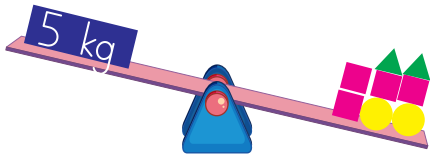


\_\_\_\_\_ en ağır çocuktur.  
\_\_\_\_\_ en hafif çocuktur.

Yukarıdaki verilene göre en ağır ve en hafif çocuklar hangi seçenekte verilmiştir?

A. Ceren- Efe  
B. Ayaz- Ceren  
C. Efe - Ceren

9.



▲ 1 kg ● 2 kg ■ Yarım kilogram

Yukarıda verilenlere göre tahterevallinin dengede durabilmesi için hangi ağırlıkların çıkarılması gerekir?

A. ● ■  
B. ▲ ▲ ■  
C. ▲ ●

10. 6 kişilik bir ailede dört kardeşin dijital basküldeki ağırlıkları aşağıdaki gibidir.

Canan	→	12 kg	
Sude	→	32 kg	
Kenan	→	24 kg	
Cenk	→	18 kg	

Buna göre ailedeki kardeşlerin ağırlıkları toplamı kaç kg'dır?

A. 86 B. 90 C. 148

11.



Bir miktar ayva 3 kg'lık ağırlık ile teraziye konduğunda şekildeki durum gerçekleşiyor.

Buna göre aşağıdaki ifadelerden hangisi **yanlıştır**?

A. Ayvalar 3 kilogramdan ağırdır.  
B. Denge sağlanması için ayvalara ekleme yapılmalıdır.  
C. 3 kg yerine 2 kg konulursa denge sağlanabilir.