

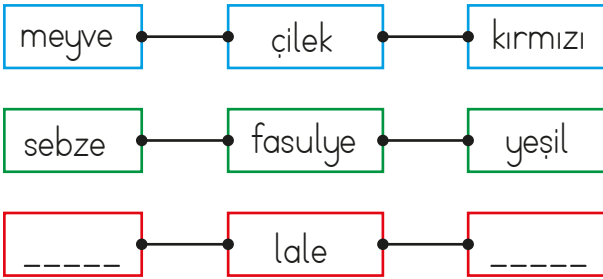
1.

Dünyada 4000 (dört bin) çeşit papatya türü vardır. Antartika hariç her kıtada papatyaya rastlanır. Türüne bağlı olarak 7 cm ile 120 cm arasında yüksekliğe erişebilirler. Papatyaların 4000 (dört bin) yıldan daha eski bir geçmişe sahip olduğu söylenir.

Yukarıdaki metne göre aşağıdakilerden hangisi söylenemez?

- A. Antartika'da papatya bulunur.  
 B. Yükseklikleri 120 cm'ye kadar ulaşabilir.  
 C. 4000 yıldan daha eski bir geçmişe sahip olduğu söylenir.


2.



Yukarıdaki sözcüklerin arasındaki ilişkiye göre noktalı bölümlere hangi seçenekler gelebilir?

- A. çiçek - sarı  
 B. beyaz - kırmızı  
 C. çiçek - bitki

3.



Görseldeki çocuklar, isimlerinin alfabetik sırasına göre sıralanacaktır. Çocukların sıralanışı aşağıdakilerden hangisi olmalıdır?

- A.
- B.
- C.

4.

zelzele	ödül
deprem	gıda
mükafat	besin

Tablodaki eş anlamlı sözcük çiftleri aynı sayılarla gösterilecektir. Buna göre tablonun son görünümü nasıl olur?

- A. 

1	3
1	2
3	2
- B. 

3	3
1	2
2	1
- C. 

2	1
3	3
1	2

5. Aşağıdaki sözcüklerden hangisinin zıt anlamlısının harf sayısı diğerlerinden farklıdır?

- A. kapalı      B. kısa      C. güzel

6.

Yukarıdaki tabloda kelimeler hece sayılarına göre gruplanmıştır. Hangi tabloda hata yapılmıştır?

- A. 1 B. 2 C. 3

7.

Yukarıdaki sayılardan kaç tanesi bir sonraki onluğa yuvarlanır?

- A. 2 B. 3 C. 4

8. Yüzlüğe yuvarlanmış hali 400 olan sayı aşağıdakilerden hangisi olamaz?

- A. 440 B. 445 C. 450

9.


Yukarıdaki eşleştirmelere göre



ile gösterilen doğal sayı hangisidir?

- A. 442 B. 424 C. 244

10.



Yukarıdaki sayı ile ilgili verilen bilgilerden hangisi yanlıştır?

- A. Yüzler basamağındaki rakamın basamak değeri 8'dir.  
B. Onlar basamağındaki rakamın sayı değeri ve basamak değeri aynıdır.  
C. Birler basamağındaki rakamın sayı değeri 7'dir.

11. Bir inşaat ustası, inşa edeceği her bina için belli sayıda çivi getirmiştir. Getirdiği çivilerin en yakın onluğu kadarını kullanmıştır. Örneğin; bina için 243 çivi getirmişse 240 tanesini kullanmıştır. Bazı binalarda çivi artarken bazı binalarda çivi sayısı eksik kalmıştır. Usta, inşa edeceği her bina için sırasıyla 843, 837, 822, 816, 807, 805, 819 çivi getirmiştir. Buna göre kaç binada çivi artmıştır?

- A. 1 B. 2 C. 3



12. 36A doğal sayısını en yakın onluğa yuvarladığımızda 370 sayısını vermektedir. Buna göre "A" yerine yazılabilecek rakamların toplamı kaçtır?

- A. 25      B. 35      C. 45

13. 

Yukarıdaki rakamlar birer kez kullanılacaktır. Bu rakamlarla önce üç basamaklı en büyük doğal sayı, daha sonra kalan rakamlarla iki basamaklı en küçük doğal sayı oluşturulacaktır. Oluşturulan sayılar sırasıyla hangi seçenekte verilmiştir?

- A. 875-12      B. 888-21      C. 125-87

14. 



Yukarıdaki sayılardan kaç tanesi kendisinden daha büyük yüzlüğe yuvarlanır?

- A. 3      B. 4      C. 5

15.



Dünya'nın  $\frac{3}{4}$  'ü sularla kaplıdır.

Dünya'mızın tamamını kara katmanı oluşturur.

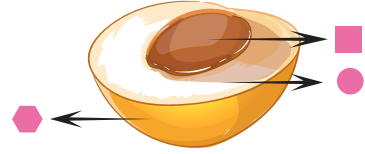


Dünya'nın şekli düz bir tepsiye benzemektedir.




Dünya'mızın yapısı ile ilgili yukarıdaki öğrencilerden hangilerinin ifadeleri yanlıştır?

- A. Deniz ve Okan  
B. Deniz ve Murat  
C. Murat ve Okan

16.



Yukarıdaki modelde sembollerle belirtilen yerler ile ilgili verilenlerden hangisi doğrudur?

- A.  ile belirtilen kısım, çekirdeği temsil eder.  
B.  ile belirtilen kısım, dış çekirdeği temsil eder.  
C.  ile belirtilen kısım, yer kabuğunu temsil eder.

17. Aşağıdakilerden hangisi su tabakası ile ilgili yanlış bilgidir?

- A. Balıkların yaşam alanıdır.  
B. Suların çoğunluğu tatlı sudur.  
C. Haritalarda mavi ile gösterilir.

18.



Ayşe

Arkadaşlarıma her zaman doğruyu söylerim.

Buna göre Ayşe için hangisini söyle-  
nebilir?

- A. Dürüştür.
- B. Kabadır.
- C. Agresiftir.

19.

pintilik

güven

iyi niyet

öfke



Buket arkadaşlarını seçerken nelere dikkat etmesi gerektiğini panoya as-  
mak istemektedir. Her özellik için bir  
iğne kullanacağına göre toplam  
kaç iğne kullanır?

- A. 4
- B. 3
- C. 2

20. Arkadaşlarımız arasında çıkan tartış-  
mada ..... yanında  
olmalıyız.

Yukarıdaki boşuğa hangisi gelmelidir?

- A. haksızlık yapanın
- B. sevdiğimiz arkadaşımızın
- C. haklı olanın