

1. Leylaklar, birçok türü bulunan bir ağaç türüdür. Soğuğa oldukça dayanıklıdır. Gölge yerleri severler. Yılın her mevsiminde dikilebilmesi çevremizdeki leylak ağacı sayısını artırmıştır. Leylak ağaçlarının anavatanları Balkan topraklarıdır. Genellikle bahçe ve parklara dikilir. Leylakların kokusu çok güzeldir. Oldukça uzaklardan leylakların kokusu alınabilir. Leylaklar 4 metreye kadar uzayabilirler. Leylak ağaçları kozmetik sektöründe ham madde olarak kullanılır.

(1 ve 2. soruyu yukarıdaki metne göre cevaplayalım.)

1. Metne göre aşağıdakilerden hangisi yanlıştır?

- A. Leylak ağaçlarının anavatanı Balkan topraklarıdır.
- B. Leylak ağaçlarının kokusu çok güzeldir.
- C. Leylak ağaçları kozmetik sektöründe ham madde olarak kullanılır.
- D. Leylak ağaçları sadece belirli mevsimlerde dikilebilir.

2. Metinde leylak ağaçlarının hangi özelliğinden bahsedilmemiştir?

- A. Boylarından
- B. Kokularından
- C. Ortalama yaşam sürelerinden
- D. Nerelere dikildiklerinden

3. Sevda Öğretmen, aşağıdaki kelimeleri tahtaya yazmıştır. Bu kelimelerden birden fazla anlamı olanların sayısını öğrencilere sormuştur.

Kelimeler :

- sıra
- hava
- kağıt
- yat
- ekmek
- bel

Buna göre Sevda Öğretmen'in sorduğu sorunun cevabı kaçtır?

- A. 2
- B. 3
- C. 4
- D. 5

4.



Engin

Proje hazırlama ekibi olarak 5 kişiydik. Bu süreçte Hasan bize önderlik etti. Her birimiz çesitli görevler aldık. Ben proje için birçok hikaye yazdım. Yazdığım hikayeleri öğretmenimiz çok beğendi.

Aşağıdakilerden hangisi yukarıdaki altı çizili sözcüklerden birinin eş anlamlısı değildir?

- A. türlü
- B. öykü
- C. lider
- D. vazife

5.

1 - maç

2 - maaş

3 - maşa

Yukarıdaki sözcüklerin sözlük sıralaması hangi seçenekte doğru olarak verilmiştir?

- A. 1 - 2 - 3
- B. 2 - 3 - 1
- C. 2 - 1 - 3
- D. 3 - 2 - 1

6. - Dil ve lehçe adları büyük harfle başlar.
- Devlet adları büyük harfle başlar.
- Gezegen ve yıldız adları büyük harfle başlar.

Yukarıda büyük harflerin kullanım alanları verilmiştir. Aşağıdaki cümlelerin hangisinde yukarıdaki durumlardan biri örneklendirilmemiştir?

- A. Bu yaz Almanca kursuna gideceğim.
B. Nahçıvan ile ülkemiz arasında Dilucu Sınır Kapısı yer alır.
C. Güneş sistemindeki en büyük gezegen Jüpiter'dir.
D. Ülkemizdeki en büyük dağ Doğu Anadolu Bölgesinde yer alır.

7.

6

3

7

8

9

Yukarıdaki rakamlarla oluşturulacak en küçük beş basamaklı sayının binler basamağının basamak değeri kaçtır?

- A. 3000 B. 7000
C. 6000 D. 8000
8. "Altı yüz kırk iki bin dört yüz beş" doğal sayısının rakamlarla yazılışı aşağıdakilerden hangisidir?
- A. 642405 B. 624504
C. 642505 D. 462405

9.

7	5	0	9	8
---	---	---	---	---

Yukarıda verilen sayının on binler ve onlar basamağının sayı değerleri toplamı kaçtır?

- A. 70009 B. 5090
C. 16 D. 12

10.

8750

8650

8550


8450

8350

8250

Ali, 8750'den başlayarak 6 kez ritmik sayma yapmıştır. Merve son sayıdan başlayarak bu saymayı devam ettirmiştir. Merve'nin 7. saymada söylediği sayı kaçtır?

- A. 7750 B. 7650
C. 7550 D. 7450

11. Yandaki tır ülkeler arası taşıma yapmaktadır. Bu tırın son yaptığı taşıma mesafesi;  rakamları farklı en küçük beş basamaklı çift sayı kadardır. Buna göre bu tırın taşıma yaptığı mesafe aşağıdakilerden hangisidir?

- A. 10204 B. 10234
C. 11234 D. 11550

12.



Rakamları birbirinden farklı dört basamaklı en küçük sayıdan başlayarak ileriye doğru **biner** ritmik sayma yaptım. 8. saymada durdum.

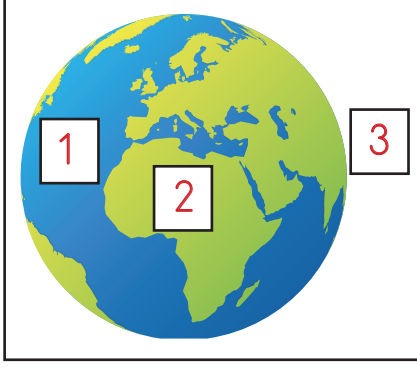


Rakamları birbirinden farklı dört basamaklı en büyük çift sayıdan başlayarak geriye doğru **yüzer** ritmik sayma yaptım. 11. saymada durdum.

Aşağıdaki sayı çiftlerinden hangisi yapılan ritmik saymalarda herhangi birinin söylediği sayılardan değildir?

- A. 2023 - 6023 B. 9476 - 9776 C. 5023 - 9023 D. 8876 - 9176

13.



Yukarıda Dünya'nın modellenmiş hali verilmiştir. Numaralarla belirtilen yerlerin bulunduğu katman aşağıdakilerden hangisinde doğru olarak verilmiştir?

- A. 1 → Kara Katmanı B. 1 → Su Katmanı
 2 → Su Katmanı 2 → Hava Katmanı
 3 → Hava Katmanı 3 → Kara Katmanı
- C. 1 → Hava Katmanı D. 1 → Su Katmanı
 2 → Su Katmanı 2 → Kara Katmanı
 3 → Kara Katmanı 3 → Hava Katmanı

14. Aşağıdaki ifadelerden hangisi yanlıştır?

- A. Dünya'da en fazla yer kaplayan katman su katmanıdır.
 B. Hava katmanının diğer adı atmosferdir.
 C. Su katmanında yaşayan hiçbir canlı kara katmanında yaşayamaz.
 D. Hava katmanında çeşitli gazlar bulunur.

15. "..... çözünerek petrol gibi çeşitli madenleri oluşturur." Yandaki cümlede boş bırakılan yere aşağıdaki kelimelerden hangisi gelmelidir?

- A. Sular B. Buzullar
 C. Fosiller D. Taşlar

16.

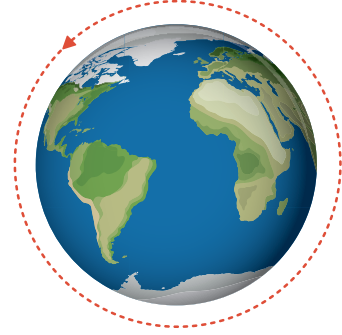


Fen Bilimleri kitabında birçok maddenin çıkarıldığı yeri öğrendim.

Aşağıdaki varlıklardan hangisi Kaan'ın bahsettiği varlıklardan birisi olamaz?

- A. toprak B. bor
 C. petrol D. altın

17.



Dünya'nın yukarıda modellenen hareketi ne kadar zamanda tamamlanır?

- A. 12 saat B. 24 saat
 C. 1 ay D. 1 yıl

18. Aşağıdaki ifadelerden hangisi yanlıştır?

- A. Resmi kimlik kartımız hangi ülke vatandaş olduğumuzu gösterir.
 B. T.C. kimlik kartımızda çeşitli bilgilerin yer aldığı bir çip bulunmaktadır.
 C. İkiz kardeşlerin T.C. kimlik numarası benzer olmak zorundadır.
 D. Her Türk vatandaşının resmi kimlik kartı bulunur.

19.



Yukarıdaki verilenlerden resmi kimlik belgemizde yer alan bilgilerin buldukları kutular boyanacaktır. Buna göre şeklin son görüntüsü aşağıdakilerden hangisi gibi olur?

- A.
- B.
- C.
- D.

20. Aşağıdaki ifadelerden hangisi yanlıştır?

- A. T.C. kimlik numaramız 10 haneli bir sayıdan oluşmaktadır.
- B. Her insanın parmak izi farklıdır.
- C. Yurt dışına çıkış işlemleri için pasaport kullanılır.
- D. Doğum tarihimiz resmi kimlik belgemizin ön kısmında yer alır.

ADI :

SOYADI :

SINIFI :

PUANI :

1	A	B	C	D
2	A	B	C	D
3	A	B	C	D
4	A	B	C	D
5	A	B	C	D
6	A	B	C	D
7	A	B	C	D
8	A	B	C	D
9	A	B	C	D
10	A	B	C	D
11	A	B	C	D
12	A	B	C	D
13	A	B	C	D
14	A	B	C	D
15	A	B	C	D
16	A	B	C	D
17	A	B	C	D
18	A	B	C	D
19	A	B	C	D
20	A	B	C	D