




 Aşağıdaki kutularda ülkemizin komşuları verilmiştir. Bu kutulardaki verilmeyen bilgileri yazalım.


 Ülke Adı : **İran**
Başkenti :
Sınır Kapımız :
Aldığımız Ürünler:
Sattığımız ürünler:

 Ülke Adı :
Başkenti :
Sınır Kapımız :
Aldığımız Ürünler:
Sattığımız ürünler:


 Ülke Adı :
Başkenti :
Sınır Kapımız :
Aldığımız Ürünler:
Sattığımız ürünler:

 Ülke Adı :
Başkenti :
Sınır Kapımız :
Aldığımız Ürünler:
Sattığımız ürünler:


 Ülke Adı :
Başkenti :
Sınır Kapımız :
Aldığımız Ürünler:
Sattığımız ürünler:

 Ülke Adı :
Başkenti :
Sınır Kapımız :
Aldığımız Ürünler:
Sattığımız ürünler:



 Ülke Adı :
Başkenti :
Sınır Kapımız :
Aldığımız Ürünler:
Sattığımız ürünler:



 Aşağıdaki ifadeler doğru ise (D), yanlış ise (Y) yazalım.

- İran, Avrupa kıtasında yer alan komşularımızdandır. Küresel olarak ortak bağlara sahip olduğumuz ülkelerden bir tanesi Özbekistan'dır.
- Gürcistan ile ülkemiz arasında Sarp Sınır Kapısı yer almaktadır. Bulgaristan, ülkemizin kuzeybatı sınır komşularından bir tanesidir.
- Azerbaycan'dan ülkemiz doğal gaz satın almaktadır. Türkiye'nin en uzun sınır komşusu Suriye bir Asya ülkesidir.
- Bir ülkenin başka bir ülkeden mal almasına ithalat denir. Ülkemizde olduğu gibi Türkmenistan'da da Nevruz Bayramı kutlanır.