



















 Aşağıda verilen ülkeleri buldukları kıtalara göre kutulara yazalım.

 Brezilya	 Japonya	 Amerika	 Arjantin
 Çin	 Gana	 Kenya	 Endonezya
 Meksika	 Güney Kore	 Şili	 Almanya
 Nijerya	 Avustralya	 Fransa	 Kanada
	 İtalya	 Yeni Zelanda	

Avrupa	Asya	K. Amerika	G. Amerika	Afrika	Avustralya
.....	.....	.....	.....	.....	.....
.....	.....	.....	.....	.....	.....
.....	.....	.....	.....	.....	.....

 Aşağıda boşlukları verilenlerden uygun olanları ile tamamlayalım.

 İtalya	 kıta	 İran	 Japonya	 Gürcistan
--------------------------------------------------------------------------------------------	------------------------------------------------------------------------------------------	------------------------------------------------------------------------------------------	----------------------------------------------------------------------------------------------	-------------------------------------------------------------------------------------------------

 Kiraz Çiçeklerinin ülkesi olarak adlandırılan ülke .....'dir.

 Sarp Sınır Kapısı ile kara yolu bağlantımızın olduğu ülke .....'dir.

 Kanalları ve köprüleriyle ünlü olan tarihi şehir Venedik, .....da bulunur.

 Dünya üzerindeki büyük kara parçalarına ..... denir.

 Başkenti Tahran olan komşumuz .....'dir.