


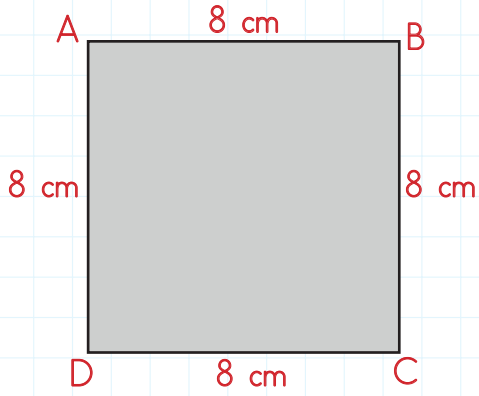
Aşağıdaki cümleleri okuyalım. Doğru olana (D), yanlış olana (Y) yazalım.

- Geometrik şekiller isimlendirilirken büyük harfler kullanılır.
- Dikdörtgenin üç kenarı vardır.
- İki kısa kenarı, iki uzun kenarı eşit olan geometrik cisme dikdörtgen denir.
- Karenin dört kenarı vardır ve bu dört kenarın uzunlukları birbirine eşittir.
- Geometrik şekiller köşelerine yazılan harflerle isimlendirilir.
- Geometrik cisimlerin kenar uzunlukları “ | | ” sembolü ile gösterilir.
- Üçgenin üç kenarı vardır.
- Her üçgenin kenar uzunlukları birbirine eşittir.

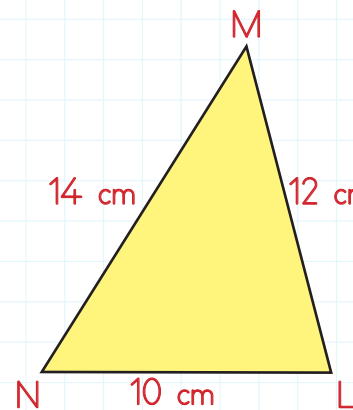
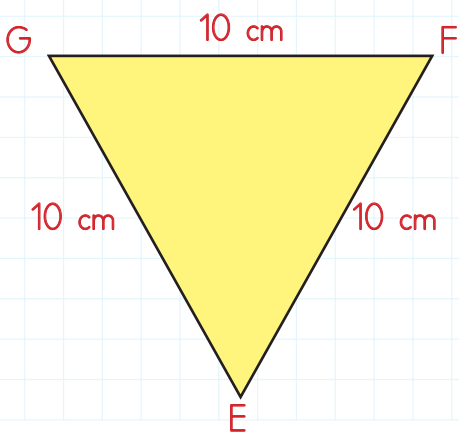
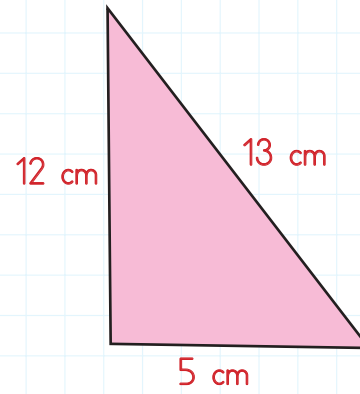
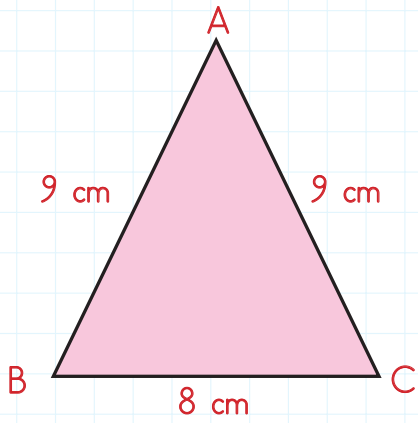
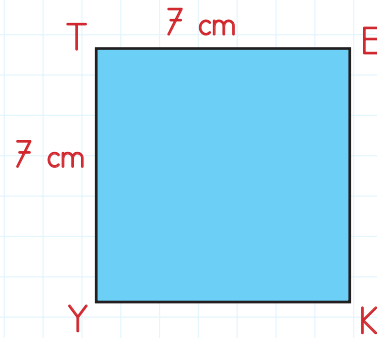
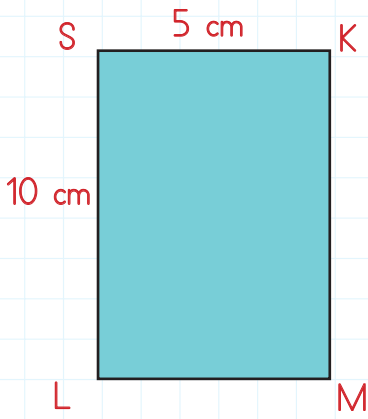
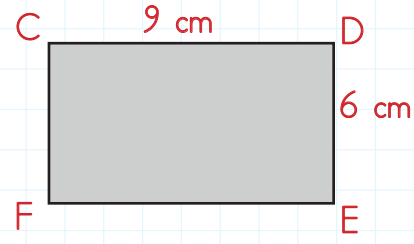
Aşağıdaki tabloda kare ve dikdörtgenlerin bazı özellikleri verilmiştir. Verilen özelliklerin hangilerine ait olduğunu işaretleyelim.

ÖZELLİKLER	DİKDÖRTGEN	KARE
↘ Dört kenarı vardır.		
↘ Dört köşesi vardır.		
↘ Tüm kenar uzunlukları birbirine eşittir.		
↘ Kenarları birer doğru parçasıdır.		
↘ İki köşegeni vardır.		
↘ Karşılıklı kenarları birbirine eşittir.		
↘ Tüm açıları dik açıdır.		
↘ Karşılıklı kenarları paraleldir.		

 Aşağıdaki geometrik cisimlerin kenar uzunluklarını örnekteki gibi yazalım.

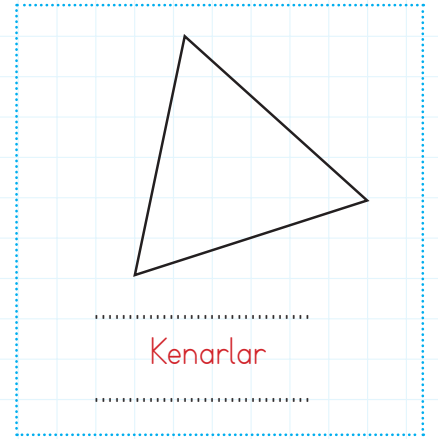
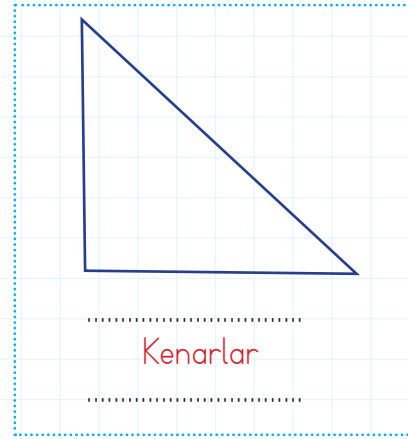
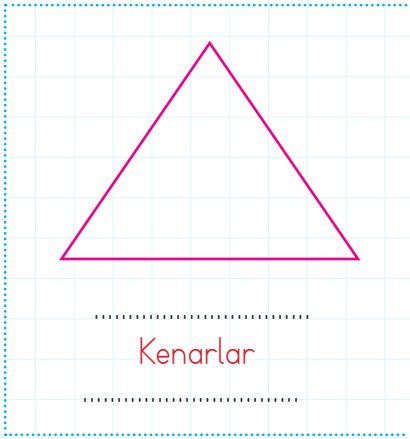
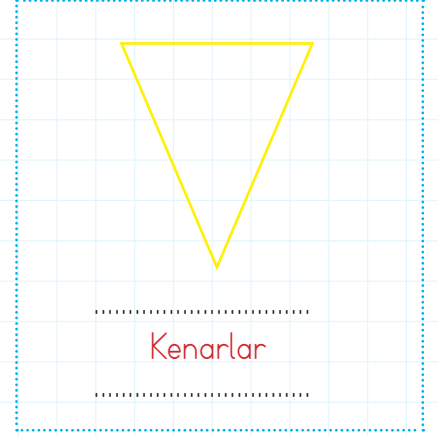
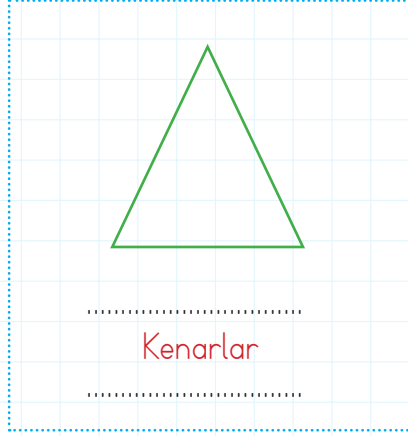
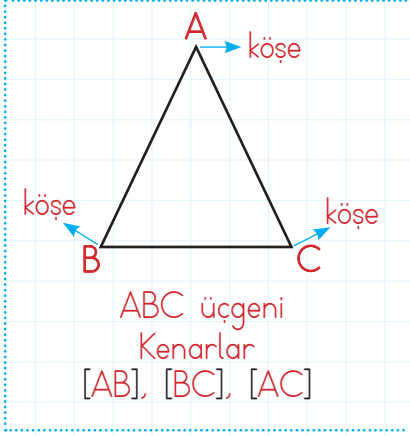


$|AB| = 8 \text{ cm}$
 $|BC| = 8 \text{ cm}$
 $|AD| = 8 \text{ cm}$
 $|DC| = 8 \text{ cm}$

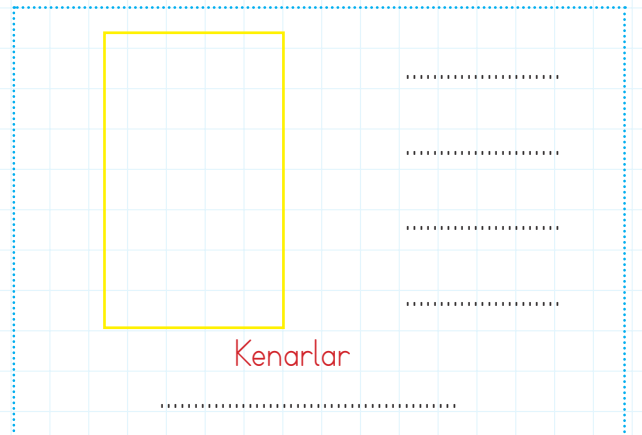
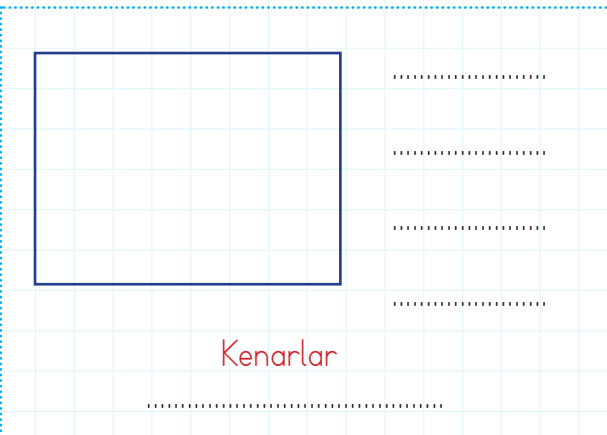
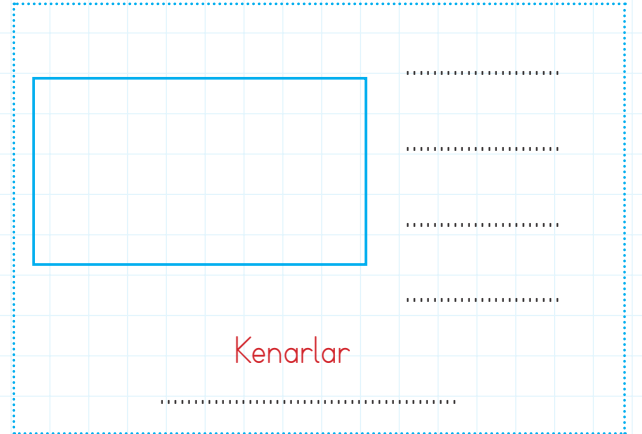
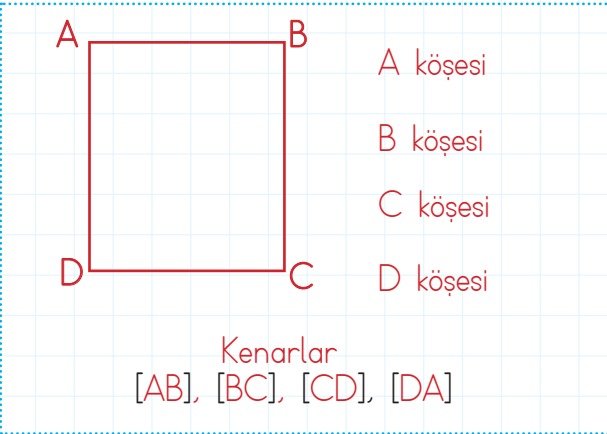




Aşağıdaki üçgenlerin isimlerini, köşelerini ve kenarlarını örnekteki gibi yazalım.



Aşağıdaki şekillerin köşelerini ve kenarlarını örnekteki gibi yazalım.



 Aşağıdaki geometrik cisimlerin kenarlarını örnekteki gibi isimlendirelim.

