

→ Aşağıda verilen uzunlukları örneklerdeki gibi dönüştürelim.

5x10

5 cm = 20 mm

7 cm = mm

9 cm = mm

15 cm = mm

23 cm = mm

35 cm = mm

46 cm = mm

53 cm = mm

60 cm = mm

30÷10

30 mm = 3 cm

50 mm = cm

70 mm = cm

90 mm = cm

100mm = cm

140mm = cm

220 mm = cm

330 mm = cm

370 mm = cm

→ Aşağıda verilen uzunlukları örneklerdeki gibi dönüştürelim.

8 cm 40 mm = 120 mm

10 cm 20 mm = mm

40 cm 60 mm = mm

70 cm 45 mm = mm

80 cm 50 mm = mm

100 cm 80 mm = mm

150 cm 35 mm = mm

180 cm 90 mm = mm

220 cm 98 mm = mm

248 mm = 24 cm 8 mm

290 mm = cm mm

310 mm = cm mm

540 mm = cm mm

670 mm = cm mm

700 mm = cm mm

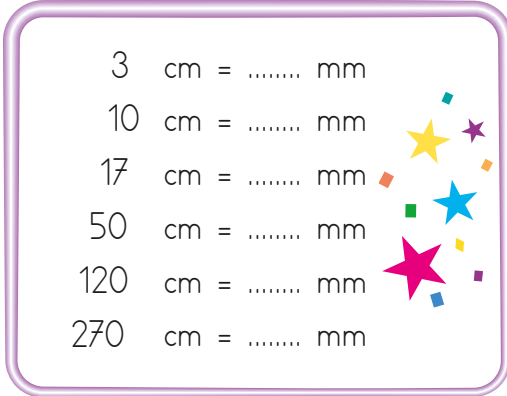
840 mm = cm mm

898 mm = cm mm

928 mm = cm mm

➔ Aşağıda verilen uzunlukları istenilen birime dönüştürelim.

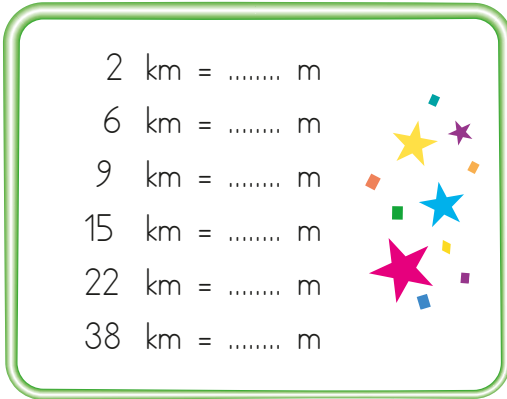
3 cm = mm
 10 cm = mm
 17 cm = mm
 50 cm = mm
 120 cm = mm
 270 cm = mm




50 mm = cm
 200 mm = cm
 500 mm = cm
 2000 mm = cm
 3000 mm = cm
 4250 mm = cm



2 km = m
 6 km = m
 9 km = m
 15 km = m
 22 km = m
 38 km = m




1000 m = km
 5000 m = km
 7000 m = km
 9000 m = km
 10000 m = km
 15000 m = km




➔ Toplama ve çıkarma işlemi şeklinde verilen uzunlukları istenen birim türünden yazalım.


8 mm + 5 cm = mm
 10 cm + 9 mm = mm
 15 cm + 22 mm = mm
 17 cm + 10 mm = mm



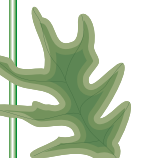
5 cm + 9 mm + 10 mm = mm
 10 cm + 10 mm + 6 mm = mm
 20 cm + 30 mm + 40 mm = cm
 30 cm + 50 mm + 10 mm = cm



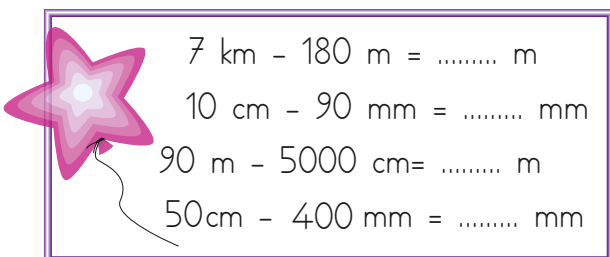
5 cm - 10 mm = cm
 6 m - 5 m = cm
 1 m - 800 cm = cm
 25 m - 2000 cm = cm




3 m + 1 cm + 30 mm = cm
 5 m + 10 cm + 50 mm = mm
 20 m + 50 cm + 500 mm = m
 10 cm + 40 cm + 80 mm = mm



7 km - 180 m = m
 10 cm - 90 mm = mm
 90 m - 5000 cm = m
 50 cm - 400 mm = mm



5 km + 60 m + 28 m = m
 10 km + 900 m + 100 m = km
 5 km + 800 m + 1200 m = km
 700 m + 3 km + 1300 m = km



➔ Aşağıdaki cisimlerin önce uzunluklarını tahmin edelim. Daha sonra ölçüp arasındaki farkı bulalım.

Cisim	Tahmin	Ölçüm	Arasındaki Fark
Kalemlerin boyu			
Defterinizin boyu			
Televizyonun boyu			
Telefonun boyu			
Kalemin boyu			
Çantanın boyu			
Babanızın boyu			
Masanın boyu			



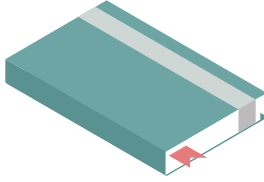
Buzdolabının boyu

Tahmin

..... cm

Ölçüm

..... cm



Defterin boyu

Tahmin

..... cm

Ölçüm

..... cm



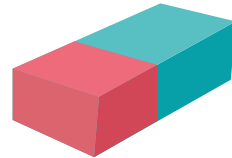
Bir karışın boyu

Tahmin

..... cm

Ölçüm

..... cm



Silginin eni

Tahmin

..... cm

Ölçüm

..... cm

➔ Tabloda verilen uzunlukları örnekteki gibi istenen birim türünden yazalım.

cm	mm
6	25
8	80
40	25
45	63
70	35

➔ 60 mm + 15 mm = 75 mm = 6 cm 25 mm

➔ mm + mm = mm = cm mm

➔ mm + mm = mm = cm mm

➔ mm + mm = mm = cm mm

➔ mm + mm = mm = cm mm

m	cm
8	100
6	150
9	80
10	145
15	350

➔ 800 cm + 100 cm = 900 cm = 9 m 50 cm

➔ cm + cm = cm = m cm

➔ cm + cm = cm = m cm

➔ cm + cm = cm = m cm

➔ cm + cm = cm = m cm

km	m
5	1700
8	1800
10	1285
14	3150
65	1800

➔ 5000 m + 1700 m = 6700 m = 6 km 700 m

➔ m + m = m = km m

➔ m + m = m = km m

➔ m + m = m = km m

➔ m + m = m = km m

➔ Dairelerdeki bazı ölçüler ortadaki ölçüye eşittir. Eşit olan ölçüleri bulup boyayalım.

