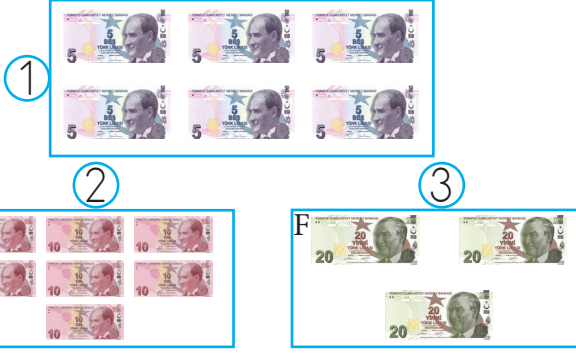


1.



Yukarıdaki kutulardan hangisinde para miktarı diğerlerinden fazladır?

A. 1 B. 2 C. 3

2. Aşağıdaki tabloda bir mağazada satılan ürünlerin fiyatları verilmiştir

Gömlek	36 TL
Tişört	22 TL
Ayakkabı	18 TL
Bere	32 TL

Elinde 65 Türk lirası olan Sude aşağıdaki ürünlerden hangisini satın alamaz?

A. Gömlek - Bere
B. Gömlek - Ayakkabı
C. Tişört - Bere

3.



Yukarıdaki kalemin fiyatı silgiden 2 lira fazladır.

Buna göre, 2 silgi, 2 kalem alan bir kişi satıcıya kaç lira öder?

A. 16 B. 18 C. 20

4.

Faruk	10 TL banknote, 5 TL banknote, 1 TL coin
Sedef	5 TL banknote, 1 TL coin, 1 TL coin, 1 TL coin
Nedim	20 TL banknote, 10 TL banknote, 1 TL coin, 1 TL coin

Yukarıdaki üç arkadaşın biriktirdikleri paralar verilmiştir. Tabloda verilene göre aşağıdakilerden hangisi yanlıştır?

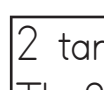
A. Faruk'un parası, Sedefin parasının iki katıdır.
B. En çok Nedim'in parası vardır.
C. Paraların toplamı 72 TL' dir.

5.



Eren

4 tane 5 TL, 4 tane 10 TL
1 tane 1 TL param var.



Gülay

2 tane 10 TL, 2 tane 20 TL
3 tane 5 TL param var.

Hangisi Eren ve Gülay için söylenemez?

A. Eren, Gülay'a 7 TL verirse paraları eşit olur.
B. Gülay'ın 73 TL'si vardır.
C. Paraların farkı 14 TL' dir.

6.



65 TL

Ela'nın 4 tane
20 lirası vardı.

Ela, parasıyla yukarıdaki ayakkabıyı alırsa kaç lira para üstü alır?

A. 15 B. 20 C. 25

7. Aşağıdaki tabloda verilen paralardan değeri eşit olanların bulunduğu kutucuk boyanacaktır.



- A.



 B.

 C.



8. Efe'ye bayramda 2 tane 20 TL, 4 tane 10 TL, 3 tane 5 TL harçlık verilmiştir.

Buna göre Efe, bayram harçlıkları ile aşağıdaki ürünlerden hangisini alamaz?



- A.

	
25 TL	25 TL

 B.

	
41 TL	54 TL

 C.

	
66 TL	30 TL

9. Yanda gösterilen para miktarının 4 lira etmesi için hangisi gereklidir?



- A.  B.  C. 

10. Annesi, Serhan'a her gün 9 TL harçlık verirken, Soner annesinden her gün Serhan'ın aldığı harçlıktan 3 TL daha fazla harçlık almaktadır.

Buna göre, Soner'in iki günde aldığı harçlık aşağıdakilerden hangisidir?

- A.

				
--	---	---	---	---

 B.

			
--	---	---	---




 C.

			
--	---	---	---







sonerhoca.net

11. Aşağıdaki sandıkların hangisinde bulunan toplam para 50 lira-dan azdır?






- A.






 B.

 C.

12.  Aylık 90 TL harçlık alıp 30 TL tasarruf yapıyorum.

Buna göre Şeyda kış mevsiminde kaç lira tasarruf yapmıştır?

- A. 70 B. 80 C. 90