

Okul Müdürü Mustafa Bey, okulda öğrencilerin yaralanmadan oynaması için birtakım kurallar hazırlamıştı. İlk olarak binanın koridorlarında koşmayı yasaklamıştı. Çünkü öğrenciler bina içinde koştuğu zaman kaza kaçınılmaz oluyordu. Daha sonra okul bahçesinde izin verilen alanlarda oynayacaktı. Ayrıca öğrencilerin birbirine zarar verebileceği oyunlar dışında öğretmenlerinin öğrettiği oyunları oynamalarını istemişti.



1 ve 2. soruları metne göre cevaplayalım.

- Okul müdürü niçin birtakım kurallar hazırlamış?
  - Derslerde başarının artması için
  - Öğrencilerin yaralanmadan oynaması için
  - Öğrencilerin eğlenmesi için
- Okulda kaza ne zaman kaçınılmaz oluyormuş?
  - Öğrenciler bina içinde koştuğu zaman
  - Oyun dersinde
  - Tören ve kutlamalarda

3.



Oley( ) Amcam( ) teyzem ve halam yarın bize gelecek( )

Yukarıdaki cümleye sırasıyla hangi noktalama işaretleri konulmalıdır?

- ( ! ) ( ! ) ( . )
- ( ! ) ( , ) ( . )
- ( . ) ( , ) ( ! )

senerhoca.net

4.

“Tutsak hayvan çok üzgün görünüyordu.”



Yukarıdaki cümledeki altı çizili sözcüğün eş ve zıt anlamlıları hangi seçenekte verilmiştir?

- üzgün x mutlu
- esir x özgür
- ceza x ödül

5.

Çok çikolata yediği ..... karnı ağrıdı.


Yukarıdaki cümlede noktalı yere hangisi yazılmalıdır?

- için
- çünkü
- fakat

6.  $\left\{ \begin{array}{l} \text{koşarak} \\ \text{odaya} \end{array} \right\}$   
 $\left\{ \begin{array}{l} \text{girdi} \\ \text{Buse} \end{array} \right\}$


Yukarıdaki sözcüklerle oluşan anlamlı ve kurallı cümle hangisidir?


- A. Buse odaya girdi koşarak.  
 B. Odaya Buse koşarak girdi.  
 C. Girdi Buse koşarak odaya.

7. 

Yukarıda yüzen çocuklar ile ilgili hangi ifade yanlıştır?

- A. Elif, Esmâ'yı geçerse üçüncü olur.  
 B. Ali, Esmâ'nın önündedir.  
 C. Murat son sıradadır.

8.   $3 - 6 - 9 \dots\dots\dots$   
 Nazlı

-   $4 - 8 - 12 \dots\dots\dots$   
 Ufuk

Nazlı ve Ufuk ritmik sayma yapmaktadır. Buna göre Nazlı'nın 8. saymada söylediği sayıyı Ufuk kaçınıcı saymada söyler?

- A. 8      B. 7      C. 6

9. Bir çiftçi bahçede ayrılan bölümlere sıra ile dörder salatalık tohumu atmaktadır.



Çiftçi bahçedeki altıncı bölüme de tohum attıktan sonra 24 tohumu kalmıştır. Buna göre en başta kaç tohumu vardır?

- A. 40      B. 44      C. 48


10.



Yukarıdaki baskül bozuk olup ölçüm sonucunu en yakın onluğa yuvarlayıp göstermektedir. Bu baskülde Alp 20, Asu 30, Efe 40 kilogram olarak ölçülmüştür. Buna hangi ifade yanlıştır?

- A. Alp en fazla 24 kilogram olabilir.  
 B. Asu en az 25 kilogram olabilir.  
 C. Efe 45 kilogram olabilir.

11.



Eda, 70'e yuvarlanan sayıları daire içine alacaktır. Buna göre kaç tane sayıyı daire içine alır?

A. 3 B. 5 C. 4

12.

2 deste cevizin bir basamaklı en büyük sayı kadarını yedim. Geriye kaç ceviz kaldı?

A. 11 B. 18 C. 16

13.

Aşağıdaki ifadelerden hangisi yanlıştır?

- A. Okulda kullanılan başlıca kaynaklar elektrik ve sudur.  
 B. Kalorifer açıkken pencereler açılabilir.  
 C. Kaynakları elde etmek zordur ve tüketilebilir.

14.

Gereksiz yere para, zaman, emek vb. harcama.

Yukarıdaki tanımı yapılan ifade hangisidir?

A. verim B. tasarruf C. israf

15. Yanda verilen görsel ile ilgili aşağıdakilerden hangisi söylenemez?



- A. Su, temizlikte kullandığımız temel ihtiyacıdır.  
 B. Su kaynakları sınırsızdır.  
 C. Suyu gereksiz kullanmak geleceğimiz için tehlikelidir.

ADI SOYADI : .....

SINIFI : .....

PUANI : .....

1	A	B	C
2	A	B	C
3	A	B	C
4	A	B	C
5	A	B	C
6	A	B	C
7	A	B	C
8	A	B	C
9	A	B	C
10	A	B	C
11	A	B	C
12	A	B	C
13	A	B	C
14	A	B	C
15	A	B	C