

Cumhuriyet Bayramı her yıl 29 Ekim 1923'te coşku ile kutladığımız milli bayramlarımızdandır. Mustafa Kemal Atatürk, yurdumuzu işgal etmeye çalışan düşmalara karşı zafer kazanmış, silah arkadaşlarını Çankaya'daki evine toplamıştı. Arkadaşlarına, "Yarın cumhuriyeti ilan ediyoruz." demişti. O gece hazırlanan metin mecliste onaylanınca artık yönetim şekli cumhuriyet olmuştu. Meclisin dışındaki halk "Yaşasın cumhuriyet!" diyerek yeni yönetim şeklini kutlamıştı.



1 ve 2. soruları metne göre cevaplayalım.

1. Cumhuriyet Bayramı ne zaman kutlanır?

- A. 30 Ağustos'ta
- B. 29 Ekim'de
- C. 10 Kasım'da

2. Atatürk, cumhuriyetin ilanı için arkadaşları ile nerede toplanmış?

- A. Mecliste
- B. Savaş meydanında
- C. Çankaya'daki evinde

3.




Faruk elindeki hayvan görsellerinin isimlerini alfabetik sıraya göre dizmek istemiştir. Buna göre aşağıdaki ifadelerden hangisi yanlıştır?

- A. 3 ve 4 yer değiştirmeli
- B. 3 numaralı görsel yerine fil konulabilir
- C. 2 ve 3 yer değiştirmeli

sonerhoca.net

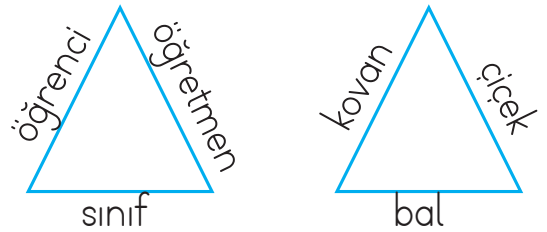
4.



Yukarıda harfleri karışık olan verilen sözcüklerin hangisinin zıt anlamlısı aşağıda verilmemiştir?


- A. kuru
- B. bayat
- C. genç

5.




Üçgenlerin içine kenarlarında yazan sözcüklerin çağrıştırdıkları resimler konulacaktır. Hangisi bu resimlerden biri olamaz?

- A. Arı
- B. Okul binası
- C. Helikopter

6.  Okula niçin gelmediğini bilmiyorum

Yukarıdaki cümle için aşağıdakilerden hangisi söylenemez?

- A. Soru cümlesidir  
B. Sonunda nokta olmalıdır  
C. Kurallı cümledir

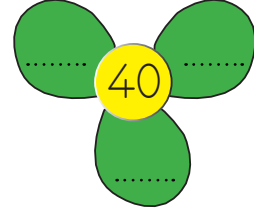
7.  Okul numaram 3 desteden 6 fazladır.  
Ömer  
Okul numaram 5 onluk 2 birlikten oluşmaktadır.  
Defne

Çocukların ifadelerine göre hangisi yanlıştır?

- A. Ömer ile Defne'nin okul numaraları toplamı 88'dir.  
B. İki öğrencinin okul numaralarının en yakın onlukları toplamı 80'dir.  
C. Ömer'in okul numarasının onlar basamağında 3 rakamı bulunur.

sonerhoca.net

8.



Yukarıdaki çiçeğin yapraklarına en yakın onluğu 40 olan sayılar yazılacaktır. Buna göre aşağıdakilerden hangisi bu sayılardan biri olamaz?

- A. 35      B. 38      C. 45

9.

$$\begin{array}{r} 31 \\ +14 \\ \hline \square \end{array} \quad \begin{array}{r} \square \\ +13 \\ \hline \square \end{array} \quad \begin{array}{r} \square \\ +33 \\ \hline \square \end{array}$$

Yukarıdaki toplama işlemleri yapılarak tamamlandığında son toplam kaç olur?

- A. 91      B. 93      C. 88

10.



Yukarıdaki 4 kardeş üçer yıl ara ile doğmuştur. Ayrıca 3. sıradaki çocuğun yaşı en büyük rakama eşittir.

Yukarıdaki ifadeye göre kardeşlerden en büyük ve en küçük olanın yaşları toplamı kaçtır?

- A. 13      B. 15      C. 20

11.



$$\begin{array}{c} 26 + 37 \\ \textcircled{1} \end{array} \quad \begin{array}{c} 18 + 41 \\ \textcircled{2} \end{array}$$

$$\begin{array}{c} 33 + 20 \\ \textcircled{3} \end{array}$$

Yukarıdaki işlemlerden hangisinin sonucu 5 desteden 3 fazladır?

A. 1      B. 2      C. 3

12.

Okuldaki pikniğe 19 erkek, erkek sayısından 8 fazla kız öğrenci katılmıştır. Pikniğe katılan öğrenci sayısı kaçtır?

A. 38      B. 40      C. 46

13.

Öğretmenimizin verdiği etkinlik için oy birliği ile 4 kişilik grup oluşturduk.



Yukarıdaki ifade hangi değerden bahsedilmiştir?

A. paylaşım      B. sabır      C. adalet

14.



Fuat

Lütfen, silgini kullanabilir miyim?

Yukarıdaki öğrencinin arkadaşısı ile iletişime bakarak hangisi öğrenci için söylenebilir?

A. planlıdır      B. kibardır  
C. dikkatsizdir

15. Aşağıdaki öğrenci davranışlarından hangisi yanlıştır?

- A. İletişim kurarken kibar olmak  
B. İsteklerini ifade ederken emir vererek konuşmak  
C. Sınıf içinde karar alırken tüm görüşlere saygı duymak

ADI SOYADI : .....

SINIFI : .....

PUANI : .....

1	A	B	C
2	A	B	C
3	A	B	C
4	A	B	C
5	A	B	C
6	A	B	C
7	A	B	C
8	A	B	C
9	A	B	C
10	A	B	C
11	A	B	C
12	A	B	C
13	A	B	C
14	A	B	C
15	A	B	C