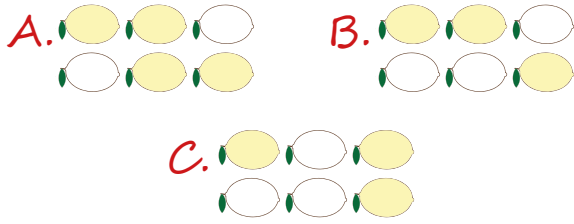


Yukarıdaki limonların içinde sözcükler yazılmıştır. Zıt anlamlı sözcüklerin yazıldığı limonları boyarsak son görünümü nasıl olur?



7. Çözümlemiş hali;

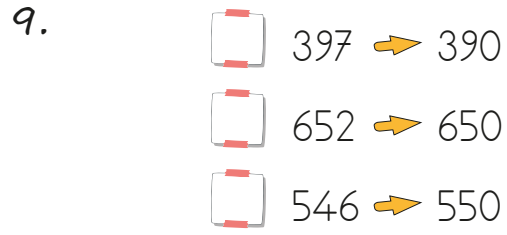
$$100+100+100+100+10+10+10+10+1+1$$

şeklinde olan sayı hangisidir?

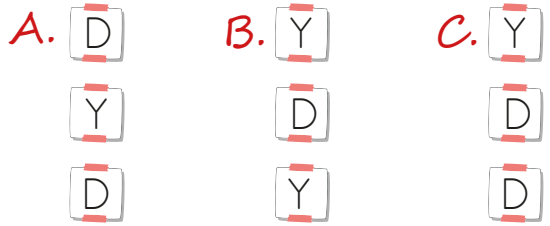
A. 441 B. 432 C. 442

8. $3 \star 6$ sayısının en yakın onluğa yuvarlanmış hali 360 olduğuna göre \star yerine hangi rakam gelmelidir?

A. 5 B. 6 C. 4



Yukarıdaki sayılar en yakın onluklara yuvarlanmıştır. Doğru, yanlış olarak yazdığımızda hangi sıralama oluşur?



10. Kural: altı artan iki azalan örüntü



Yukarıdaki örüntü kuralına göre sembollerin yerine gelecek sayıların toplamı kaçtır?

A. 172 B. 160 C. 154

11. Yandaki tabloda sayılar ve harfler verilmiştir.

Çiğdem Öğretmen, öğrencilerine;

- A1 sayısının onlar basamağındaki rakamı
- B1 sayısının yüzler basamağındaki rakamı
- B2 sayısının birler basamağındaki rakamı

kullanarak üç basamaklı en büyük sayıyı oluşturmalarını söylemiştir. Buna göre hangisi Çiğdem Öğretmen'in oluşturulmasını istediği sayıdır?

A. 643 B. 875 C. 952

	1	2
A	247	305
B	682	593

12. $157 < 189 < 170 < 216 < 305$

Yukarıdaki sıralamanın doğru olabilmesi için iki sayının yerinin değiştirilmesi gerekmektedir. Değişmesi gereken sayıların yüzler basamaklarının basamak değerleri toplamı kaçtır?

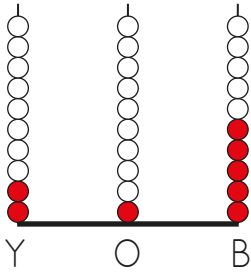
- A. 200 B. 300 C. 400

13. $(200+10+5) < \dots\dots\dots < (200+30+5)$

Yukarıdaki boşluğa yazılabilecek en büyük ve en küçük sayıların toplamı kaçtır?

- A. 875-12 B. 888-21 C. 125-87

14.



Yukarıdaki abaküsün onlar basamağına 3 boncuk eklendikten sonra birler basamağından 1 boncuk çıkarılmıştır. Son durumda oluşan sayının en yakın yüzlüğü kaçtır?

- A. 240 B. 250 C. 210

15.

Dünya üzerinde sular karalardan daha fazla yer kaplamaktadır.

Dünya'nın yaklaşık % 71'i (yüzde yetmiş biri) kara, % 29'u (yüzde yirmi dokuzu) sudur.

Okyanus, deniz, göl, akarsu ve yer altı suları ise su katmanını oluşturur.

Yukarıdaki bilgilerden kaç tanesi doğrudur?

- A. 1 B. 2 C. 3

16.

En sıcak katmandır.

Canlıların yaşadığı katmandır.

Aşağıdaki katmanlarla yukarıda verilen özellikleri eşleştirildiğinde hangi katman bu eşleştirmenin dışında kalır?

- A. Manto
B. Çekirdek
C. Yer kabuğu

17. Aşağıdaki katmanlardan hangisi daha içtedir?

- A. Dış çekirdek
B. Yer kabuğu
C. Manto

18. Kroki ile ilgili aşağıdakilerden hangisi söylenemez?

- A. Sınıfımızın krokisini çizebiliriz.
- B. Krokiye ölçek konulur.
- C. Bir yerin kuşbakışı görünümünün kabataslak çizimidir.

19.

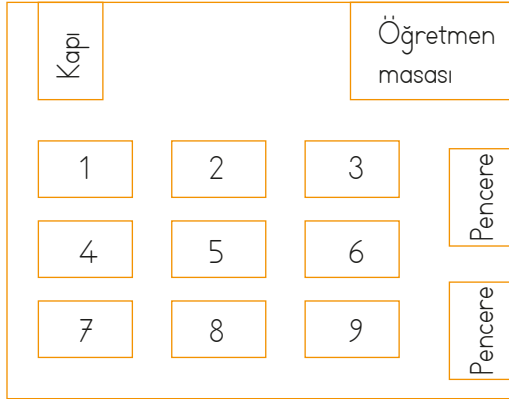


Arkadaş seçiminde dikkat edilmesi gerekenler vardır.

Hangisi kardan adamın ifadesiyle ilgili değildir?

- A. Yardımseverlik
- B. Adalet
- C. Fiziksel özellikler

20.



Ali, öğretmene en yakın sırada oturmaktadır. Furkan ise kapı tarafında Sibel ile Elif'in arasındaki sırada oturmaktadır. Buna göre hangisi söylenemez?

- A. Furkan, 4 numaralı sırada oturmaktadır.
- B. Elif, 9 numaralı sırada oturmaktadır.
- C. Ali, 3 numaralı sırada oturmaktadır.

ADI:

SOYADI:

SINIFI:

PUANI:

1	A	B	C
2	A	B	C
3	A	B	C
4	A	B	C
5	A	B	C
6	A	B	C
7	A	B	C
8	A	B	C
9	A	B	C
10	A	B	C
11	A	B	C
12	A	B	C
13	A	B	C
14	A	B	C
15	A	B	C
16	A	B	C
17	A	B	C
18	A	B	C
19	A	B	C
20	A	B	C