

1.

Bahar, önce domates ve biberleri doğramaya başladı. Ardından tavayı ocağın üstüne koydu. Ocağın altını açtıktan sonra tavaya yağ döktü. Doğradığı biber ve domatesleri tavaya attı. Ardından yumurtaları bir kaseenin içine kırdı. Üstüne baharatlarını attı ve yumurtaları çırpmaya başladı. Çırdığı yumurtaları tavaya döktü ve pişirdi. Menemen yenmeye hazırды.

Yukarıdaki metne en uygun başlık hangisidir?

- A. Menemenin Yapılışı
B. Menemenin Özellikleri
C. Menemenin Tarihçesi

2.



abla

.....

araba

Mantarin elindeki sözcükler alfabetik sıraya göre sıralanmıştır.

Buna göre boş bırakılan yere hangisi yazılabilir?

- A. bardak
B. aşçı
C. akıl

3.

zelzele



nehir



deprem



ırmak



dere



Sembollerle verilen sözcükler eş anlamlarıyla eşleştirildiğinde hangi sözcük dışarıda kalır?

- A. ▲ B. ⬡ C. ★

4.

Sözcük

Zıt Anlamlısı



İri



Ufak



Zengin



İrak



Kalabalık



Tenha



Yakın



Yoksul

Bu eşleştirmelerin doğru olabilmesi için tabloda hangi sembolle belirtilen sözcükler yer değiştirmelidir?

- A. ⬡ ve ▼
B. ★ ve ⬡
C. ■ ve ▲

5.

Aşağıdaki sözcük çiftleri oluşturulurken aralarında anlam ilişkisi bulunmasına dikkat edilmiştir.

1.	hasret	özlem
2.	derin	siğ
3.	birey	fert

Numaralandırılmış sözcük çiftlerinin hangisinde kurulan anlam ilişkisi diğerlerinden farklıdır?

- A. 1 B. 2 C. 3

6. Okan, diyerek insanların duygu, yetenek ve benzeri konularda birbirinden farklı olabileceğini ifade etmiştir.




Yukarıda ifadede boş bırakılan boşluk hangi atasözü ile tamamlanmıştır?

- A. beş parmağın beşi bir olmaz
B. nerede birlik, orada dirlik
C. akıl akıldan üstündür


7.

$24 + 15$	$31 + 29$	$16 + 14$
$50 + 22$	$12 + 47$	$36 + 23$

Tabloda verilen toplama işlemlerinden "çift sayı ile tek sayının toplamı tek sayıdır" kuralına uygun olanı boyarsa şeklin son görünümü nasıl olur?

- A.  B. 
C. 

8.



Yukarıdaki örüntü devam ettirildiğinde boş kutulara gelen sayılardan tek olanları boyanacaktır. Boyanan sayıların toplamı kaçtır?

- A. 132 B. 156 C. 180

9. Sedef, 42'den başlayarak ileriye doğru yedişer ritmik sayma yapmaktadır. Sedef, hangi sayıyı söylemez?

- A. 63 B. 77 C. 82

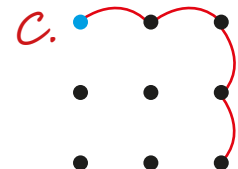
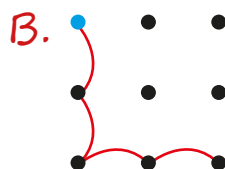
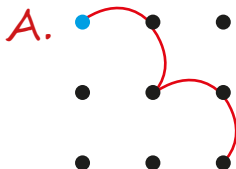
10. 43 ile 60 sayıları arasındaki en küçük sayıdan başlayarak ileriye doğru beşer ritmik saydığımızda 6. saymada hangi sayıyı söyleriz?

- A. 70 B. 68 C. 69

11. Kurbağa, mavi noktadan başlayarak aşağıdaki kurallara göre sıçrayacaktır.

- Sayıların toplamı tek ise sağa
- Sayıların toplamı çift ise aşağı doğru sıçrayacaktır.

Buna göre hangi seçenekte kurbağanın sıçrama hareketleri doğru gösterilmiştir?



1. $15 + 21$
2. $14 + 38$
3. $20 + 13$
4. $19 + 16$

12.

8	0	3	6	4
---	---	---	---	---

Yukarıdaki rakamları birer defa kullanarak oluşturulabilecek üç basamaklı en büyük tek sayı aşağıdakilerden hangisidir?

A. 864 B. 863 C. 883

13.

4	IX
16	XVI
9	XIII
	IV

Yukarıdaki sayılarla romen rakamları eşleştirildiğinde hangisi dışarıda kalır?

A. XVI B. XIII C. IX

14.

● ●	● ●	● ● ●
Y	O	B

Yukarıdaki gibi modellenen sayıdaki 3 boncuğun yeri değiştirilerek en küçük sayı oluşturulacaktır. Oluşturulan sayının romen rakamlarıyla ifade edilişi hangisidir?

A. VIII B. XX C. XVI

15. Belma, çiçeğin yapraklarına kara tabakasında bulunan maddeleri yazmak istemiştir.



Bazı kısımlarda hata yapmıştır. Hatalı olan maddelerin yazılı olduğu yapraklar koparıldığında çiçeğin kaç yaprağı kalır?

A. 1 B. 2 C. 3

16. Gözleri kapalıydı. Ona uzatılanın gül olduğunu anlamıştı. Gözleri kapalıyken ve dokunmadan ona uzatılan şeyin gül olduğunu nasıl fark etmişti?

Yukarıdaki durumda kişi, ona uzatılanın gül olduğunu hangi duyu organıyla anlamış olabilir?

A. Burun B. Deri C. Göz

17. - Çevremizdeki sesleri işitmemize yardımcı olan organımızdır.

- Çevremizdeki varlıkları görmemize yarayan organımızdır.

- Acı, ekşi, tatlı, tuzlu, bütün tatları algılamamızı sağlar.

Hangisi yukarıda verilen duyu organlarından biri değildir?

A. Dil B. Kulak C. Deri

18.	Kasap	Market
	Manav	Berber

Yukarıdaki krokiye göre hangisi marketin batısındadır?

- A. Kasap B. Manav C. Berber

19. Toplumdaki bireylerin birbirlerine karşı daha duyarlı olmasını sağlar.
 Kendimizi ve çevremizi tanımamızı sağlar.
 Toplumdaki bireylerin birbirlerine karşı daha saygılı olmasını sağlar.

Yukarıdaki ifadelerden okulun toplumsal katkılarıyla ilgili olanlar işaretlenirse son görünümü nasıl olur?

- A.

20.	saygılı	duyarlı	anlayışlı
	kindar	kötü	bencil

Okul, toplumdaki bireylerin birbirlerine karşı daha olmasını sağlar.

Yukarıdaki ifade kaç tanesiyle tamamlanabilir?

- A. 3 B. 4 C. 5

ADI:

SOYADI:

SINIFI:

PUANI:

1	A	B	C
2	A	B	C
3	A	B	C
4	A	B	C
5	A	B	C
6	A	B	C
7	A	B	C
8	A	B	C
9	A	B	C
10	A	B	C
11	A	B	C
12	A	B	C
13	A	B	C
14	A	B	C
15	A	B	C
16	A	B	C
17	A	B	C
18	A	B	C
19	A	B	C
20	A	B	C