









16. 5688, 4785, 6236, 2653, 5236

Ahmet, yukarıdaki sayıları büyükten küçüğe sıralamış son iki sayıyı toplamıştır. Buna göre Ahmet'in bulduğu sonucun en yakın onluğu kaçtır?


 Çözüm:

19. 
$$\begin{array}{r} 3123 \\ + 2183 \\ \hline \end{array}$$
 
$$\begin{array}{r} \text{ } \\ + 3464 \\ \hline \end{array}$$

Yukarıdaki sıralı toplama işleminde  sembolünün yerine gelmesi gereken sayı kaçtır?


 Çözüm:

17. 3 toplananlı bir toplama işleminin 1. ve 2. toplananının toplamı 2585 sayısına eşittir. Toplam 9500 olduğuna göre 3. toplanan kaçtır?

 Çözüm:


18.  2444 lira  1815 lira  ?


Mehmet Bey, bir mağazadan yukarıdaki ürünleri almış 7865 lira ödemiştir. Buna göre Mehmet Bey'in bilgisayara ödediği tutar kaç liradır?

 Çözüm:

20. 
$$625 + 325 = \text{★}$$
 
$$\text{★} + 988 = \text{◆}$$

$$\text{◆} + \text{●} = 4750$$

Yukarıdaki sıralı toplama işleminde  sembolünün yerine gelmesi gereken sayı kaçtır?

 Çözüm: