

Güneş sistemindeki gezegenlerden biri olan Neptün gezegeni, Dünya'mıza en uzak gezegendir. Katı yüzeyi bulunmamaktadır. En soğuk gezegen olarak da bilinmektedir. Sıcaklık düzeyi çok düşük olduğu için yaşama elverişli değildir. 1846 yılında keşfedilen bu gezegen matematiksel tahminlerle keşfedilen ilk gezegen olma özelliği taşımaktadır. Neptün gezegeninin 14 uydusu bulunmaktadır. Kendi etrafındaki dönüşü çok hızlıdır. Bu gezegen Güneş sistemindeki gezegenlerden Uranüs ile benzerlik gösterir.

(1 ve 2. soruyu yukarıdaki metne göre cevaplayalım.)

1. Yukarıdaki metne göre aşağıda verilen bilgilerden hangisi yanlıştır?

- A. Dünya'mıza en yakın gezegen Neptün gezegenidir. —
- B. Neptün gezegeninin birçok uydusu bulunmaktadır. ✓
- C. Neptün gezegeninin benzerlik gösterdiği gezegenler vardır. ✓
- D. Neptün gezegeni oldukça soğuktur. ✓

2. Verilen metinde aşağıdakilerden hangisinden bahsedilmemiştir?

- A. Neptün'ün uydu sayısından ✓
- B. Neptün'ün sıcaklık durumundan ✓
- C. Neptün'ün keşfedilme tarihinden ✓
- D. Neptün'ün hareketlerinin tümünden —

3.

Kişiler bazen her türlü işi çok kısa sürede yapacaklarından bahsederler. Fakat bir türlü harekete geçmezler. İşin bitirilmesi gereken zaman geldiğinde işin bitmediği hatta hiç başlamadığı görülür.

Yukarıda anlatılan durumu aşağıdaki atasözlerinden hangisi açıklar?

- A. Acele işe şeytan karışır.
- B. Laf la peynir gemisi yürümez. ✓
- C. Bir elin nesi var iki elin sesi var.
- D. Ağaç yaşken eğilir.

4. Aşağıdaki cümlelerin hangisinde "da, de" yazımı ile ilgili hata yapılmıştır?

- A. Mehmet de bizimle gelmek istiyor. ✓
- B. Bugün sınıfta bilgi yarışması yaptık. ✓
- C. Ödevlerini ev de bıraktığı için öğretmeni çok kızdı. bitişik yazılmalı
- D. Elindeki kitabı da yere düşürdü. ✓

5.



Arda

Giriş

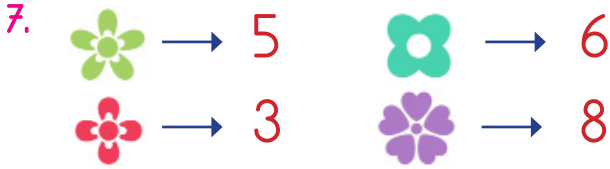
1. Metindeki kahramanların tanıtıldığı bölümdür.
2. ✓ Tüm soruların cevap bulunduğu bölümdür.
3. ✓ Yazar bu bölümde ana fikri ortaya koyabilir.





Arda'nın hangi cümleleri bir metnin sonuç bölümü ile ilgilidir?

- A. 1
- B. 2
- C. 1 ve 2
- D. 2 ve 3 ✓

6. Aşağıdaki cümlelerin hangisinde mecaz anlamıyla kullanılmış bir sözcük yoktur?

- A. Maçı kaybedince psikolojisi çöktü.
 B. Kara haberi alınca kendini odasına kapattı.
 C. Soğuktan dişlerimiz sürekli birbirine çarpıyordu.
 D. Yeni arkadaşlarım beni çok sıcak karşıladılar.



Yukarıdaki semboller bir rakamı temsil etmektedir. Buna göre     sayısının en yakın onluğa yuvarlanmış hali kaçtır?

- A. 7850 B. 8350
 C. 8360 D. 8400

8356 onluğa yuvarla → 8360

8. Kaan 38'den başlayarak 8 artan 5 azalan bir örüntü oluşturuyor. Kaan'ın oluşturduğu örüntünün 9. adımındaki sayı kaçtır?

- A. 50 B. 55 C. 58 D. 66

12.



- A bir sayının yüzler basamağında olduğu zaman basamak değeri 700 olmaktadır. $A=7$
 → BA iki basamaklı sayısının sayı değeri 10'dur. $B+A=10$ $B=3$
 → C'nin sayı değeri A'nın sayı değerinden 2 fazladır. $C=9$
 → D bir sayının binler basamağında olduğu zaman basamak değeri 4000 olmaktadır. $D=4$

Mehmet A, B, C ve D harfleriyle gösterilen rakamlar hakkında yukarıdaki bilgileri vermiştir. Mehmet'in verdiği bilgilere göre oluşturulacak "BCDA ve DACB" sayılarının toplamı kaçtır?

- A. 7500 B. 8645 C. 8740 D. 8742

9.

9	18	15	30	27	54
1	2	3	4	5	6

Yukarıdaki örüntü aynı kurala göre devam ettirildiğinde örüntünün 7. ve 8. teriminin toplamı kaç olur?

- A. 153 B. 210
 C. 213 D. 215

$$\begin{array}{r} 7 \\ 51 \\ \hline 8 \\ 102 \end{array}$$

10. "5,3,8,7" rakamlarıyla oluşturulacak 4 basamaklı en küçük tek sayı ile rakamları farklı 4 basamaklı en küçük sayının toplamı kaçtır?

- A. 4610 B. 5250
 C. 6075 D. 6610
- En küçük tek: 3587 + 1023 = 4610

11.

4300	4485	5255	6250	3850
------	------	------	------	------

Yukarıdaki sayılar küçükten büyüğe sıralanıyor. Sıralamada yer alan 3. ve 4. sayının toplamı kaç olur?

- A. 8785 B. 9740
 C. 9885 D. 9960

Küçükten büyüğe: 3850 < 4300 < 4485 < 5255 < 6250

$$\begin{array}{r} 5255 \\ + 4485 \\ \hline 9740 \end{array}$$

$$\begin{array}{l} 1) 38 \rightarrow +8 \\ 2) 46 \rightarrow -5 \\ 3) 41 \rightarrow +8 \\ 4) 49 \rightarrow -5 \\ 5) 44 \rightarrow +8 \\ 6) 52 \rightarrow -5 \\ 7) 47 \rightarrow +8 \\ 8) 55 \rightarrow -5 \\ 9) 50 \rightarrow -5 \end{array}$$

$$\begin{array}{r} 3 \quad 7 \\ B + A = 10 \quad B = 3 \end{array}$$

$$C = 9$$

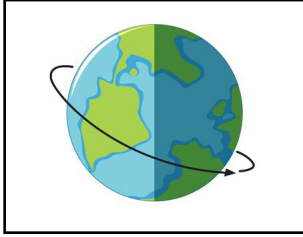
$$\begin{array}{r} 4793 \\ + 3947 \\ \hline 8740 \end{array}$$

13. Aşağıdaki ifadelerden hangisi yanlıştır?

- A. Dünya'nın, Güneş etrafında dolanması sonucu yıllık sıcaklık farkları oluşur. ✓
- B. Dünya kendi eksenini etrafında dönme hareketini 24 saatte tamamlar. ✓
- C. Dünya, Güneş etrafında dolanma hareketini tam 365 günde tamamlar. ✓
- D. Dünya kendi etrafında dönme hareketini batıdan doğuya doğru gerçekleştirir. ✓

+ 6 saat

14.



Dünya'nın kendi eksenini etrafında dönüşü

Aşağıdakilerden hangisi Dünya'nın yukarıdaki hareketi sonucu gerçekleşmez?

- A. Gün içerisinde gölge boylarının değişiklik göstermesi ✓
- B. Gece ve gündüzün oluşması ✓
- C. Günlük sıcaklık farklarının oluşması ✓
- D. Mevsimlerin meydana gelmesi —

15.



Utku

Utku'nun cümlelerinde noktalı yerlere sırasıyla hangi kelimeler gelmelidir?

- A. dönerken - elips B. dolanırken - yörünge
- C. dönerken - geoid D. dolanırken - elips

Dünya'nın, Güneş etrafında dolanırken izlediği yola yörünge denir.

16.



Yukarıda Türkiye Haritasında bazı yerler sayı ile gösterilmiştir. Sayı ile gösterilen yerlerden hangisinde Güneş daha erken doğar?

- A. 1 B. 2 C. 3 D. 4

17.

Dünya'nın, Güneş etrafındaki dolanma hızı artsa aşağıdakilerden hangisi gerçekleşirdi?

- A. Gecelerin süresi kısalırdı.
- B. Gündüzlerin süresi kısalırdı. *Daha kısa sürede dolardı.*
- C. 1 yıl daha uzun sürerdi.
- D. 1 yıl daha kısa sürerdi. *← caktı.*

18.



1. Basketbol maçlarını izlemeyi çok severim.
2. Arkadaşım ile satranç oynarken çok keyif alırım.
3. Çok güzel resim yaparım.
4. Matematik dersinde işlemleri kısa sürede yaparım.

Kemal, yukarıda kendisi ile ilgili bilgiler vermiştir. Verdiği bilgilerden kaç tanesi Kemal'in ilgi alanıdır?

- A. 1 B. 2 C. 3 D. 4

19.

Ali en sevdiğim arkadaşlarımdan biridir ve beraber oyunlar oynarız. Bazen dışarıda oyun oynarken Yusufu görürüz. Yusuf şehir dışından yeni geldiği için burada henüz kimseyi tanımıyor. Ben ve Ali, Yusufu gördüğümüz zaman hemen yanına gider onu da oyunumuza çağırırız. Sonrasında üçümüz çok güzel oyunlar oynarız.

Serdar'ın yukarıdaki hikayesi ile ilgili verilen bilgilerden hangisi doğrudur?

- A. Serdar ve Ali'nin, Yusufu oyunlarına alması empati duygusu ile hareket ettiklerini göstermektedir. ✓
- B. Serdar ve Yusuf bencilce hareket etmişlerdir. —
- C. Serdar ve Yusufun hareketleri Yusufu üzebilir. —
- D. Serdar ve Yusuf empati duygusu ile hareket etmemektedir. ✓

20.

Bir insanın, kendisini karşısındaki insanın yerine koyarak onun duygularını ve düşüncelerini doğru olarak anlamasına **empati** denir.

Bireyleri birbirinden ayıran özelliklere **bireysel farklılık** denir.

Boy, kilo, saç rengi, göz rengi gibi özelliklerimiz **fiziksel** özelliklerimizdir.

Aşağıdakilerden hangisi yukarıdaki boşluklardan birine gelebilecek kelimelerden bir tanesi değildir?

- A. bireysel farklılık
- B. duygusal
- C. fiziksel
- D. empati

ADI :

SOYADI :

SINIFI :

PUANI :

1	A	B	C	D
2	A	B	C	D
3	A	B	C	D
4	A	B	C	D
5	A	B	C	D
6	A	B	C	D
7	A	B	C	D
8	A	B	C	D
9	A	B	C	D
10	A	B	C	D
11	A	B	C	D
12	A	B	C	D
13	A	B	C	D
14	A	B	C	D
15	A	B	C	D
16	A	B	C	D
17	A	B	C	D
18	A	B	C	D
19	A	B	C	D
20	A	B	C	D