

Mine, annesinin istediği malzemeleri marketten almak için evden çıktı. Biraz yürüdüktan sonra yolda arkadaşlarını gördü. Arkadaşları oyun oynamaya gidiyordu. Mine'yi de oyun oynamak için gidecekleri yere çağırdılar. Mine, annesinin verdiği görevleri unutmamıştı. Arkadaşlarına takıldı. Biraz sonra oyun oynamak için gidecekleri parka vardılar. Mine ile arkadaşları oyun oynarken Mine'nin cebinden alışveriş listesi düştü. Kaan, düşen listeyi Mine'ye verdi. Mine o anda görevini hatırladı. Hemen markete koştu. Listedeki malzemeleri aldıktan sonra eve gitti. Annesi, Mine'yi çok merak etmişti. Annesinin telaşı gözlerinden okunuyordu. Mine, annesinden özür diledi. Daha dikkatli olacağı sözünü verdi.

(1 ve 2. soruyu yukarıdaki metne göre cevaplayalım.)

- Yukarıdaki metne göre aşağıdaki ifadelerden hangisi yanlıştır?
 - Mine, annesinin verdiği görevi yerine getirmek için dışarı çıkmıştır.
 - Mine'nin arkadaşları parka giderken Mine'de onlara katılmıştır.
 - Mine, arkadaşlarını görünce annesinin verdiği görevi unutmamıştır.
 - Mine annesinin verdiği listedeki herşeyi tam ve doğru almıştır.
- Yukarıdaki metinde hikaye unsurlarından hangisine yer verilmemiştir?
 - olay
 - yer
 - zaman
 - kahramanlar

3.

imtihan - sınav
cevap - soru
rüzgar - yel
savaş - sulh

beyaz - ak
bina - yapı
ihtiyar - genç
tutsak - özgür

Sezgin Öğretmen, yazılışları farklı olduğu halde anlamları aynı olan sözcükleri dersinde işlemektedir. Buna göre Sezgin Öğretmen yukarıda verilen kelime çiftlerinden kaç tanesini dersinde örnek olarak gösterebilir?

- 4
- 5
- 6
- 7

4. Aşağıdaki cümlelerin hangisinde neden sonuç ilişkisi bulunmamaktadır?

- Yolda yürürken birden düşmüş.
- Ödevini yapamadığı için çok üzüldü.
- Yağmur yağdığından eve koşarak gitti.
- Arkadaşının evini bulamadığından dolayı kaybolmuş.

5.

- Kahramanları genellikle olağanüstü varlıklardır.
- Zaman ve yer kavramı her zaman bulunur.
- Olaylar genellikle hayal ürünüdür.
- Genellikle gerçekleşmesi mümkün olan olaylar anlatılır.

Ali, masal türünün özelliklerini maddeler halinde yukarıya yazmıştır. Buna göre Ali'nin verdiği maddelerden kaç hatalıdır?

- 1
- 2
- 3
- 4

6. Aşağıdaki ifadelerden hangisi deyim ve atasözlerinin ortak özelliklerinden değildir?

- A. Öğüt verme amacı taşır.
- B. Değişikliğe uğramadan günümüze kadar gelmiştir.
- C. Az sözcüklerle çok şey anlatır.
- D. Söyleyeni belli değildir.

7.



Yukarıdaki rakamları birer kez kullanarak oluşturulacak 4 basamaklı en büyük sayı ile 4 basamaklı en küçük sayının farkı kaçtır?

- A. 5463
- B. 5470
- C. 5800
- D. 6100

8. Üç toplananlı bir toplama işleminde toplam 8788 sayısına eşittir. Birinci toplanan ile ikinci toplananın toplamı 4285 olduğuna göre 3. toplanan kaçtır?

- A. 4485
- B. 4498
- C. 4503
- D. 4607


9.

$$\boxed{550} + \overset{275}{\dots} \rightarrow \dots \boxed{6. \text{ terim}}$$

Yukarıda bir örüntünün başladığı terim, örüntünün kuralı ve bittiği terim verilmiştir. Buna göre bu örüntünün son terimi ile 4. terimi arasındaki fark kaçtır?

- A. 540
- B. 550
- C. 590
- D. 670

10.



Yukarıda verilen aslanın ağırlığı 275 kg, filin ağırlığı aslanın ağırlığından 3750 kg fazla zürafanın ağırlığı ise filin ağırlığından 2250 kg eksiktir. Buna göre bu üç hayvanın ağırlıkları toplamı kaç kg'dır?

- A. 4750
- B. 5500
- C. 5800
- D. 6075

12.



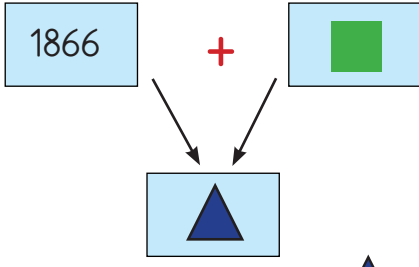
1405	3254	1898
2212	1211	425
5249	2145	1021

→ Selin kutularda verilen sayılardan en yakın onluğu kendisinden küçük olan sayıları topluyor.

Buna göre Selin yaptığı işlemin en yakın yüzlüğü kaçtır?

- A. 7039
- B. 7100
- C. 7150
- D. 7700

12.



Yukarıdaki toplama işleminde ▲ yerine gelecek sayı en yakın onluğu 3550 olan en küçük sayıdır. Buna göre ■ sayısı kaçtır?

- A. 1650 B. 1659
C. 1665 D. 1679

13. Aşağıdaki ifadelerden hangisi doğrudur?

- A. Her öğünde protein ağırlıklı beslenen insanlar dengeli beslenmiş olur.
B. Dengeli beslenme, her çeşit besinden yeteri kadar almayı gerektirir.
C. Meyve ve sebzeler ağırlıklı olarak protein içeren besinlerdir.
D. Karbonhidratlar düzenleyici besin grubunda yer almaktadır.

14. Kaan, vücuda enerji veren besin grupları ile ilgili bir afiş hazırlamaktadır. Kaan'ın hazırladığı afiş aşağıdakilerden hangisi olabilir?

- A. B.
C. D.

15.




Mehmet, yukarıda ismi verilen besinlerden protein ağırlıklı olanları işaretlemiştir. Buna göre Mehmet'in işaretlemediği besin sayısı kaçtır?

- A. 1 B. 2
C. 3 D. 4

16. Aşağıdaki ifadelerden hangisi yanlıştır?

- A. Su az veya çok her besinde bulunmaktadır.
B. Büyüme ve gelişmede vitaminlerin etkisi bulunmaktadır.
C. Proteinler vücudumuzda yapıcı ve onarıcı olarak görev alırlar.
D. Yağlar vücudumuzda düzenleyici olarak görev alır.

17.



Yukarıdaki besinlerden hangileri vitamin ağırlıklıdır?

- A. 1 ve 3 B. 2 ve 4
C. 2 ve 3 D. 2 ve 4

18. Aşağıdaki ifadelerden hangisi yanlıştır?
- A. Kültürel öğeler ülkeden ülkeye değişiklik gösterir.
- B. Bir milletin geçmişten günümüze kadar aktardığı ortak değere milli kültür denir.
- C. Gelenek ve görenekler kuşaktan kuşağa aktarılır.
- D. Milli kültüre ait öğeler her ülkede benzerdir.

19.

Mimari

Bayramlar

Yemekler

Dil

Kıyafetler

Ödevler

Yukarıdakilerden kaç tanesi milli kültürü yansıtan öğelerdendir?

- A. 6 B. 5
- C. 4 D. 3

20. Aşağıdaki görsellerden hangisi milli kültürümüze yansıtan öğelerden biri değildir?


A.



B.



C.



D.



ADI :

SOYADI :

SINIFI :

PUANI :

1	A	B	C	D
2	A	B	C	D
3	A	B	C	D
4	A	B	C	D
5	A	B	C	D
6	A	B	C	D
7	A	B	C	D
8	A	B	C	D
9	A	B	C	D
10	A	B	C	D
11	A	B	C	D
12	A	B	C	D
13	A	B	C	D
14	A	B	C	D
15	A	B	C	D
16	A	B	C	D
17	A	B	C	D
18	A	B	C	D
19	A	B	C	D
20	A	B	C	D