

ARKADAŞ SEÇİMİ

Küçük yaşlardan itibaren zamanımızın büyük bir kısmını arkadaşlarımızla geçiririz. Bu yüzden arkadaş seçerken dikkatli olmalıyız. Çünkü arkadaşlarımızın davranışlarından etkileniriz. Arkadaşlarımızın hoşgörülü, saygılı, nazik ve sevgi dolu olmasına dikkat etmeliyiz. Olumsuz davranışlara sahip arkadaşlarımızın olması bizi de olumsuz etkileyecektir.

1, 2 ve 3. soruları metne göre cevaplayalım.

1. Zamanımızın büyük bir kısmını kiminle geçiririz?

- A. Ailemizle
- B. Öğretmenimizle
- C. Arkadaşlarımızla

2. Hangisi, arkadaş seçiminde dikkat etmemiz gereken özelliklerden biri değildir?

- A. Kindar
- B. Hoşgörülü ✓
- C. Saygılı ✓

3. Olumsuz davranışlara sahip arkadaşlarımız bizi nasıl etkiler?

- A. Olumsuz
- B. Olumlu
- C. İyi

4. kalem - kelime - kaya - kuyu

Yukarıdaki kelimelerin alfabetik sıraya göre diziliminde hata yapılmıştır. Hangi kelimelerin yerlerini değiştirirsek hatayı gidermiş oluruz?


- A. kalem - kelime
- B. kelime - kaya
- C. kaya - kuyu

kalem - kaya - kelime - kuyu

5. sağlık - kuş - şemsiye - ...erik

Yukarıdaki kelimelerin son harfleriyle yeni kelimeler üretilmiştir. Bu kurala göre noktalı yere aşağıdakilerden hangisi gelebilir?

- A. üzüm
- B. erik
- C. marul



6. Yukarıdaki hecelerle anlamlı kelimeler oluşturulacaktır. *saat*

Hangi kelimeyi oluşturamayız?

A. güven ✓

B. saat ✓

C. güvenilir → gü-ve-ni-lir 9.

hecesi
yok.

Soruya Gel!

7.

1	A	A	E	Ü
2	Ö	A	Ü	A
3	B	E	A	R
4	A	Ç	K	N
5	T	Y	M	A

Yukarıdaki tabloya göre aşağıdaki şifreyi çözelim.

ŞİFRE: 3 1 5 1 4

Yukarıdaki şifrenin zıt anlamlısı aşağıdakilerden hangisidir?

A. KÜÇÜK

B. BÜYÜK

C. ZAYIF

Büyük → ZİTTİ
küçük

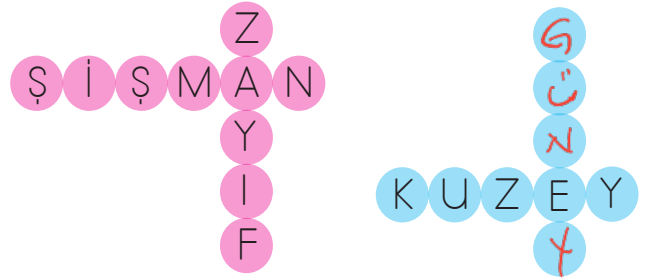
8. "Ön" kelimesinin zıt anlamlısında kaç tane ünlü harf bulunmaktadır?

A. 2

B. 3

C. 4

ön → *o* *ö* *n*
2 ünlü



Yukarıdaki bulmacada kelimelerin zıt anlamlısı yazılmıştır.

Boş bırakılan yere aşağıdakilerden hangisi yazılabilir?

A. DÜZEY

B. GÜNEY

C. DOĞU

10. En iyi arkadaşım dün sabah okula gelmedi.

Yukarıdaki cümlede aşağıdakilerden hangisinin cevabı yoktur?

A. Ne zaman? → DÜN

B. Kim? → En iyi arkadaşım

C. Nasıl? ✗

11. Doktorumuz daha fazla dinlenmem gerektiğini söyledi." cümlesinde altı çizili sözcüğün yerine aşağıdakilerden hangisi gelirse cümlenin anlamı değişmez?

- A. Hekim → Doktor
B. Muallim → öğretmen
C. Talebe → öğrenci

12. Çok güzeldir okumak
Kalbi sevgi doldurur
Sözcüklere dokumak
Cahilliği durdurur.
Bu şiirin ana duygusu aşağıdakilerden hangisidir?



- A. Sözcüklerin uyumu
B. Kalbin önemi
C. Okuma sevgisi

- 13.

Yukarıdaki sözcüklerden kaç tanesi sesteştir?

- A. 6 B. 5 C. 4


14.

Mete sürekli yalan söyleyen bir çocuktur. Arkadaşı Ayaz ise yalan söylemeyi sevmeyen bir çocuktur. Ayaz, Mete ile takılmaya başladıktan sonra onun gibi yalan söylemeye başladı.

Yukarıdaki paragrafın ana fikri için hangisi söylenebilir?

- A. Kötü davranışta bulunan kişinin yanında çok vakit geçirdiğimizde onun gibi kötü davranışlarımız olabilir.
B. İyi huylu insanların yanında olursak onlar gibi davranırız.
C. Kötü huylu arkadaşlar birlikte vakit geçirirler.

15. Sevgi, heyecan, korku vb. ifadelerde kullanılır.



Yukarıda kullanım alanı verilen noktalama işareti hangi görselle ifade edilmiştir?

- A. Manto B. Dış çekirdek C. Yer kabuğu

1.

Dört yüz altmış iki

462

Yukarıdaki sayının onlar basamağının basamak değeri ile sayı değerinin toplamı kaçtır?

A. 6

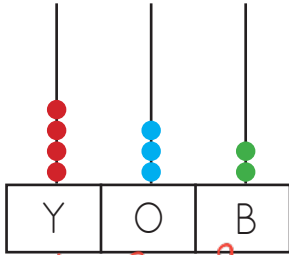
B. 60

C. 66

462
↳Bas. De.
60Sayı Değ.
6

$$60 + 6 = 66 //$$

2.



Aslı abaküye yukarıdaki gibi boncukları koymuştur. Aslının oluşturduğu sayının yüzlüğe yuvarlanmış hali aşağıdakilerden hangisidir?

A. 400

B. 432

C. 500

$$\text{Sayı} \rightarrow 432 \rightarrow \underline{\underline{400}}$$

3.

$505 < A < 509$ sıralamasına göre A yerine aşağıdakilerden hangisi yazılmaz?

A. 506 ✓

B. 508 ✓

C. 510

⇒ 506, 507, 508 yazılabilir.

4.

- Okuduğum kitabın sayfası üç basamaklı bir sayıdır.
- Onlar basamağındaki rakamın basamak değeri 50'dir.
- Yüzler basamağındaki sayı onlar basamağındaki sayıdan 2 eksik, birler basamağındaki sayıdan 1 fazladır.



Alî'nin okuduğu kitap kaç sayfadır?

A. 352

B. 251

C. 453

$$\underline{3} \ \underline{5} \ \underline{2} \rightarrow 3 - 1 = 2$$

$$\downarrow \rightarrow 5 \times 10 = 50 \text{ ise}$$

$$5 - 2 = 3$$

5.

175

180

185

190

216

212


208

204

Yukarıdaki ritmik sayılarda "■" ve "▲" yerine hangi sayılar yazılmalıdır?

	■	▲
A.	185	212
B.	190	220
C.	185	204

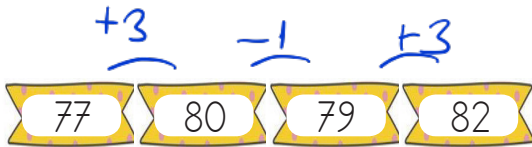
6.



Yukarıdaki kurbağa sadece 7'nin katlarının yazılı olduğu taşlara sıçrayacaktır. Kurbağa kaç taşa sıçramamıştır? *6 taşa sıçramadı.*

- A. 5 B. 6 C. 7

7.



Yukarıdaki örüntünün kuralı aşağıdakilerden hangisidir?

- A. 3 artmış, 2 azalmış
 B. 3 artmış, 1 azalmış
 C. 3 artmış, 3 azalmış

8.



Yukarıdaki ifadede "?" ile gösterilen yere hangi sembol getirilmelidir?

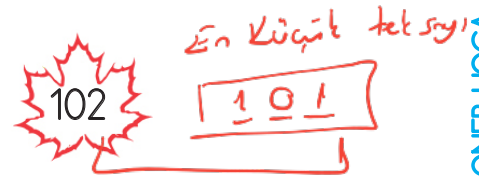
- A. > B. < C. =

9. 216'dan başlayarak onar ritmik sayarken 7. saymada söylediğimiz sayının 5 eksiği kaçtır?

- A. 276 B. 271 C. 261

$$\begin{array}{ccccccc}
 \underline{1} & \underline{2} & \underline{3} & \underline{4} & \underline{5} & \underline{6} & \underline{7} \\
 216 & 226 & 236 & 246 & 256 & 266 & 276 \\
 & & & & & & \downarrow \\
 & & & & & & 276 - 5 = \underline{\underline{271}}
 \end{array}$$

10.



Yukarıdaki sayının üç basamaklı en küçük tek sayı olması için aşağıdakilerden hangisinin yapılması gerekir?

- A. Yüzler basamağı 1 artırılmalıdır. X
 B. Birler basamağı 1 azaltılmalıdır. ✓
 C. Onlar basamağı 8 artırılmalıdır. X

Soruya Gel!

11.

Derman

●		●		15	
		●	●	●	
	●	●			30

Ferman

●	22	●		35	
			●	●	
●		●			●

Serhan

●		●		25	●
	●		17		●
●					●

Çocuklar kendi aralarında Tombala adlı bir oyun oynamaktadır. Oyunda herkesin elinde bir kart vardır. Kartın beyaz karelerinin içinde sayılar yazmaktadır. Mavi karelerin içinde ise hiçbir şey yazmamaktadır. Oyunu yöneten kişinin elinde ise içinde sayıların olduğu bir torba bulunmaktadır. Torbadan sayı çekip yüksek sesle okunmaktadır. Söylenen sayı kimin kartındaysa o kişi sayının üzerini yeşil pulla kapatmaktadır. Herkesin elindeki kartta iki sayı kalmıştır. Tüm sayıları pulla kaplayan oyunu kazanacaktır.

Çekilen iki sayı hem ileriye doğru 3'er hem de ileriye doğru 5'er ritmik saymada söylendiğine göre oyunu kazanan kimdir?

A. Ferman

B. Serhan

C. Derman

3 6 9 12 15 18 21 24 27 30
33 36 ... 3'er ritmik
5 10 15 20 25 30 35
5'er ritmik

12. Aşağıdaki ifadelerden hangisi yanlıştır?

- A. İki tek sayının toplamı her zaman tek sayıdır. ör $1+3=4$ çift
- B. İki çift sayının toplamı her zaman çift sayıdır. ör $2+4=6$ çift ✓
- C. Bir tek sayı ile bir çift sayının toplamı her zaman tek sayıdır. $1+2=3$ tek ✓

T = Tek T + T = Ç
Ç = Çift Ç + Ç = Ç
T + Ç = T
Ç + T = T

13. Üç basamaklı en büyük çift sayının rakamları toplamı kaçtır?

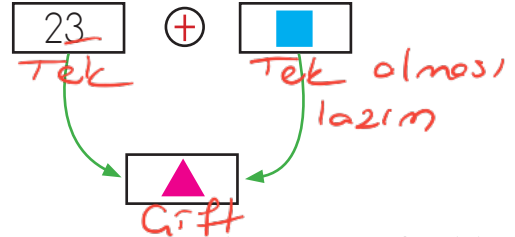
A. 20

B. 23

C. 26

998 → en büyük çift
 $9+9+8=26$

14.



▲ yerine gelecek sayının çift olduğu bilindiğine göre ■ yerine gelecek sayı aşağıdakilerden hangisi olabilir?

A. 17
↓
TekB. 20
↓
ÇiftC. 34
↓
Çift

15. Aşağıdaki örüntülerden hangisinin kuralı 3 artan, 2 azalandır?

A. $5 \xrightarrow{+3} 8 \xrightarrow{+3} 11 \xrightarrow{+3} 14 \xrightarrow{+3} 17$ B. $5 \xrightarrow{+3} 8 \xrightarrow{-2} 6 \xrightarrow{+3} 9 \xrightarrow{-2} 7$ C. $5 \xrightarrow{+5} 10 \xrightarrow{+1} 11 \xrightarrow{+5} 16 \xrightarrow{+1} 17$

1. Macellan aşağıdaki araçlardan hangisini kullanarak Dünya'yı dolaşmıştır?



2. - En içteki katmandır.
- En sıcak katmandır.

Yukarıda bazı özellikleri verilen katman aşağıdakilerden hangisidir?

- A. İç çekirdek
B. Yer kabuğu
C. Manto

3. Yanardağlardan akan lav hangi katmandan gelmektedir?

- A. İç çekirdek
B. Dış çekirdek
C. Magma

4.

Durumlar	Duyu Organı		
			
Süt içmek		✓	
Televizyon izlemek			
Çiçek koparmak			
Yemeği koklamak	✓		
Araba ile oynamak			
Yemek yemek		✓	

Durumları hangi duyu organıyla algıladığını işaretleyen Ada hangi duyu organını işaretlememiştir?

- A. Burun B. Dil C. Kulak

5.



Sadece hava katmanında yaşamaktayım.



Kara katmanında yaşamaktayım.



Su katmanında yaşamaktayım.

Yukarıdaki canlılardan hangisi yaşadığı katmanı yanlış söylemiştir?

- A.  B. 



6. Sarı elbise
Kekin kokusu
Prüzlü tahta
-

Yukarıda verilen nesnelere bunların özelliklerini algılamamızı sağlayan duyu organlarının eşleştirmesi nasıl olmalıdır?

- A. B. C.

8. İki pencere var.
Gündüz açarım.
Gece kapatırım.
Yukarıdaki bilmecenin cevabı aşağıdakilerden hangisidir?

- A. Kulak
B. Göz
C. Burun

9. Katmanları içten dışa doğru sıraladığımızda hangisi başta ve sonda yer alır?

- A. Ateş küre - Yer kabuğu
B. Yer kabuğu - Atmosfer
C. Ağır küre - Hava küre

7. - Dünya'mız ^{küre} şeklindedir.
- Dünya'mız alttan ve üstten ^{basık} şeklindedir.

Yukarıdaki ifadelerde sembollerle gösterilen yerlere hangileri gelmelidir?

- A. küre basık
B. küp şişkin
C. küre şişkin

10.

ORGAN	GÖREVİ
Kulak	İşitme
Göz	Koku alma
Burun	Görme

Yukarıdaki tablonun doğru olabilmesi için hangi organlar yer değiştirmelidir?

- A. Kulak - Göz
B. Göz - Burun
C. Kulak - Burun

1.

Güvenlidir	Saygılı	Görgüsüz
Kindar	Dürüst	Anlayışsız

Yukarıdaki tabloda arkadaşımızda istediğimiz özellikler boyanacaktır. Tablonun boyalı hali aşağıdakilerden hangisidir?

- A.

- B.

- C.

2.

İyi bir arkadaş ~~sır...~~ tutar. Herkese ~~eşit...~~ davranır.

Yukarıdaki boşluklara sırasıyla aşağıdakilerden hangisi gelir?

- A. sır - taraflı
- B. sır - eşit
- C. söz - bencil

3.

Sakin olmaya çalışmak ✓

Kavga etmek ✗

Sert tepki vermek ✗

Nazik bir dille iletişim kurmak ✓


Bir kişinin öfkelendiği zaman yukarıdaki davranışlardan hangisini yapması yanlıştır?


A.  


B.  

C.  

4. Aşağıdaki öğrencilerden hangisi güçlü yönünden söz etmektedir?

A.  Karar verirken arkadaşlarının fikrini sormam. ✗

B.  Ödevlerimi bitirmek için sabırsız davranırım. ✗


C.  Arkadaşlarımla iyi iletişim kurarım. ✓

5. Aşağıdaki ifadelerden hangisi yanlıştır?

A. Toplumun gelişmesinde okulun katkısı vardır. ✓

B. Eğitime önem veren toplumlar gelişme açıktır. ✓

C. Okul, bireysel gelişimimize katkı sağlamaz. ✗

Erkek WC	1/A	2/A	3/A
			Müdür Odası
Kız WC	4/A	1/B	Öğretmenler Odası

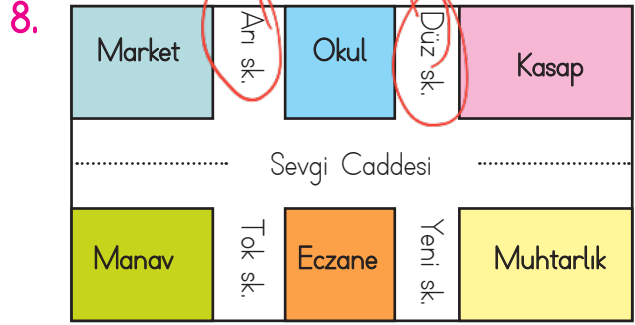
6 ve 7. soruları yukarıdaki krokiye göre cevaplayalım.

6. Öğretmenler odası ile Kız WC arasında aşağıdakilerden hangisi bulunmaz?

- A. 4/A ✓
 B. 1/B ✓
 C. Müdür odası

7. Krokide aşağıdakilerden hangisine yer verilmemiştir?

- A. 2/A ✓
 B. Erkek WC ✓
 C. 2/B



Okul hangi sokaklar arasındadır?

- A. Arı sk. - Düz sk. ✓
 B. Tok sk. - Düz sk.
 C. Tok sk. - Yeni sk.

9. Sınıfımıza yeni katılan İrem, arkadaş edinirken aşağıdaki özelliklerden hangisine sahip olan kişileri tercih etmelidir?

- A. İnatçı ✗
 B. Saygısız ✗
 C. Yardımsever ✓

10. Okulumuzda farklı etkinliklere katılmanın birçok yararı vardır. Bu etkinliklere katılmakla bilgimiz artar. Sorumluluk sahibi oluruz. Boş zamanlarımızı nasıl değerlendirebileceğimizi öğreniriz.

Yukarıdaki paragraftan yola çıkarak hangisine ulaşamayız?

- A. Okulun bireysel gelişimimize çok faydası vardır. ✓
 B. Okul, boş zamanlarımızı değerlendirme konusunda katkı sağlar. ✓
 C. Okulun eğitim öğretim dışında herhangi bir katkısı yoktur.

1. Which one is different? (Cinsiyet açısından hangisi farklıdır?)

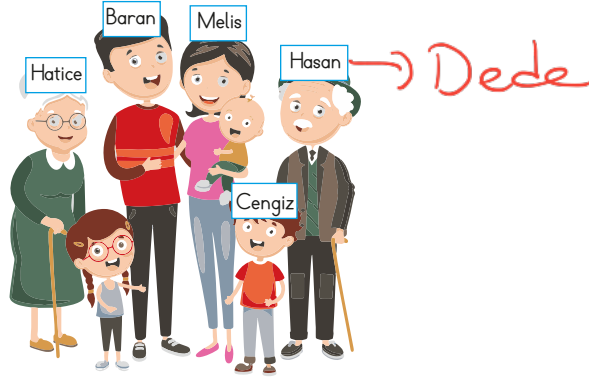
- A) uncle
amca (erkek)
- B) grandfather
dede (erkek)
- C) sister
kız kardeş (kız)

2. Erdem: Who is Hasan?

Cengiz: He is my grandfather

Boşluğa hangisi gelmelidir?

- A) father
- B) grandfather
- C) sister



3.

KIZ



Who is she?

She is my sister

Yukarıda boş bırakılan yere aşağıdakilerden hangisi gelebilir?

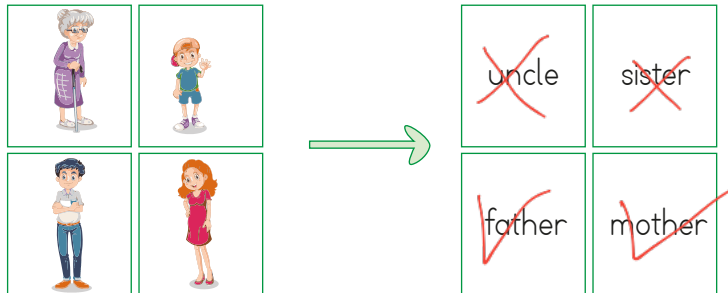
- A) He is my brother
erkek
- B) She is my father
erkek
- C) She is my sister
kız

4. This is Okan. is my

Yukarıda boş bırakılan yerlere aşağıdakilerden hangileri gelemez?

- A) He - brother
erkekler için
- B) She - sister
kızlar için
- C) He - uncle
erkekler için

5. Yandaki görsellerin İngilizce karşılıkları yanındaki boş kutulara yazılmıştır. Doğru olabilecekler boyanırsa son görünümü nasıl olur?



- A)

- B)

- C)
