

4 Ekim Hayvanları Koruma Günüydü.

Öğretmen Tülay Hanım sınıfındaki öğrencilerle bu anlamlı günü kutlamak için bir etkinlik yapmaya karar verdi. Öğretmen ve öğrenciler farklı hayvanların bulunduğu boyama sayfalarını boyadılar. Boyanan her hayvana isimler vererek okul panosuna astılar. Hayatımızın bir parçası olan hayvanlar için yapılan bu etkinlik öğrencileri çok mutlu etmişti.



1 ve 2. soruları metne göre cevaplayalım.

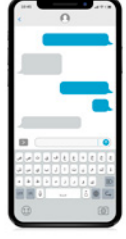
1. Hayvanları Koruma Günü ne zaman kutlanır?

- A. 4 Eylül
 B. 4 Ekim
 C. 4 Ağustos

2. Öğretmen Tülay Hanım Hayvanları Koruma Günü için nasıl bir etkinlik hazırlamış?

- A. Hayvanların bulunduğu boyama sayfalarını boyama etkinliği
 B. Şiir yazma
 C. Gösteri hazırlama

3. Yukarıdaki görselin adı satır sonuna sığmadığında heceleri hangi seçenekteki gibi ayrılmalıdır?



- A. tel-efon
 B. tele-fon
 C. telef-on

te - le - fon

4.

Deneyimli aşçı yaptığı lezzetli yemeklerin tarifini paylaştı.

Yukarıda altı çizili sözcüğün eş anlamlısı hangisidir?

- A. bilgili B. tecrübeli C. acemi

5.

(Minik kedi çok acıkmış.)

acıkmış

çok

kedi

minik

Yukarıdaki sözcüklerden anlamlı ve kurallı bir cümle oluşturulduğunda hangisi en sonda yer alır?

- A. acıkmış B. çok C. kedi

6. Penbe laylonlar tren vagonuna yüklendi.

Yukarıdaki cümlede kaç sözcüğün yazımı hatalıdır?

- A. 1
B. 2
C. 3

Pembe
naylonlar


1 deste elma
1 düzine çilek ⇒ $\begin{array}{r} 10 \text{ elma} \\ + 12 \text{ çilek} \\ \hline 22 \text{ meyve} \end{array}$ $\begin{array}{r} 22 \\ + 7 \\ \hline 29 \end{array}$

7.  7 tane meyve yedim.

Tabakta geriye 1 deste elma, 1 düzine çilek kalmıştır. Eda, meyve yemeden önce tabaktaki meyve sayısı kaçtır?

- A. 29
B. 25
C. 22

8.



Sembollere karşılık gelen sayıların bir kısmı bulmacaya yazılmıştır. Buna göre ● yerine yazılabilecek sayı için hangisi söylenemez?

- A. bir düzineye eşittir = 12
B. İki desteden 8 eksiktir = $20 - 8 = 12$
C. İki basamaklı en küçük sayıdır 10

9. Bir süt satıcısının 5 birlik, 6 onluktan oluşan sayı kadar şişe sütleri vardır.

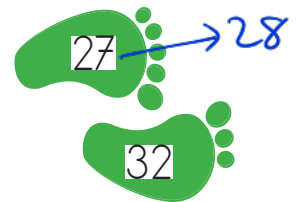

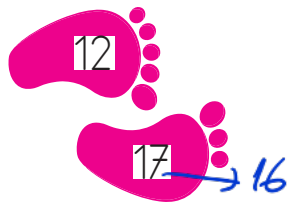
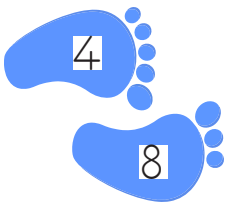


Süt satıcısı, her saat 5 şişe süt sattığına göre 7 saat sonra kaç şişe sütü kalır?

- A. 25
B. 35
C. 30

$5+5+5+5+5+5+5=35$
satılan
 $\begin{array}{r} 65 \\ - 35 \\ \hline 30 \text{ kalan} \end{array}$

10.



Ritmik sayma konusunun daha iyi kavranılması için sınıf zemimine yukarıdaki gibi adım üzerinde sayıların yazılı olduğu renkli kartonlar yapıştırılmıştır. Yukarıda verilen sayılar için aşağıdaki ifadelerden hangisi yanlıştır?

- A. Sadece pembe renkli adımlarda hata yapılmıştır. —
B. Dörder ritmik sayma öğretilmeye çalışılmıştır. ✓
C. Sarı renkli adımlarda hata yoktur. ✓

11. Eda, yanda verilen sayıları kullanarak rakamları farklı iki basamaklı en küçük sayıyı oluşturuyor.



Eda'nın, bulduğu sayıdan başlayarak geriye üçer ritmik saymada söylediği 4. sayı kaçtır?

A. 15 B. 8 C. 12

En küçük

$$\begin{array}{r} 24 \\ 24 \end{array} \quad \begin{array}{r} 1 \\ 24 \end{array} \quad \begin{array}{r} 2 \\ 21 \end{array} \quad \begin{array}{r} 3 \\ 18 \end{array} \quad \begin{array}{r} 4 \\ 15 \end{array}$$

12. Aycan, 24 basamaktan oluşan merdivenin tamamını ikiye çıkıp üçer adımlarla inmiştir. Aycan toplam kaç adım atmıştır?

A. 20 B. 18 C. 16

Çıkma → 2, 4, 6, 8, 10, 12, 14, 16, 18, 20, 22, 24
12 adım

inme → 3, 6, 9, 12, 15, 18, 21, 24
8 adım

$$\begin{array}{r} 12 \\ + 8 \\ \hline 20 \end{array}$$

13. Aşağıdakilerden hangisi okul çantasını gereksiz eşyalarla doldurmanın zararlarından biridir?



- A. Okula hazırlıklı gitmek
B. Çabuk yorulmamız
C. Ders başarımızın artması

14. Bir yerleşim yerindeki ana yollardan her birine denir.

Yukarıdaki ifadede boş bırakılan yere hangisi yazılmalıdır?

- A. sokak B. mahalle C. cadde

- 15.

Okulun adı

Okulun bulunduğu cadde

Sınıfımızın şubesi

Okulmuzun yerini tarif ederken yukarıdaki hangi bilgilerden hangisine ihtiyaç yoktur?

A. Okulun adı

B. Sınıfımızın şubesi

C. Okulun bulunduğu cadde

ADI SOYADI :

SINIFI :

PUANI :

1	A	B	C
2	A	B	C
3	A	B	C
4	A	B	C
5	A	B	C
6	A	B	C
7	A	B	C
8	A	B	C
9	A	B	C
10	A	B	C
11	A	B	C
12	A	B	C
13	A	B	C
14	A	B	C
15	A	B	C