

Eymen, arkadaşları ile iyi geçinen, okulda sevilen bir öğrenciydi. Okulda tenefüs zili çalmış, arkadaşları ile dışarı çıkmıştı. Sınıfa döndüğünde öğretmeni onu gözü yaşlı görmüştü. Öğretmeni bunun sebebini sorduğunda "Yan sınıftan bir öğrenci bana çarptı, yere düştüm." demişti. Durumun daha iyi anlaşılması için öğretmen, Eymen'i alarak yan sınıfa geçti. Eymen'e çarpan öğrenci bunun bir kaza olduğunu, zil çaldığı için özür dilemeye fırsat bulamadığını söyledi. Ardından Eymen'e sarılarak özür diledi.



1 ve 2. soruları metne göre cevaplayalım.

1. Eymen sınıfa döndüğünde gözleri niçin yaşlıymış?

- A. Tenefüs kısa sürdüğü için.
 B. Yan sınıftan bir öğrenci çarpıp yere düştüğü için.
 C. Yanlışlıkla bir arkadaşına çarptığı için.

2. Eymen'i, gözü yaşlı gören öğretmeni ne yapmış?

- A. Durumu anlamak için yan sınıfa geçmiş.
 B. Olayı canlandırmasını istemiş.
 C. Yüzünü yıkamasını söylemiş.

3.



Yukarıdaki sözcüklerle anlamlı ve kurallı bir cümle oluşturulacaktır. Buna göre son sırada hangi sözcük yer alır?

- A. gözlüğünü B. yanlışlıkla

C. kıldım

Yanlışlıkla ablamın gözlüğünü kıldım.

sonerhoca.net

4.


Adanalı	Ceme
Ecemin	Suna'nın

Yukarıda verilen özel isimlerden hangileri yanlış yazılmıştır?

- A. ▲ ■ B. ● ■ C. ● ◆


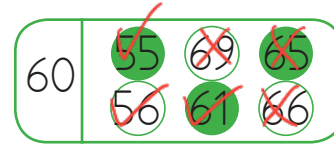
5. Aşağıdaki durumların hangisinde nokta kullanılmaz?

- A. Kısaltmalarda Nokta
 B. Cümlenin sonunda Nokta
 C. Sıralı cümlelerin arasında Virgül

6.  29 ekimde Cumhuriyet Bayramı coşkuyla kutlandı.




Yukarıdaki cümle için aşağıdakilerden hangisi söylenemez?

- A. Anlamli ve kurallıdır. ✓
 B. Yazım hatası yoktur. —
 C. Altı çizili sözcüğün eş anlamlısı heyecandır. ✓







7.  

Emre, 60'a yuvarlanan sayıları boyamak istemiştir. Buna göre hangi ifade yanlıştır?



- A. Boyadığı sayılardan biri yanlıştır. ✓
 B. Boyaması gereken bir sayı 5 des-
 teden 6 fazladır. 56 ✓
 C. Toplam boyaması gereken 4
 sayı vardır. —

8.  = 18  = 29
 = 43

Sembollerin belirttiği sayılara göre aşağıdaki işlemlerden hangisi yanlıştır?

- A.  18  43
 +
 61 ✓
 B.  29  43
 +
 72 ✓
 C.  18  29
 +
 48
 47

9.

+	19	18	
15			$19+15=34$
23			$23+18=41$

Yukarıdaki tabloda verilen toplama işlemlerine göre $34 + 41 = 75$ işleminin sonucu kaçtır?

- A. 91 B. 75 C. 88

10.

$$\begin{array}{r} 30 \\ 15 \\ +10 \\ \hline 55 \end{array}$$

$$\begin{array}{r} 70 \\ -55 \\ \hline 15 \end{array}$$

cevap



Öğretmen Suat Bey, sınıfında aşağıdaki yönergelere göre ödül vermeyi planlamıştır.

Öğretmen, ödevini zamanında yapana 10 puan, sınıf kurallarına uyan 15 puan, bir kitabı bitirene 15 puan verecektir. 70 puan alan öğrenci 10 ödüle hak kazanacaktır. 15 $15+15=30$

Buna göre ödevini zamanında yapan, sınıf kurallarına uyan ve 2 kitap okuyan bir öğrencinin ödül için kaç puana ihtiyacı vardır?

- A. 15 B. 20 C. 25

11.

7 onluk 6 birlik 76

Yukarıdaki onluk ve birlikleri verilen sayıların 39 eksiği kaçtır?

A. 36 B. 27 C. 37

$$76 - 39 = 37$$

12.


Bir bahçede 63 ağacın, 27 tanesi ceviz ağacı kalanı ise nar ağacıdır. Buna göre kaç nar ağacı vardır?

A. 36 B. 40 C. 46

Ceviz	Nar	Toplam
27	?	= 63

$$63 - 27 = 36$$

13.



Yukarıdaki ifadelerden kaç tanesi ihtiyaçlarımızdandır?

A. 1 B. 2 C. 3

14.

Oyun kurallarına uymamız oyunun düzenini korur.

Yukarıdaki ifadede noktalı yere hangi sözcük gelmelidir?

A. bireyselliğini B. kargaşasını
C. düzenini

15. Aşağıdaki öğrenci davranışlarından hangisi yanlıştır?

A. Oyunu kuralına göre oynarım. ✓

B. Oyunda mızıkçılık yapan arkadaşıma kaba davranırım. ✗

C. Oyunu kazandığımda rakibimi üzmeden sevinirim. ✓

ADI SOYADI :

SINIFI :

PUANI :

1	A	B	C
2	A	B	C
3	A	B	C
4	A	B	C
5	A	B	C
6	A	B	C
7	A	B	C
8	A	B	C
9	A	B	C
10	A	B	C
11	A	B	C
12	A	B	C
13	A	B	C
14	A	B	C
15	A	B	C