




0 - 25	geliştirmeli
26 - 40	iyi
41 - 50	çok iyi


Yukarıda bir öğretmenin 50 soruluk sınavda öğrencilerin aldıkları puana göre değerlendirme ifadeleri verilmiştir?

6 ve 7. soruları yukarıdaki bilgilere göre cevaplayalım.

6. 27 puan alan Deniz'in çok iyi notunu alması en kaç puan daha alması gerekir?

 Çözüm:


7. Burak iyi notu için belirlenen en küçük puanı, Seda ise en yüksek puanı almıştır. Buna göre iki öğrencinin aldıkları puanın farkı kaçtır?

 Çözüm:


9.




Yukarıda elma miktarları yazan sepetler verilmiştir. 1.sepetten 34 elma alınıp ikinci sepete konuluyor. 2.sepetteki elmalardan 4 deste kadarı satılırsa 2.sepette kaç elma kalır?

 Çözüm:

8. Mert marketten, 24 liraya süt, 14 liraya çikolata almıştır. Markete 50 lira veren Mert kaç lira para üstü alır?

 Çözüm:

10. Karınca gideceği 87 metre yolun önce 19, ardından 25 metresini gitmiştir. Karıncanın gideceği kaç metre yolu kalmıştır?

 Çözüm:

