








11.  İçindeki sayıyı en yakın onluğuna yuvarlar.

 İçindeki sayıyı en yakın yüzlüğe yuvarlar.

Yukarıda bazı şekiller ve bu şekillerin ifade ettiği işlemler verilmiştir.

 +  işleminin sonucu kaçtır?

ÇÖZÜM:

12. Bir sinemanın 1 numaralı salonunda 248 kişi, 2 numaralı salonunda 135 kişi vardır. Film başlamadan önce 1 numaralı salondan 2 numaralı salona 38 kişi aktarılmıştır. Son durumda 1 numaralı salondaki kişi sayısı 2 numaralı salondaki kişi sayısından kaç fazla olur?

ÇÖZÜM:

13. Bir tarladan 367 kilogram patates, 483 kilogram soğan toplanmıştır. Bu tarladan tahmini kaç kilogram ürün toplanmıştır?

ÇÖZÜM:

14. Deniz, Simgé'den 6 yaş küçük, Bilge'den 4 yaş büyüktür. Deniz 30 yaşında olduğuna göre üçünün yaşları toplamı kaçtır?

ÇÖZÜM:

15. 236'nın 107 fazlası ile 128'in 317 fazlasının toplamı kaçtır?

ÇÖZÜM:

