

1. Üç kardeş bahçelerine fidan dikmişlerdir. Diktikleri fidanlar hakkında aşağıdaki bilgiler verilmiştir.

- Ahmet 159 kiraz fidanı dikmiştir.
- Murat, Ahmet'in diktiği fidan sayısının 37 fazlası kadar elma fidanı dikmiştir.
- Ayla ise kardeşlerinin toplamı kadar armut fidanı dikmiştir.

Buna göre dikilen fidanların toplamı kaçtır?

ÇÖZÜM:

2. 857 sayısının 299 eksiğinden 136 sayısını çıkarırsak sonuç kaç olur?

ÇÖZÜM:

3. 1. kutu 2. kutu 3. kutu




Yukarıdaki kutularda, içinde bulunan defter sayıları yazmaktadır. 3 kutuda toplam 800 defter olduğuna göre 3. kutuda kaç defter vardır?

ÇÖZÜM:

4. **Buse:** 66'dan başlayarak dörder artan örüntüdeki 9. sayı kadar fındığım var.  
**İlker:** Üç basamaklı rakamları farklı en küçük tek sayı kadar fındığım var.  
İlker ve Buse'nin fındık sayıları toplamı kaçtır?

ÇÖZÜM:

5.





Bir kalem, açacak içinde ne kadar çok döndürülürse o kadar fazla kısalmaktadır. Açacakla açılan aynı tür kalemler yukarıda verilmiştir. Bu kalemlerin ayrı ayrı döndürülme sayıları 225, 248, 237'dir.

1. ve 2. kalemin döndürülme sayıları toplamı kaçtır?


ÇÖZÜM:



11.  İçindeki sayıyı en yakın onluğuna yuvarlar.

 İçindeki sayıyı en yakın yüzlüğe yuvarlar.

Yukarıda bazı şekiller ve bu şekillerin ifade ettiği işlemler verilmiştir.

 +  işleminin sonucu kaçtır?

ÇÖZÜM:

12. Bir sinemanın 1 numaralı salonunda 248 kişi, 2 numaralı salonunda 135 kişi vardır. Film başlamadan önce 1 numaralı salondan 2 numaralı salona 38 kişi aktarılmıştır. Son durumda 1 numaralı salondaki kişi sayısı 2 numaralı salondaki kişi sayısından kaç fazla olur?

ÇÖZÜM:

13. Bir tarladan 367 kilogram patates, 483 kilogram soğan toplanmıştır. Bu tarladan tahmini kaç kilogram ürün toplanmıştır?

ÇÖZÜM:

14. Deniz, Simgé'den 6 yaş küçük, Bilge'den 4 yaş büyüktür. Deniz 30 yaşında olduğuna göre üçünün yaşları toplamı kaçtır?

ÇÖZÜM:

15. 236'nın 107 fazlası ile 128'in 317 fazlasının toplamı kaçtır?

ÇÖZÜM:

