

1.

Okulda elektrik, su, doğal gaz, kömür gibi kaynaklar kullanılır. Bu kaynakların bilinçli kullanılması çok önemlidir. Alınacak bazı önlemler bu kaynakların hızlı tükenmesinin önüne geçecektir.

Yukarıdaki metne göre hangisi söylenemez?

- A.** Okulda elektrik, su, doğal gaz, kömür gibi kaynaklar kullanılır.
B. Bu kaynakların bilinçli kullanılması çok önemlidir.
C. Alınacak bazı önlemler bu kaynakların hızlı tükenmesine neden olur.

2.

1	sual	cevap
2	yanıt	soru
3	öykü	hikaye

Yukarıdaki tabloda eş anlamlı sözcüklerin karşılıklı olması için hangi sözcüklerin yerleri değiştirilmelidir?

- A.**

✓	
	✓

B.

	✓
	✓

C.

	✓
✓	

3.

Ne yaptığını anlamadı?	Süt, çay ve su içtim.
Hey! Koşma.	Kitabımı alabilir miyim.

Yukarıdaki tablodan, yanlış kullanılan noktalama işaretlerinin parçaları ayrılınca tablonun son durumu nasıl olur?

- A.**

--	--

B.

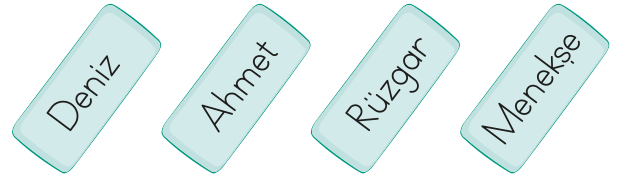
--	--

C.

--	--

sonerhoca.net

4.



Yukarıdaki adlardan kaç tanesi hem özel ad hem tür adı olarak kullanılabilir?

- A.** 2 **B.** 3 **C.** 4

5.

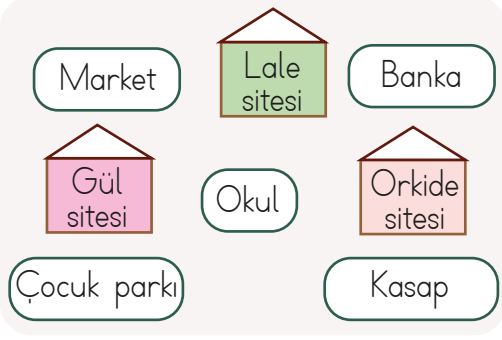


Olay sonbahar akşamı eski bir kulübede geçmektedir.

İlker'in ifadesinde, okuduğu öyküdeki olayla ilgili hangi ayrıntı yer almamaktadır?

- A.** Olayın ana karakteri
B. Olayın ne zaman yaşandığı
C. Olayın nerede yaşandığı

18.



Oturduğumuz evin kuzeyinde banka, batısında okul vardır.

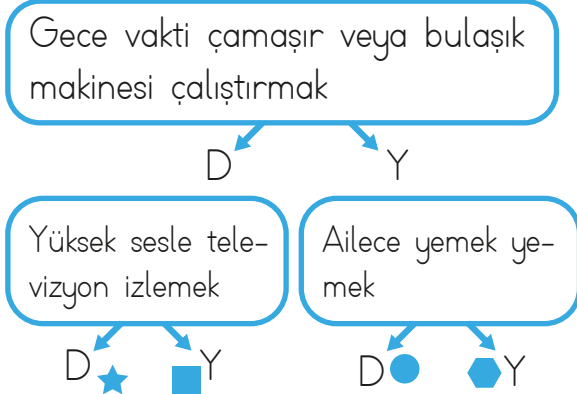
Yukarıdaki açıklamalara göre Buketlerin evi hangi sitededir?

- A. Gül sitesi B. Lale sitesi
C. Orkide sitesi

19. Aşağıdaki ifadelerden hangisi yanlıştır?

- A. Eskiden teknoloji daha çok gelişmişti.
B. Günümüzde farklı oyunlar oynanır.
C. Eskiden tahtadan yapılan arabalar vardır.

20. Aşağıdaki şemada komşularımızı rahatsız edecek durumlardan bahsediliyorsa "D" yolu, rahatsız edecek durumlardan bahsedilmiyorsa "Y" yolu takip edilecektir.



Buna göre hangi çıkışa ulaşılır?

- A. ★ B. ⬡ C. ●

ADI:

SOYADI:

SINIFI:

PUANI:

1	A	B	C
2	A	B	C
3	A	B	C
4	A	B	C
5	A	B	C
6	A	B	C
7	A	B	C
8	A	B	C
9	A	B	C
10	A	B	C
11	A	B	C
12	A	B	C
13	A	B	C
14	A	B	C
15	A	B	C
16	A	B	C
17	A	B	C
18	A	B	C
19	A	B	C
20	A	B	C