


11. Seda dersede gelmedi. Dün soğukta oynadığından dolayı hastalanmış olabilir mi?

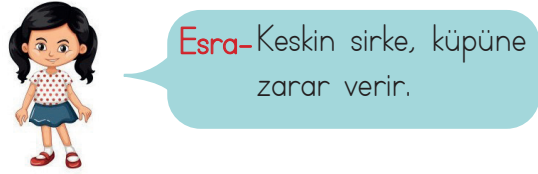
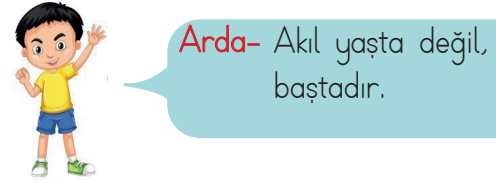
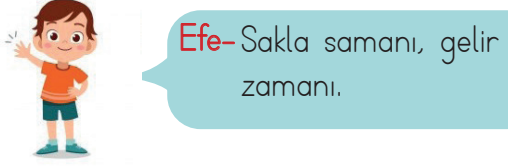
Yukarıdaki cümlede bulunan yazım yanlışını düzeltmek için aşağıdakilerden hangisi yapılmalıdır?

- A. "Soğukta" kelimesinde "ta" eki ayrı yazılmalıdır.
 B. "Dersede" kelimesindeki "de" eki ayrı yazılmalıdır.
 C. "-mi" eki bitişik yazılmalıdır.
 D. "Oynadığından" kelimesindeki "dan" eki ayrı yazılmalıdır.
12. Aşağıdaki cümlelerden hangisinin sonuna nokta getirilemez?
- A. Bugün denize gideceğiz
 B. Eyvah, koltuk hep yağ oldu
 C. Babam şehir dışına çıktı
 D. Dün, parkta amcamı gördüm

13. Aşağıdaki varlıkların adlarını sözlükten araştırdığımızda, ilk önce hangi varlığın adını buluruz?



14.  **Ali-** Ak akçe, kara gün içindir.



Yukarıda hangi iki çocuğun söylediği atasözü anlam olarak birbirine en yakındır?

- A. Efe - Esra
 B. Arda - Ali
 C. Esra - Arda
 D. Efe - Ali

15. Kahramanlar genellikle insan dışı canlı ve cansız varlıklardır.
 Sonunda ders verme amacı güdülür.
 Kahramanlarına insani özellikler verilir.

Yukarıda sözü edilen metin türü aşağıdakilerden hangisidir?

- A. Masal
 B. Fabl
 C. Hikaye
 D. Öykü

1. T.C kimlik numarası Anne adı
Adı ve soyadı Doğum tarihi

Yukarıdakilerden kaç tanesi yeni tip kimlik kartımızın ön yüzünde yer alan bilgilerdendir?

- A. 1
B. 2
C. 3
D. 4
2. Aşağıda verilen bilgilerden hangisi yanlıştır?
- A. Nüfus cüzdanı hangi ülke vatandaşı olduğumuzu gösteren resmi belgedir.
B. T.C. kimlik numaramız 11 hanelidir.
C. Parmak izi kişiye özeldir.
D. 18 yaşından küçüklerin nüfus cüzdanı yoktur.

3. Aşağıdakilerden hangisi empati kavramına uygun bir örnektir?
- A. Sokaktaki hayvanları her zaman beslerim.
B. Derslerimi, ders planıma uygun şekilde yaparım.
C. Okuldaki engelli arkadaşlarımla konuşurken, kendimi onların yerine koyarım.
D. Anneme ev işlerinde yardım ederim.

4.



Bugün okulda nüfus cüzdanımı kaybettim.

Ali, yukarıda ifade ettiği gibi nüfus cüzdanını kaybetmiştir. Buna göre Ali ailesiyle beraber yeni nüfus cüzdanı almak için nereye başvurmalıdır?

- A. Okuluna
B. Belediyeye
C. Nüfus Müdürlüğüne
D. Muhtarlığa

5.

- I - Cumhuriyetin ilanı
II - TBMM'nin açılması
III - Atatürk'ün doğumu
IV - Atatürk'ün Samsun'a çıkışı

Yukarıdaki olayların kronolojik sıralaması aşağıdakilerden hangisidir?

- A. I - III - II - IV
B. II - I - IV - III
C. III - IV - II - I
D. III - IV - I - II

6.

1. eski kıyafetler
2. düğünler
3. fotoğraflar
4. anlatılan anılar

Yukarıda verilenlerden hangisi aile tarihimizi öğrenirken yararlandığımız görsel kaynaklardandır?

- A. 1 ve 3
- B. 3 ve 4
- C. Yalnız 3
- D. Yalnız 4

7. SORUYA GEL



Sınıftaki en uzun boylara sahip olan Hasan ve Ahmet basketbol oynamayı çok sevmektedirler. Boş zamanlarında aralarında basketbol maçı yapmakta olan Hasan ve Ahmet'i bu etkinlik çok mutlu etmektedir.

Yukarıdaki metinde Hasan ve Ahmet ile ilgili aşağıdaki özelliklerden hangisinden söz edilmemiştir?

- A. Duygusal özellik
- B. Fiziksel Özellik
- C. İlgi alanları
- D. Yetenekleri

8. Aşağıdaki belgelerden hangisi kimlik özelliği taşımaz?

- A. Pasaport
- B. Ehliyet
- C. Müze kartı
- D. Nüfus cüzdanı

9. Aşağıdaki ifadelerden hangisi yanlıştır?

- A. Aile tarihimizi öğrenirken çeşitli kaynaklardan yararlanınız.
- B. Aile yapısı toplumdan topluma farklılık gösterir.
- C. Anne, baba ve çocuklardan oluşan aile yapısına çekirdek aile denir.
- D. Toplumumuzda sadece çekirdek aile yapısı ile yaşayan insan toplulukları vardır.

10. Fulden

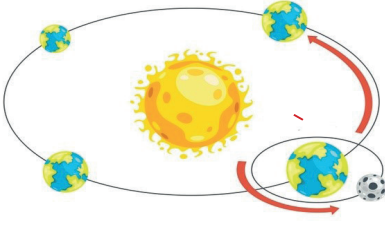


Bugün öğretmenimiz soy ağacı hazırlama ödevi verdi.

Fulden'in ödevinde aşağıdakilerden hangisi olmamalıdır?

- A. Annesi
- B. Dedesi
- C. En yakın arkadaşı
- D. Kuzenleri

1.



Dünya'nın yukarıdaki hareketiyle ilgili yorumlardan hangisi yanlıştır?

- A. Dünya, Güneş etrafında dönerken aynı zamanda kendi etrafında dönmektedir.
- B. Yukarıdaki konumuna bir daha gelmesi için 365 gün 6 saat geçmesi gereklidir.
- C. Güneş'e olan uzaklığı değişiklik göstermez.
- D. Dünya'nın, Güneş'e dönük yüzü gündüzü yaşar.

2. Aşağıdaki ifadelerden hangisi yanlıştır?

- A. Kayaçların içeriğinde çeşitli mineraller vardır.
- B. Cıva, katı bir madendir.
- C. Madenler ülke ekonomisi için çok büyük öneme sahiptir.
- D. Dünya'nın en büyük bor rezervi ülkemizde bulunmaktadır.

3. A şehrinde Güneş, B şehirden daha önce doğmaktadır. Sadece bu bilgiye dayanarak bu şehirlerle ilgili aşağıdaki yorumlardan hangisini yapabiliriz?

- A. A şehri daha doğuda yer almaktadır.
- B. B şehrinde daha çeşitli maden bulunmaktadır.
- C. B şehri yıl boyunca daha sıcak olmaktadır.
- D. A şehri, B şehrine göre daha kuzeydedir.

4. Ali; "Dedemin çiftliğinde bulunduğum süre boyunca Dünya, kendi eksenini etrafında 8 kez döndü." demiştir. Buna göre Ali kaç gün dedesinin çiftliğinde kalmıştır?

- A. 8 saat
- B. 8 gün
- C. 8 ay
- D. 8 yıl

5.



Görseldeki ürünle ilişkili olan maden aşağıdakilerden hangisidir?

- A. Altın
- B. Demir
- C. Kömür
- D. Gümüş

6. Aşağıdaki besinlerden hangisi daha yüksek oranda protein içeririr?



7. Dünya'nın, kendi etrafındaki dönüş hızı azalsaydı aşağıdakilerden hangisi gerçekleşmezdi?

- A. Bir günün süresi uzardı.
- B. Bir yıl daha uzun sürerdi.
- C. Bir gün 24 saatten oluşmazdı.
- D. Gece gündüz arasındaki süre, daha uzun olurdu.

8.

Hastalandığımız zaman
ağırlıklı beslenirsek daha kısa sürede
ijileşiriz.

Yukarıdaki ifadeye boş bırakılan yere hangisi yazılmalıdır?

- A. Vitamin
- B. Protein
- C. Karbonhidrat
- D. Yağ

9. Aşağıda verilen bilgilerden hangisi yanlıştır?

- A. Karbonhidratların birinci görevi; vücudumuzun enerji ihtiyacını karşılamaktır.
- B. Protein, düzenleyici besin gurubunda birinci sıradadır. Et, süt gibi besinlerde bolca bulunur.
- C. Yağlar, deri altında depo edilerek vücudumuzu dışarıdan gelecek darbelere karşı korur.
- D. Su, her besinin içinde az ve çok bulunur ve vücudumuzda düzenleyici rol oynar.

10. Aşağıdaki ifadelerden hangisi yanlıştır?

- A. Altın, linyit ve bakır ülkemizde çıkarılan bazı madenlerdendir.
- B. Fosiiller bize nesli tükenen canlı varlıklar hakkında bilgi verir.
- C. Canlı kalıntısı zaman geçtikçe taşlaşıp sertleşmeye başlar.
- D. Ülkemiz altın rezervi bakımından Dünya'nın, en zengin ülkesidir.



Aşağıdaki kelimelerden hangisi yukarıda görseli verilen eşyaların birine ait değildir?

- A. pencil B. windows
C. book D. board

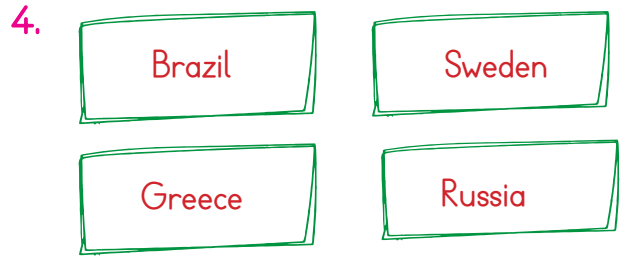


Yukarıdaki çocuğa sorulan sorunun cevabı aşağıdakilerden hangisidir?

- A. Yes, he is. B. No, he isn't.
C. Yes, she is. D. No she isn't

3. Aşağıdaki bayrak, ülke ve millet eşleşmelerinden hangisinde hata yapılmıştır?

	<u>Bayrak</u>	<u>Ülke</u>	<u>Millet</u>
A.		Turkey	Turkish
B.		France	French
C.		Australia	Australian
D.		China	Chinese



Aşağıdaki bayraklardan hangisi yukarıda İngilizcesi verilen ülkelerden birine ait değildir?

- A.
- B.
- C.
- D.



Yukarıdaki bayraklara göre çocukların cevapları aşağıdakilerden hangisidir?

- A. **Maria** : I am from USA.
Torres : I am from Russia.
- B. **Maria** : I am from Germany.
Torres : I am from Denmark.
- C. **Maria** : I am from France.
Torres : I am from Canada.
- D. **Maria** : I am from Germany.
Torres : I am from Canada.