

## CUMHURİYET BAYRAMI

Akın akın insanlar,  
Meydanlara koşuyor.  
Bugün bayram var diye,  
Bütün millet coşuyor.

Bu güzel Cumhuriyet,  
Devletimin temeli.  
El üstünde yaşatmak,  
Hepimizin emeli.

İ. HAKKI TALAS



1, 2 ve 3. soruları metne göre cevaplayalım.

1. Bütün milletin coşma nedeni nedir?

- A. Bayram var diye  
B. Düğün var diye  
C. Konser var diye

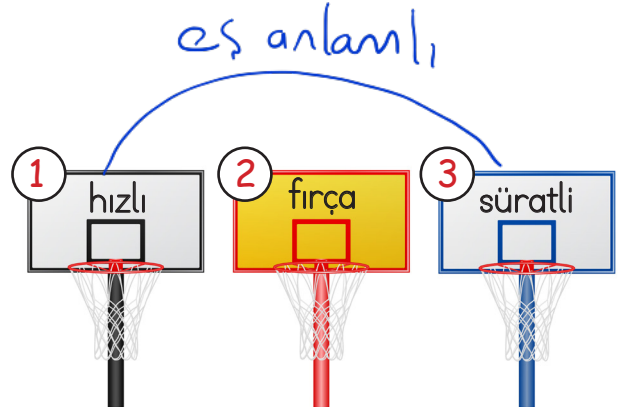
2. Bu güzel Cumhuriyet neyin temelidir?

- A. Devletimin  
B. İnsanların  
C. Herkesin

3. Yukarıdaki şiirin şairi kimdir?

- A. Mehmet Akif Ersoy  
B. Mustafa Kemal Atatürk  
C. İ. Hakkı Talas

4.

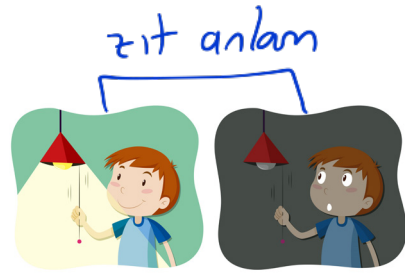


Celal eş anlamlı kelimelerin bulunduğu potaya basket atmıştır. Celal kaç numaralı potaya basket atmıştır?

- A. ① B. ③

C. ②

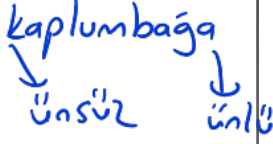
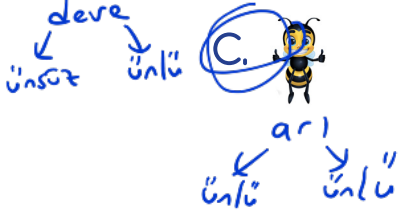
5.



Bu resimler arasındaki anlam ilişkisinin benzeri aşağıdaki hangi sözcükler arasında da vardır?

- A. uzun - kısa zıt  
B. kelime - sözcük eş  
C. yaprak - ağaç çapırsım

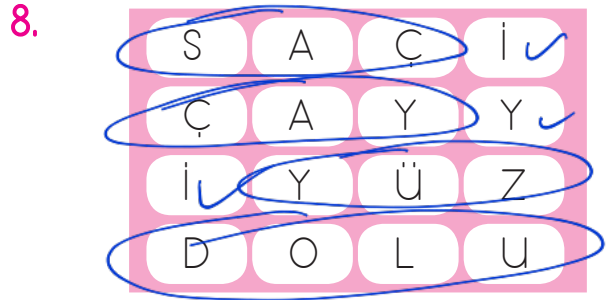


6. Aşağıdaki kelimelerden hangisi ünlü harf ile başlayıp ünlü harf ile bitmektedir?



7.

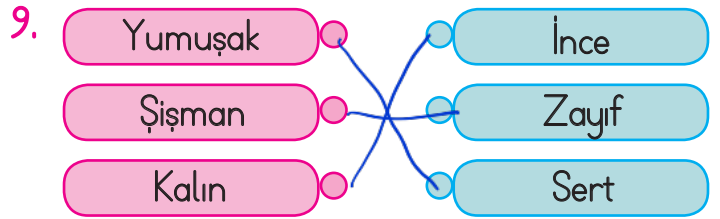
Saat	<i>Tren</i>	Masa
Gemi	<i>Plaka</i>	Aslan
<i>Dört</i>	Kedi	Maymun

Yukarıdaki tabloda satır sonuna sığmadığında bölünemeyen kelimeler boyanacaktır. Tablonun boyalı hali aşağıdakilerden hangisi gibi olur?

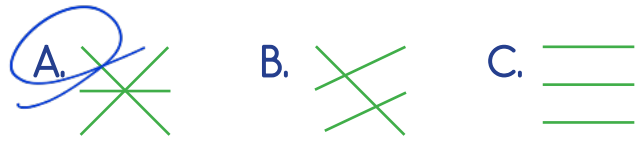


Yukarıdaki bulmacada sestış kelimeler bulunacaktır. Kalan harflerle şifre oluşturulacaktır. Bulmacadaki şifre aşağıdakilerden hangisidir?

- A. SAC  
B. İYİ  
C. AFERİN



Yukarıdaki sözcükler zıt anlamlarıyla eşleştirilirse hangi şekil oluşur?



10. Leyla yarın İzmir'e arkadaşlarını görmek için gidecek.

Yukarıdaki cümlede altı çizili kelimenin sorusu aşağıdakilerden hangisidir?

- A. Kim?  
B. Nereye?  
C. Ne zaman?

11. "Ağaç yaş iken eğilir." atasözünün anlamı aşağıdakilerden hangisi olabilir?

- A. Islak ağaç eğilir.  
 B. İnsanlar küçük yaşta kolay eğitilir.  
 C. Önünde saygı ile eğiliyorum.

12. Aşağıdaki kelimelerden hangisi eş anlamlısıyla aynı harf sayısına sahiptir?

- A. Uzak — Irak  
 B. Doktor — Hekim  
 C. Öğrenci — Talebe

Ali'ye pazardan kaç tane elma aldın?

13. kaç elma aldın  
 Ali'ye tane pazardan

Karışık verilen kelimelerden kurallı ve anlamlı bir cümle oluşturulursa sonuna hangi noktalama işareti gelir?

- A. Nokta  
 B. Ünlem işareti  
 C. Soru işareti

### 14. SORUYA GEL

4	2	1	3
	masa	kart	telefon
2	1	3	4
sıra		gazete	
1	3	4	2
	makarna	televizyon	
3	4	2	1
adalet	alabalık		

Yukarıdaki sudoku belli bir kurala göre oluşturulmuştur. Kurala göre renkli bölgelere gelen kelimeler aşağıdakilerden hangisi olabilir?

- A. elma zürafa deniz  
 B. hanımeli alt dalga  
 C. yelken kuş saçak

Sudokudaki sayılar o kutuya yazılacak sözcüğün kaç heceli olması gerektiğini ifade eder.

15. Aşağıdaki atasözlerinden hangisi anlam yönünden diğerlerinden farklıdır?

- A. Sakla samanı gelir zamanı.  
 B. Üzüm üzüme baka baka kararır.  
 C. Ak akçe kara gün içindir.

1.



Yukarıdaki rakamlarla yazılabilecek üç basamaklı en büyük sayı ile üç basamaklı en küçük sayının toplamı kaçtır?

- A. 707    **B. 725**    C. 545

En büyük      En küçük

$$\begin{array}{r} 520 \\ + 205 \\ \hline 725 \end{array}$$

2.

	+5	+2	+3
56	61 T ✓	63 T ✓	66 Ç ✓
95	100 Ç ✓	102 Ç ✓	105 T ✓
84	89 T ✓	91 Ç ✓	94 Ç ✓

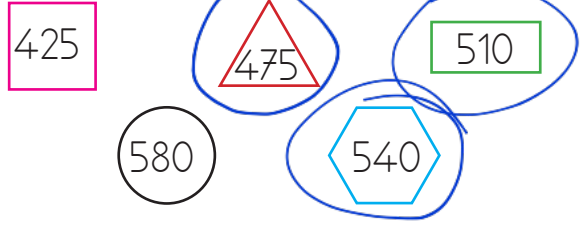
Yukarıdaki tabloda hangi sayının bulunduğu satırda hata yapılmıştır?

- A. 56    B. 95    **C. 84**

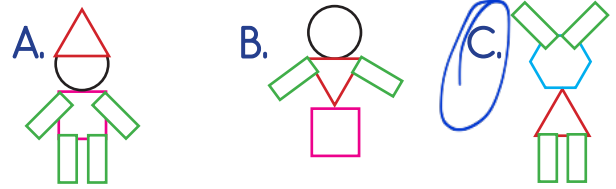
3. Aşağıdaki ritmik saymalardan hangisinin kuralı farklıdır?

- A. 310  $\xrightarrow{+100}$  410  $\xrightarrow{+100}$  510  $\xrightarrow{+100}$  610  $\xrightarrow{+100}$  710
- B. 115  $\xrightarrow{+100}$  215  $\xrightarrow{+100}$  315  $\xrightarrow{+100}$  415  $\xrightarrow{+100}$  515
- C. 250  $\xrightarrow{+10}$  260  $\xrightarrow{+10}$  270  $\xrightarrow{+10}$  280  $\xrightarrow{+10}$  290**


4. SORUYA GEL



Sedat en yakın yüzlüğe yuvarlandığında 500 olan sayılarla eşleşen sembollerini birleştirerek şekil oluşturmak istiyor. Doğru şekil aşağıdakilerden hangisidir? (Aynı semboller birden fazla kullanılabilir.)



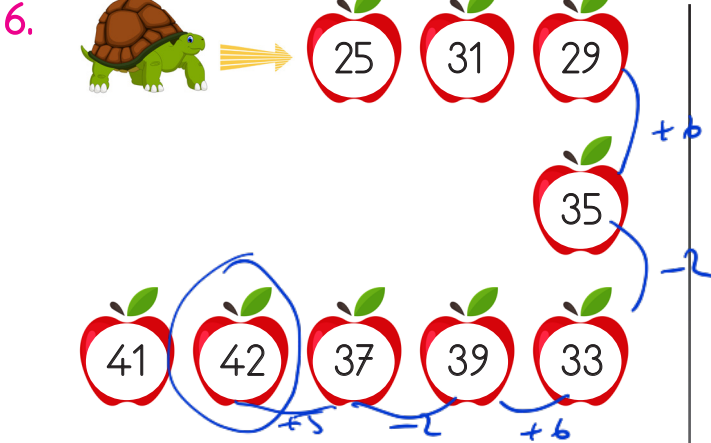
5.



- 530  
525'ü en yakın onluğa yuvarla.
- 500  
524'ü en yakın yüzlüğe yuvarla.
- 529  
524'ün birler basamağını 5 artır.


Furkan'ın ektiği fidan çeşitlerinin sayıları yukarıda verilmiştir. Çoktan aza doğru ektiği fidanların sıralaması aşağıdakilerden hangisi gibi olmalıdır?






6. 

Kaplumbağa, belli bir örüntüye göre dizili elmaları yiyecektir. Örüntüyü bozan bir elmanın tadı ekşidir. Ekşi elma aşağıdakilerden hangisidir?

- A.  B.  C. 

7. 

Arının çiçeklere olan uzaklıklarının büyükten küçüğe doğru sıralanması nasıl olur?

- A.   
 B.   
 C. 

8. Aşağıdaki toplama işlemlerinden hangisi eldeli toplama işlemidir?

A. 
$$\begin{array}{r} 452 \\ + 245 \\ \hline 697 \\ \hline \end{array}$$

B. 
$$\begin{array}{r} 531 \\ + 251 \\ \hline 782 \\ \hline \end{array}$$

C. 
$$\begin{array}{r} 379 \\ + 227 \\ \hline 606 \\ \hline \end{array}$$




9. Sanem'in, <sup>6</sup>VI lirası vardır. Deniz'in, Sanem'den <sup>4</sup>IV lira daha fazla parası vardır.

Sanem ile Deniz'in toplam kaç lirası vardır?







A. XIV <sup>14</sup> B. XVI <sup>16</sup> C. XV <sup>15</sup>

$$\begin{array}{r} \text{Sanem} \\ 6 \\ \hline \end{array}$$
 
$$\begin{array}{r} \text{Deniz} \\ 6+4=10 \\ \hline \end{array}$$
 
$$\begin{array}{r} \text{Toplam} \\ 10+6=16 \\ \hline \end{array}$$

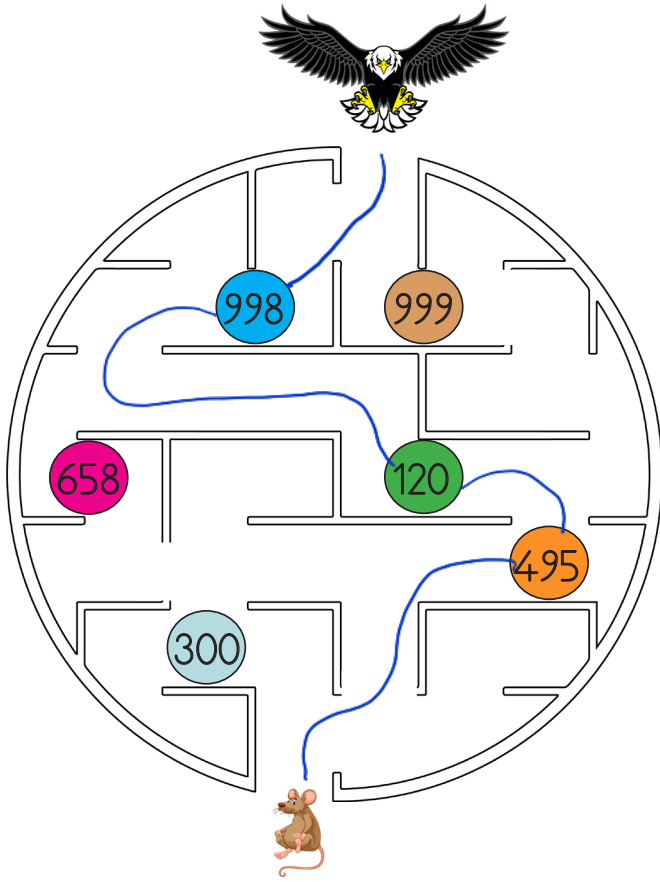
10. 

+	135	121	159
135	270		
118		239	277

Tabloya göre aşağıdakilerden hangisi yanlıştır?

- A.  >   
 B.  <   
 C.  > 
- $$\begin{array}{r} 135 \\ + 118 \\ \hline 253 \end{array}$$
 
$$\begin{array}{r} 135 \\ + 121 \\ \hline 256 \end{array}$$
 
$$\begin{array}{r} 135 \\ + 159 \\ \hline 294 \end{array}$$

## 11. SORUYA GEL



Kartal sırasıyla aşağıdaki kurallara uygun olan sayıların yazıldığı engelleri aşarak fareye ulaşacaktır.

1. aşamada üç basamaklı en büyük çift sayının olduğu engeli geçmiştir.
2. aşamada rakamları toplamı en küçük sayının yazılı olduğu engeli geçmiştir.
3. aşamada birler ve yüzler basamağındaki rakamların toplamının onlar basamağındaki rakama eşit olduğu engeli geçip fareye ulaşmıştır.

Kartal, aşağıdaki engellerden hangisini geçmemiştir?

- A. 999      B. 120      C. 495

12.  $257 + 296 + 315 = 868$

Yukarıdaki toplama işleminde toplam aşağıdakilerden hangisine eşittir?

- A. 7 yüzlük + 5 onluk + 3 birlik = 753  
 B. 8 yüzlük + 6 onluk + 8 birlik = 868  
 C. 7 yüzlük + 8 onluk + 5 birlik = 785

13.



Serkan

Okul numaram 237 sayısının en yakın onluğuna eşittir?

240

Serkan'ın okul numarası aşağıdaki işlemlerden hangisinin sonucuna eşittir?

A.  $\begin{array}{r} 107 \\ + 133 \\ \hline 240 \end{array}$       B.  $\begin{array}{r} 118 \\ + 119 \\ \hline 237 \end{array}$       C.  $\begin{array}{r} 125 \\ + 123 \\ \hline 248 \end{array}$

14.

$468 + 288 = 756$

Yukarıdaki toplama işlemi ile aşağıdaki toplama işlemlerinden hangisinin sonucu aynıdır?

A.  $\begin{array}{r} 415 \\ + 321 \\ \hline 736 \end{array}$       B.  $\begin{array}{r} 223 \\ + 453 \\ \hline 676 \end{array}$       C.  $\begin{array}{r} 523 \\ + 233 \\ \hline 756 \end{array}$

15. Toplama işlemi ile ilgili aşağıdaki bilgilerden hangisi doğrudur?

- A. Toplanan + Toplanan = Toplam  
 B. Toplanan + Toplam = Toplam  
 C. Toplam + Toplam = Toplanan

1. Aşağıdakilerden hangisi göz sağlığımızı korumak için yapılması gerekenlerdendir?

- A. Gürültülü ortamlardan uzaklaşmalıyız.  
 B. Televizyonu uygun uzaklıktan izlemeliyiz.  
 C. Kötü kokan yerlerden uzak durmalıyız.

2.



Hava katmanındaki gazlar canlıların yaşamını devam ettirebilmesi için gereklidir.

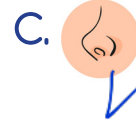
Bu açıklama numaralandırılmış canlılardan hangileri ile ilişkilidir?

- A. Yalnız 2  
 B. 1 - 3  
 C. 1 - 2 - 3

3. Aşağıdakilerden hangisi Dünya'nın gözlemlenemeyen katmanlarından biridir?

- A. Ateş küre  
 B. Su küre  
 C. Hava küre

4. Evin bahçesine çıktım. Güllerin kokusu adeta beni çekiyordu. Yanlarına gittim ve yumuşak yapraklarına dokundum. Bu olayda hangi duyu organı ile ilgili bir anlatım yoktur?






5.


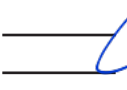

1. Bu katmandaki gazlar canlıların yaşamı için gereklidir. *Hava*  
 2. Güneşten gelen zararlı ışınları engeller. *Hava*  
 3. Dünya'nın dörtte üçünü oluşturur. *Su*

Yukarıdaki ifadelerin hangilerinde aynı katmandan bahsedilmektedir?

- A. 1 - 2  
 B. 1 - 3  
 C. 2 - 3

6. Süt kokusu   
Mavi araba   
Gülün yumuşaklığı 

Yukarıda verilen nesnelere bunların özelliklerini algılamamızı sağlayan duyu organlarının eşleştirmesi nasıl olmalıdır?

- A.  B.  C. 

7. Birsen doğru-yanlış çalışmasında soruları aşağıdaki şekilde işaretlemiştir:

1. Virajı dönen arabanın hareketi hızlanma hareketidir.  D  Y *Hata var*

2. Frene basan bir arabanın hareketi hızlanma hareketidir.  D  Y *Hata yok*

3. Salıncağın hareketi sallanma hareketidir.  D  Y *Hata yok*

Buna göre Birsen hangi soruda hata yapmıştır?

- A. 1. soruda  
B. 2. soruda  
C. 3. soruda

8. Dilek yolda yürürken arkasından *Kulak* birinin kendisine seslendiğini *duydu*. Arkasına dönüp *baktı*. *Göz*

Dilek bu durumda hangi duyu organını kullanmamıştır?

- A. ~~Kulak~~ B. ~~Göz~~  
C. Burun

9. Aşağıdakilerden hangisi hızlanma hareketi yapmıştır?

- A. Durağa yaklaşan otobüs  
B. Kalkışa geçen uçak  
C. Frene basan motosiklet

10.



Sepeti tutan çocuk hangi hareketi yapmaktadır?

- A. İtme  
B. Sallama  
C. Durdurma



1.



Hasan çok istediği yukarıdaki topu almıştır. Buna göre Hasan hangi alana daha çok ilgi duyuyor olabilir?

- A. Resim  
 B. Spor  
 C. Müzik

2.



Arkadaşlarıma karşı hoşgörülü davranırım. ✓



Arkadaşlarımin hatalarını yüzlerine vururum. —



Arkadaşlarıma yardımcı olmaya çalışırım. ✓

Yukarıdaki öğrencilerden hangilerinin davranışı olumludur?

- A.

- B.

3.

Hoşgörülü olmak

Agresif olmak

Merhametli olmak

Alaycı olmak

Yukarıdaki davranışlardan kaç tanesi olumsuzdur?

A. 1

B. 2

C. 3

4. Okuldaki yetkililerden, hangisini isteyemeyiz?

A. Okul bahçesine basketbol potası takılmasını istemek

B. Okul tuvaletlerine sıvı sabun koyulmasını istemek

C. Derslerin erken bitmesini istemek

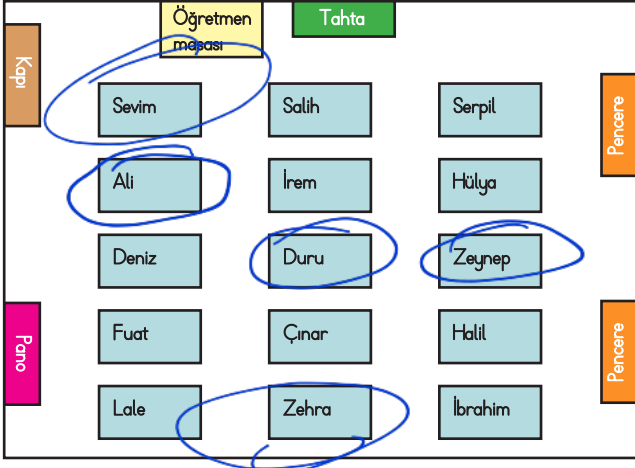
5. "Bir yerin kuş bakışı görünüşünün ölçüsüz şekilde kağıda aktarılmasına ....kroki..... denir."

Yukarıdaki cümlede noktalı yere aşağıdakilerden hangisi gelmelidir?

A. Kroki

B. Ölçek

C. Plan



6, 7 ve 8. Soruları yukarıdaki krokiye göre cevaplayalım.

6. Yukarıdaki krokiye göre hangi öğrenci yerini yanlış tarif etmiştir?

A. Ali: Soldan, baştan ikinci sırada, Deniz'in önündeyim. ✓

B. Zeynep: Sağdan, sondan üçüncü sırada, Halil'in önündeyim. ✓

C. Duru: Ortadan, baştan dördüncü sırada, İrem'in arkasındayım. —

7. Yukarıdaki krokiye göre Sevim nerede oturmaktadır?

A. Kapı tarafında

B. Orta sırada

C. Pencere tarafında

8. Krokiye göre ortadaki sırada baştan 5. sırada oturan aşağıdakilerden hangisi olabilir? Zehra (Kız)



9. Aşağıdakilerden hangisi okul kaynaklarının kullanımı hakkında doğru bir ifade kullanmıştır?

A. Dilara: Kaynakları tutumlu kullanmaya özen göstermeliyiz. ✓

B. Kadir: Kaynaklar tükenmediği için rahat rahat kullanabiliriz. —

C. Duru: Herkes kaynakları israf edebilir. —

10. Okulumuzda farklı etkinliklere katılmanın birçok yararı vardır. Bu etkinliklere katılmakla bilgimiz artar. Sorumluluk sahibi oluruz. Boş zamanlarımızı nasıl değerlendirebileceğimizi öğreniriz.

Aşağıdakilerden hangisi sosyal yardımlaşmaya örnektir?

A. Topluca sinemaya gitmek

B. Kardeş okul için kitap toplama kampanyası düzenlemek

C. Okul içinde basketbol turnuvası düzenlemek

1. father is my he

Doğru sıralanışı hangisidir?

- A) He is my father. B) My father is he. C) He father my is.

2. Hangisi bir aile üyesi değildir?

- A) aunt *hala* B) mother *anne* C) one *bir*

3. Hangisi resme göre uygun değildir?

- A) fast *hızlı*  
B) slow *yavaş*  
C) tall *uzun*



4.



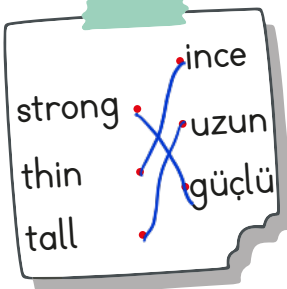
Hello! My name is Filiz.

I'm tall and fat. → *uzun ve şişman*

Kaç numaralı kişi yukarıdaki cümleyi söylemiş olabilir?

- A) 1 B) 3 C) 2

5.



Yandaki İngilizce sözcüklerle Türkçe karşılıkları eşleştirildiğinde doğru eşleşme hangisi olur?

