

Ahmet, bilmediği şeyleri araştırmayı çok sevdi. O gün arkadaşlarından bazıları Amazon ormanlarında yaşayan bazı canlılardan bahsediyordu. Ahmet bu konuda bilgi sahibi olmadığı için dinlemekle yetindi. Arkadaşlarının bahsettikleri bilgiler çok ilgisini çekmişti. Eve gidince burada yaşayan canlı türlerini ve canlıların özelliklerini araştırmaya başladı. Araştırırken bilgisayar ve ansiklopedi olmak üzere birden fazla kaynaktan yararlandı. Bu konuda birçok bilgi edinmişti. Edindiği bilgiler çok hoşuna gitmişti. Ahmet'in araştırmayı seven bir çocuk olması bilgi haznesinin artmasına neden oluyordu.

(1 ve 2. soruyu yukarıdaki metne göre cevaplayalım.)

1. Metne göre aşağıdakilerden hangisi yanlıştır?

- A. Ahmet, çeşitli bilgileri araştırmayı seven bir çocuktur.
- B. Ahmet merak ettiği bilgileri araştırırken tek kaynaktan yararlanıyordu.
- C. Ahmet, arkadaşlarının bahsettiği konu hakkında bilgi sahibi olmayınca dinlemekle yetindi.
- D. Ahmet, eve gidince Amazon ormanlarında yaşayan canlıların özelliklerini araştırdı.

2. Yukarıdaki metnin türü aşağıdakilerden hangisidir?

- A. Bilgilendirici metin
- B. Hikaye edici metin
- C. Şiir
- D. Fabl

3. Aşağıdaki cümlelerden hangisinde zıt anlamlı kelimeler bir arada kullanılmamıştır?

- A. Siyah beyaz çiçekler topladım.
- B. Aşağı yukarı üç yıl oldu.
- C. Okul hayatım inis çıkışlarla geçti.
- D. Ödevimi yapar yapmaz geleceğim.

4.



Şiir mısralar halinde yazılır.
Şiiri yazan kişiye şair denir.
Dört dizelik şiir kümelerine kıta denir.

Yukarıdaki öğrencinin cümlelerinde boş bırakılan yerlere aşağıdaki kelimelerden hangisi yazılamaz?

- A. kıta
- B. şair
- C. mısralar
- D. düz yazı

Soruyu Gel!

5.

Bir manavda en çok satışı yapılan ürün hakkında şunlar bilinmektedir:
1 - Ürünün isminin tüm ünlü harfleri kalındır ve 2 hecelidir.
2 - Ürünün isminin içerdiği bir harf Türkçe'de hiçbir kelimenin baş harfi olamaz.

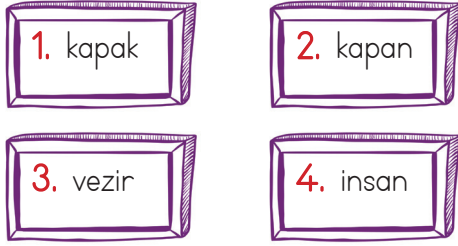
Bu manavın en çok stok yaptığı ürün aşağıdakilerden hangisidir?



6. "Okul" kelimesi aşağıdaki kelimelerden hangisini çağrıştırmaz?

- A. Ders ✓
 B. Kitap ✓
 C. Çay
 D. Tenefüs ✓

7.



Yukarıdaki kelimelerin alfabetik sıralaması aşağıdakilerden hangisidir?

- A. 1 - 2 - 3 - 4
 B. 3 - 4 - 1 - 2
 C. 4 - 1 - 2 - 3.
 D. 4 - 2 - 1 - 3

insan - kapak - kapan - vezir
 4 1 2 3

eş anlam

8.



Yukarıdaki kelimeler arasında bulunan anlam ilişkisi aşağıdakilerden hangisinde yoktur?

- A. yurt - vatan ✓
 B. güz - sonbahar ✓
 C. doğa - tabiat ✓
 D. kırmızı - ak —

9. Ali, Hakan'la konuşurken Hakan Alinin söylediği bir şeyden sonra "Bu ancak masallarda olur." demiştir. Hakan aşağıdaki cümlelerin hangisinden sonra bunu söylemiş olabilir?

- A. Babam ile geçen hafta balığa çıktık.
 B. Kardeşim, denizde çok büyük bir köpek balığı görmüş.
 C. Kedim ile beraber gökyüzünde gezintiye çıktık.
 D. Dün, arkadaşlarımla futbol maçı yaptık.

10.



Bugün sınıfta deyimlerle ilgili söylediğim yanlış bilgiyi öğretmenimiz düzeltti.

Aşağıda Yusuf'un söylediği bilgiler yer almaktadır. Hangi bilgi hatalıdır?

- A. Deyimlerin söyleyeni belli değildir. ✓
 B. Deyimler, genelde mecaz anlam taşırlar. ✓
 C. Deyimler, öğüt verme amacı taşırlar. —
 D. Deyimlerde yer alan kelimelerin yerleri değiştirilemez. ✓

11. Aşağıdaki ifadelerden hangisi yanlıştır?

- A. Pekleştirme kelimelerde anlamı kuvvetlendirir.
 B. Pekleştirme kelimeleri bazen bitişik yazılır.
 C. Pekleştirme kelimelerin hepsinde aynı kelime iki yere yazılır.
 D. "Kapkara bulutlar gökyüzünü kapladı." cümlesinde pekiştirilen bir kelime vardır.

12.

Y	Her kelimenin zıt anlamlısı vardır.
Y	"Git" kelimesinin zıt anlamlısı "gitme" kelimesidir.
D	"Kapalı" kelimesinin zıt anlamlısı 4 harften oluşmaktadır. (acıkt)

Yukarıdaki bilgiler doğru ise (D), yanlış ise (Y) yazılacaktır. Tablonun son görüntüsü aşağıdakilerden hangisi gibi olur?

- A.

D	Y
D	Y
D	D

 B.

Y	Y
Y	D
D	D





 C.

D	Y
Y	D
D	D





 D.

Y	Y
D	D
D	D

13. Aşağıdaki görsellerden hangisinin isminin tüm ünlü harfleri kalındır?

- A. 
Otobüs
- B. 
telefon
- C. 
kazan
- D. 
köpek

14. Aşağıdaki sözcüklerden hangisi eş sesli değildir?

- A. 
bin
- B. 
yap
- C. 
kaz
- D. 
yaz

15.

Denizden çok korkmama rağmen geçen yaz yüzme kursuna yazıldım. Yüzme hocam sayesinde deniz korkumu yendim ve denizi çok sevmeye başladım. Yaz sonuna doğru iyi kötü yüzmeyi öğrendim. Gelecek yaz denize girmeyi iple çekiyorum.

Yukarıdaki metinle ilgili aşağıda söylenenlerden hangisi yanlıştır?

- A. Eş sesli kelime kullanılmıştır. ✓
 B. 1. cümlenin kelime sayısı dokuzdur. ✓
 C. Eş anlamlı kelimeler birlikte kullanılmıştır. ✓
 D. Zıt anlamlı kelimeler birlikte kullanılmıştır. ✓

1. "72865" sayısının çözümlenmiş şekli aşağıdakilerden hangisidir?

- A. Yedi yüz binlik, iki on binlik, sekiz yüzlük, altı onluk, beş birlik
 B. Yedi on binlik, iki binlik, sekiz yüzlük, beş birlik
 C. Yedi binlik, iki yüzlük, sekiz onluk, beş birlik
 D. Yedi on binlik, iki binlik, sekiz yüzlük, altı onluk, beş birlik

2. Aşağıdaki sayıların altı çizili rakamlarının hangisinin sayı değeri en büyüktür?

- A. 652869 → 8
 B. 965699 → 9
 C. 286365 → 2
 D. 165423 → 5

3. "58975" sayısının onlar basamağındaki rakam 4 azaltılıp, on binler basamağındaki rakam 3 artırılıyor. Oluşan yeni sayı kaçtır?

- A. 84975
 B. 18978
 C. 88935
 D. 88979

4.

1850	...1950...	2050	2150
2250	2350	2450	2550

Yukarıdaki ritmik saymada boş bırakılan yerlere sırasıyla hangi sayılar gelmelidir?

- A. 1910 - 1950 - 2400
 B. 1950 - 2450 - 2550
 C. 1950 - 2450 - 2650
 D. 1950 - 2550 - 2650

5.



Yukarıdaki sayının okunuşu aşağıdakilerden hangisidir?

- A. Altmış bin beş yüz altmış üç
 B. Altı yüz beş bin altmış üç
 C. Altı yüz beş bin beş yüz altmış üç
 D. Altı yüz elli bin beş yüz altmış üç

6. 76.25.28

Yukarıdaki 6 basamaklı sayının rakamlarının toplamı 30'dur. Binler ve onlar basamağındaki sayı aynı olduğuna göre binler basamağındaki rakamın basamak değeri kaçtır?

- A. 1000
- B. 2000
- C. 3000
- D. 4000

$$7 + 6 + 5 + 8 = 26$$

$$30 - 26 = 4$$

2
2
 (Binler) (Onlar)

7. "845125" sayısının binler bölüğündeki rakamların toplamı kaçtır?

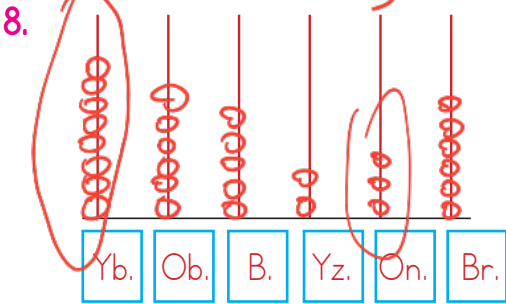
- A. 8
- B. 10
- C. 17
- D. 25

845.125

Binler bölüğü

↓

$$8 + 4 + 5 = 17$$



Yukarıdaki abaküste "865236" sayısı dairelerle gösterilecektir. Abaküse çizilen yüzbinler ve onlar basamağındaki dairelerin toplam sayısı kaçtır?

- A. 9
- B. 11
- C. 12
- D. 14

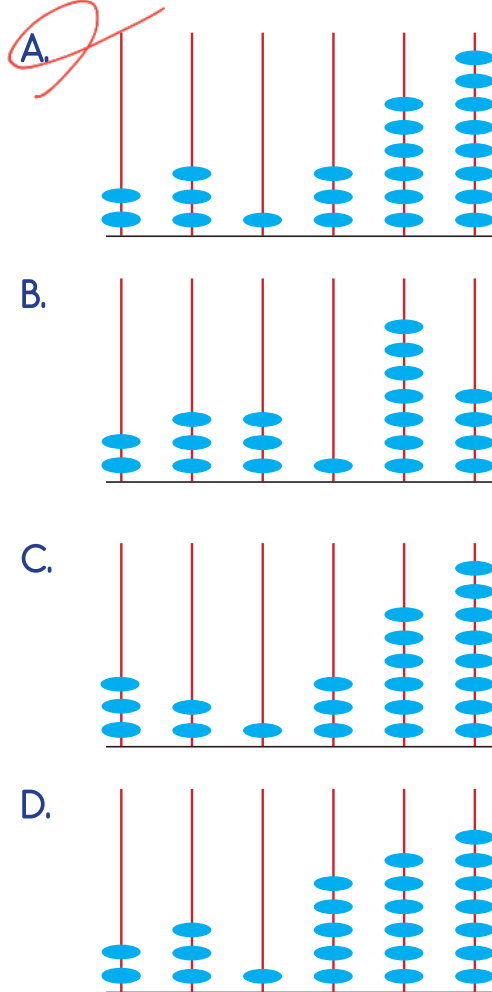
$$8 \times 3 = 11$$

9. 8 5 1 0 6

Yukarıdaki kartlarda yazılı olan rakamlarla oluşturulabilecek en büyük beş basamaklı sayı kaçtır?

- A. 85106
- B. 68051
- C. 86510
- D. 85610

10. "231368" sayısının abaküste gösterimi aşağıdakilerden hangisidir?



11. $\overset{2900}{2865}$ $\overset{2900}{2945}$ $\overset{3000}{2965}$ $\overset{2800}{2849}$

2865	2945	2965	2849
------	------	------	------

Yukarıdaki sayılardan yüzlüğe yuvarlanmış şekli 2900 olanın kutuları boyanacaktır. Şeklin son görünümü aşağıdakilerden hangisidir?

- A.
- B.
- C.
- D.

12. "45216" sayısının en yakın yüzlüğe yuvarlanmış şeklinin "45300" olması için sayıya en az kaç eklenmelidir?

- A. 34
- B. 44
- C. 45
- D. 99

Yüzlüğe yuvarlandığında 45300 sayısını veren en küçük sayı 45250'dir.

$$\begin{array}{r} 45250 \\ - 45216 \\ \hline 00034 \end{array}$$

13. 4 yüz binlik + 2 binlik + 3 yüzlük + 5 onluk + 9 birlik

Yukarıda çözümlenmiş şekli verilen sayı aşağıdakilerden hangisidir?

- A. 42359
- B. 420359
- C. 402359
- D. 423059





402359

14. Selin 2400'den başlayarak biner biner ileri doğru sayıp sekizinci saymada duruyor. Selin'in son söylediği sayı kaçtır?

- A. 7400
- B. 8400
- C. 9400
- D. 10400

$\frac{1}{2400}$ $\frac{2}{3400}$ $\frac{3}{4400}$ $\frac{4}{5400}$ $\frac{5}{6400}$ $\frac{6}{7600}$ $\frac{7}{8600}$ $\frac{8}{9400}$

15.

$\overset{1700}{\text{soba}}$ 1720 	$\overset{1800}{\text{makine}}$ 1796 
$\overset{1800}{\text{koltuk}}$ 1755 	$\overset{1700}{\text{masa}}$ 1749 

Hasan Bey katalogda gördüğü ürünlerden yüzlüğe yuvarlanmış şeklinin "1800" olanlarını almıştır. Hasan Bey aşağıdaki ürünlerden hangilerini almamıştır?

- A. soba - makine
- B. soba - koltuk
- C. makine - masa
- D. soba - masa

1. I - 2008 yılında liseye gittim.
II - 1993 yılında doğdum.
III - 2014 yılında üniversiteye başladım.
IV - 2000 yılında ilkokula başladım.

Yukarıdaki olayların kronolojik sıralaması aşağıdakilerden hangisidir?

- A. I - II - III - IV
B. II - IV - I - III
C. II - IV - III - I
D. II - I - IV - III

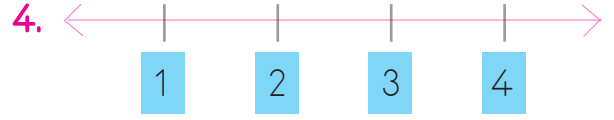
1993
2000
2008
2014

2. İkiz kardeşlerin resmi kimlik belgesinde aşağıdakilerden hangisi aynı değildir?

- A. Doğum tarihleri
B. T.C. kimlik numaraları
C. Doğum yerleri
D. Anne adları

3. Herkese doğduğu anda verilen kimlik belgesi aşağıdakilerden hangisidir?

- A. Ehliyet
B. Pasaport
C. Nüfus cüzdanı
D. Öğrenci kartı



Cumhuriyet'in ilanı 1923
Atatürk'ün Samsun'a çıkışı, 1919
Atatürk'ün doğumu 1881
TBMM'nin açılması 1920

Yukarıdaki olaylar kronolojik sıraya göre tarih şeridine yazıldığında 4 numaralı yere hangisi gelir?

- A. Cumhuriyet'in ilanı
B. Atatürk'ün Samsun'a çıkışı
C. Atatürk'ün doğumu
D. TBMM'nin açılması

5. ■ Her Türk vatandaşının bir T.C. Kimlik numarası vardır. ✓
● Resmi kimlik belgemizde bilgilerimizin depolandığı bir çip bulunur. ✓
⬡ Resmi kimlik belgesi hangi ülke vatandaşı olduğumuzu göstermez. —
▲ Resmi kimlik belgesi kişiye özeldir. ✓

Yukarıdaki ifadelerden hangisi yanlıştır?


- A. ■ B. ● C. ⬡ D. ▲

6. Sedat, kargoyla kişiye özel gelen kitabını almak için evden aniden çıkmıştır. Hızlıca evden çıkarken kimliğini almayı unutmuştur.

Yukarıdaki olayda Sedat'ın kitabı teslim alması için hangisini net bilmesi işini daha fazla kolaylaştırır?

- A. Doğum yerini
B. Doğum tarihini
C. T.C. kimlik numarasını
D. Dedesinin adını

7.



Selin yukarıda çıkardığı aile fotoğraflarını kronolojik sıraya dizip albüme yerleştirmek istiyor. Bunu yaparken neye dikkat etmelidir?

- A. Fotoğrafların tarihlerine dikkat etmelidir.
B. En beğendiği fotoğrafı en başa koymalıdır.
C. Fotoğrafların boyutlarına göre dizmelidir.
D. Kendi fotoğraflarından başlamalıdır.

8.



Özgeçmişini hazırlamak isteyen Serdar yukarıdakilerin kaç tanesinden faydalanabilir?

- A. 1
B. 2
C. 3
D. 4

9. Olayların tarihsel sıralanışı ile ilgilenen bilim dalına verilen isim aşağıdakilerden hangisidir?

- A. Kronoloji
B. Soy Ağacı
C. Fizik
D. Kimya

10. Türkiye'de doğan iki kişinin resmi kimlik belgelerinde aşağıdaki bilgilerden hangisi kesinlikle aynıdır?

- A. Doğum yeri
B. Uyruğu
C. Cinsiyeti
D. Doğum tarihi

1.



Yukarıda gösterilen dünya modelinde numaralanmış yerler sırasıyla hangi katmanlardır?

- A. Hava Katmanı - Kara Katmanı
- B. Hava Katmanı - Su Katmanı
- C. Kara Katmanı - Hava Katmanı
- D. Kara Katmanı - Su Katmanı**

2. Elle tutulup gözle görülemeyen, Dünya'nın en dış katmanı hangisidir?

- A. Atmosfer**
- B. Kara Katmanı
- C. Su Katmanı
- D. Yer Küre

3.



Doğada tek sıvı halde bulunan ve yukarıdaki malzemede kullanılan maden aşağıdakilerden hangisidir?

- A. Bor Minerali
- B. Alüminyum
- C. Cıva**
- D. Bakır

4. Yer Kabuğu için söylenen aşağıdaki bilgilerden hangisi yanlıştır?

A. Çeşitli taş, toprak kayalardan oluşmuştur.

B. Yer kabuğunun kalınlığı Dünya'nın her bölgesinde aynıdır.

C. Yer kabuğundaki kayaları çeşitli mineraller oluşturur.

B. Yer kabuğunun yapısında maddeler yer alır.

5.



Yukarıdaki kişilerin inceledikleri madde hangi şıkta doğru olarak verilmiştir?

- A. Petrol
- B. Fosil**
- C. Cıva
- D. Canlı

6. Fosilleri inceleyen bilim adamlarına verilen isim aşağıdakilerden hangisidir?

- A. Doktor
- B. Biyolog
- C. Paleontolog**
- D. Arkeoloji

7. Aşağıdakilerden hangisi fosil yakıt olarak adlandırılan madenlerden değildir?

- A. Kömür
- B. Petrol
- C. Bakır**
- D. Doğal gaz

8.



Çelik sanayisinin en önemli ham maddelerinden biridir. Türkiye’de en çok Sivas’ta çıkarılır.

Efe’nin özelliklerini söylediği maden aşağıdakilerden hangisidir?

- A. Alüminyum
- B. Bakır
- C. Demir**
- D. Bor Minerali

9.

Y	Sadece hayvanların fosilleri oluşabilir.
D	Fosilleşme için uzun zaman gereklidir.
D	Fosiller mineralleri, mineraller madenleri oluşturur.
D	Fosiller, nesli tükenmiş canlılar hakkında bilgi verir.

Yukarıda verilen bilgilerin başındaki kutuların doğru olanına (D), yanlış olanına (Y) konulacaktır. Aşağıdakilerden hangisi tablonun son görünümüdür?

A.	D	B.	D	C.	Y	D.	D
	Y		D		D		Y
	D		D		D		Y
	Y		Y		D		D

10. Aşağıdaki ifadelerden hangisi yanlıştır?

- A. Ülkemizde birçok maden rezervi bulunmaktadır.
- B. Ülkemizde en çok çıkarılan maden altındır.**
- C. Kaya tuzu bir mineraldir.
- D. Mineraller bir araya gelerek madenleri oluşturur.

1. eraser ruler scissors

Yukarıda bazı okul eşyalarının İngilizceleri verilmiştir. Aşağıdakilerden hangisi yukarıda adı verilenlerden değildir?



2. 20 twenty 30 thirty 40 50 fifty 60 sixty

Yukarıdaki ritmik saymada boş bırakılan yere aşağıdakilerden hangisi gelmelidir?

- A) forty B) seventy C) eighty D) ninety



Yukarıda boş bırakılan yere aşağıdakilerden hangisi gelmelidir?

- A) pencil B) book C) table D) door



Yukarıdaki cümlede boş bırakılan yere aşağıdakilerden hangisi gelmelidir?

- A) table B) tables C) chairs D) bags

5. Yanda karışık olarak verilen harflerle aşağıdakilerden hangisinin ismi oluşturulabilir?

computer
C - M - O - T - E - U - R - P

