




1.  Aklımdan tuttuğum sayı en yakın onluğu 40 olan en küçük sayı kadardır.


Ebru'nun aklından tuttuğu sayının 2 deste fazlası kaçtır?






 Çözüm:

2. Baran 13 soru daha çözerse 60 soruluk test kitabını bitirecektir. Buna göre Baran kaç soru çözmüştür?


 Çözüm:

3. İki basamaklı en küçük doğal sayının 54 fazlasının 17 eksiği kaçtır?


 Çözüm:

4.  48  44  .....  36  .....

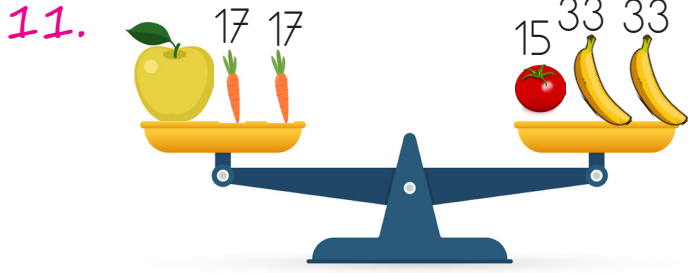
Yukarıdaki sepetlerdeki yumurtalar bir öncekinden 4 eksiktir. Buna göre noktalı yerlere gelmesi gereken sayıların toplamı kaçtır?

 Çözüm:


5. Bir baloncu elindeki balonların 19 tanesini satınca 43 balonu kalıyor. Buna göre satmadan önce baloncunun kaç balonu vardı?

 Çözüm:






Yukarıdaki ürünlerin gram cinsinden kütleleri verilmiştir. Terazî dengede olduğuna göre elma kaç gramdır?

 Çözüm:

13.





Yukarıdaki tahterevallideki çocukların kilogram cinsinden kütleleri verilmiştir. Tahterevallinin dengede durması için zayıf olan çocuğun kaç kilograma ihtiyacı vardır?

 Çözüm:


sonerhoca.net

12. Bir okul kantininde 86 hamburgerin 47 tanesi satılıyor. Buna göre tahmini kaç hamburger kalmıştır?




 Çözüm:

14. Banu 96 lirasından bir miktar harcama yapınca 58 lirası kalıyor. Banu kaç lira harcamıştır?

 Çözüm:

15. Emir 61 oyuncağının bir kısmını kardeşine verdi. Emir'in 29 oyuncağı kaldı. Emir kardeşine kaç oyuncak verdi?

 Çözüm: