

1.



70

Yukarıdaki evin numarasının en yakın onluęu verilmiřtir. Numaranın birler basamaęındaki rakam 7 olduęuna gore ev numarası 6 desteden ka fazladır?



özum:

2. Bir okulun spor odasında 3 deste futbol topu 2 düzine voleybol topu vardır. Topların 14 tanesi kullanılmaz durumda olduęuna gore ka tanesi kullanılabilir?



özum:

3. Bir ıkarma iřleminde ıkan 18, fark 25 ise eksilen katır?



özum:

4.



Annem yukarıdaki pastaların her birini 3'er ilek ile süsledi. Geriye 21 ilek kaldı. Süslemeden once ka ilek vardı?



özum:

5. Sınıfımızda 15 kız, kızlardan 4 fazla erkek ogrenci vardır. Sınıfımızdaki toplam ogrenci sayısı katır?



özum:



32 TL



46 TL




27 TL


Bir oyuncak mağazasında satılan oyuncakların fiyatları verilmiştir?

6 ve 7. soruları yukarıdaki bilgilere göre cevaplayalım.

6. En pahalı ve en ucuz oyuncak alıp 80 lira ödeyen biri kaç lira para üstü alır?


 Çözüm:

7. 50 lirası olan Uras araba ile yarış motorunu almak istiyor. Buna göre Uras'ın kaç liraya ihtiyacı vardır?


 Çözüm:

8. Bir miktar öğrencisi bulunan okul servisine 13 öğrenci binince serviste 66 öğrenci oluyor. Buna göre okul servisinde en başta kaç öğrenci vardı?




 Çözüm:

9. Ben doğduğumda annem 27 yaşındaymış. Ben 9 yaşında olduğuma göre annemin bugünkü yaşı kaçtır?

 Çözüm:

10. Fidan'ın 60 lirası, Emre'nin ise 27 lirası vardır. Emre, bir miktar para biriktirince Fidan ile paraları eşit oldu. Buna göre Emre kaç lira biriktirmiştir?

 Çözüm:

11.



Bir manavdaki 78 meyvenin 39'u elma kalanı ise muzdur. Muzlardan iki deste kadarı satılınca geriye kaç tane muz kalır?

 Çözüm:

12. 58 sayısının 34 fazlasının 24 eksigi kaçtır?

 Çözüm:

13.



Bir kitap fuarında 91 kitabın 22 tanesi 1. gün, 33 tanesi 2. gün satılmıştır. Satılmayan kaç kitap kalmıştır?

 Çözüm:

sonerhoca.net

14. Bir vazoda 37 kırmızı, 29 beyaz gül vardır. Bu güllerin iki düzinesi ile buket yaptık. Geriye kaç gül kaldı?

 Çözüm:

15. 90 günlük tatilin 33 gününü İzmir'de, 18 gününü Adana'da geçirdim. Geriye kaç günlük tatilim kaldı?

 Çözüm:
