

Her yıl 12- 18 Aralık tarihleri arasında okullarda Yerli Malı



Haftası kutlanır. Haftanın amacı, yerli tüketimin bilinçli olarak artmasıdır. Bu hafta süresince tutumlu olmanın, yatırım yapmanın ve "yerli malı kullanmanın önemi" vurgulanır. Tüketilecek ürünlerin ülkede üretilen ürünlerden seçilmesinin gerekliliği anlatılır. Bu şekilde ülkenin zenginliklerinin artması amaçlanmaktadır.

1 ve 2. soruları metne göre cevaplayalım.

1. Hangisi Yerli Malı Haftası'nın amaçlarından biri değildir?

- A. Tüketim bilincini artırmak
- B. Boş zamanlarımızı değerlendirmek
- C. Turumlu olmanın önemine dikkat çekmek

2. Yerli Malı Haftasında ne anlatılır?

- A. İhtiyaçlarımızın ülkede üretilen ürünlerden seçilmesinin gerekliliği
- B. Okumanın önemi
- C. Sağlıklı ve dengeli beslenme

3.

Adananın kebabını severim

Yukarıdaki cümlede kaç tane noktalama işareti unutulmuştur?

- A. 1
- B. 2
- C. 3

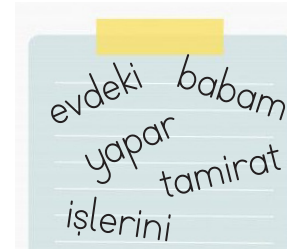
4.



Yukarıdaki resim iki sözcüğün anlam ilişkisini göstermektedir

Bu sözcüklerin anlam ilişkisi aşağıdakilerden hangisidir?

- A. Eş anlam
- B. Zıt Anlam
- C. Eş sesli



5.

Yukarıdaki sözcüklerle anlamlı bir cümle kurarsak en sonda hangi sözcük olur?

- A. yapar
- B. işlerini
- C. evdeki

6. Aşağıdaki kelimelerden hangisinin ilk harfi cümle içinde her zaman büyük harfle yazılır?

- A. İl B. İlçe C. Konya

8.



Çocukların ellerindeki sayılara göre aşağıdaki hangi işlemin sonucu yanlıştır?

- A. - = 30
 B. - = 60
 C. - = 20

7. $70 \xrightarrow{-20} \dots \xrightarrow{-30} \dots$

Yukarıdaki çıkarma işlemini zihinden yaptığımızda noktalı yerlere gelmesi gereken sayıların toplamını kaç buluruz?

- A. 81 B. 70 C. 73

9. 13 yıl önce 25 yaşında olan dayım 5 yıl sonra kaç yaşında olur?

- A. 44 B. 45
 C. 43


10.




1. torba



2. torba



3. torba



Efe, 1.torbadaki misketlerden 3 deste kadarını 2.torbaya atmıştır. 1.torbada kalan misketlerden 1 onluk 6 birlik kadarını da 3.torbaya atmıştır. Son durumda en fazla ve en az misketin bulunduğu torbalardaki misketlerin tahmini farkı kaçtır?

- A. 10 B. 20 C. 30

11.



13 TL



24 TL

Fiyatları verilen ürünleri alıp sayıcıya 50 lira veren biri tahminen kaç lira para üstü alır?

A. 20 B. 10 C. 30

12.

2 onluk 6 birlikten oluşan sayının 6 deste fazlası kaçtır?

A. 91 B. 89 C. 86

13.

Dişlerini fırçalarken musluğu açık bırakan biri için hangisi söylenemez?

A. tasarruf yapar
B. savurgandır
C. aile bütçesini düşünmez

14.

Kalorifer çalışırken pencereleri bırakmamalıyız.

Yukarıdaki ifadede boş bırakılan yere hangisi yazılmalıdır ?

A. kapalı B. yakın
C. açık

15.



Ailenin maddi gelir ve giderlerinin tümü.

Suat, aşağıdaki kavramlardan hangisinin tanımını yapmıştır?

A. Tutum B. Aile bütçesi
C. Gider

sonerfoca.net

ADI SOYADI :

SINIFI :

PUANI :

1	A	B	C
2	A	B	C
3	A	B	C
4	A	B	C
5	A	B	C
6	A	B	C
7	A	B	C
8	A	B	C
9	A	B	C
10	A	B	C
11	A	B	C
12	A	B	C
13	A	B	C
14	A	B	C
15	A	B	C