






6. Arda, 2002 yılında 18 yaşına girmiştir. Melek ise 2008 yılında 35 yaşına girmiştir. Buna göre Arda ile Melek'in 2022 yılındaki yaşları toplamı kaçtır?

 Çözüm:


9. 32A8 sayısının rakamları toplamı 18, B3A9 sayısının rakamları toplamı 19'dur. Buna göre A ve B rakamlarıyla oluşturulacak BBA ve AAB üç basamaklı sayılarının toplamı kaçtır?

 Çözüm:

7. Bir çiftlikte 478 tavuk, 685 horoz ve tavuk ve horozların toplam sayısı kadar civciv vardır. Bu çiftlikte bulunan tavuk, horoz ve civcivlerin toplam sayısı kaçtır?

 Çözüm:


8. Bir alışveriş merkezini haftaiçi 2248 kişi ziyaret etmiştir. Bu alışveriş merkezini hafta sonu ziyaret eden kişi sayısı hafta içi ziyaret eden kişi sayısından 1258 fazladır. Buna göre bu alışveriş merkezini bir haftada ziyaret eden kişi sayısı kaçtır?

 Çözüm:

10.



Bir kuruyemişçide yer alan fındık ve cevizin kg fiyatı yukarıda verilmiştir. Bu kuruyemişçiden 14 kg fındık ve 18 kg ceviz alan bir kişi kaç lira ödeme yapmalıdır?

 Çözüm:



