

Ev Adresimiz

Evimiz; ailemizle içinde yaşadığımız yuvamızdır. Ev adresimizi bilmemiz oldukça önemlidir. Acil durumlarda ya da kaybolduğumuzda evimizin adresini söyleyerek yardım isteyebiliriz. Adresimizi söylerken; mahalle adı, sokak adı, cadde adı, il ve ilçe adını belirtmeliyiz.

1, 2 ve 3. soruları metne göre cevaplayalım.

1. Hangi durumda yardım isteyebiliriz?

- A. Kaybolduğumuzda
 B. Oyun oynadığımızda
 C. Kaçtığımızda

2. Adresimizi söylerken hangisini belirtmemize gerek yoktur?

- A. İlçe adı ✓
 B. Sokak adı ✓
 C. Annemizin adı

3. Ailemizle içinde yaşadığımız yuvamızın adı nedir?

- A. Aile
 B. il
 C. Ev

4.

ad - isim	+
uzun - kısa	-
büyük - iri	+
yaşlı - genç	-
siyah - beyaz	-

Yukarıdaki tabloda verilen sözcük ikilileri arasında eş anlamlılık ilişkisi varsa "+" zıt anlamlılık ilişkisi varsa "-" işareti koyulacaktır.

Buna göre kutucukların son görünümü nasıl olur?

- A.

+
-
+
-
+

 B.

-
+
-
+
-

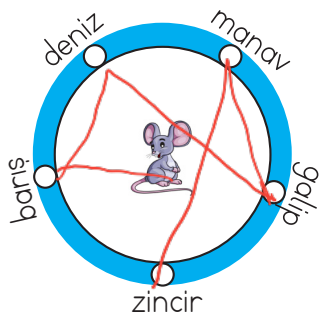
 C.

+
-
+
-
-

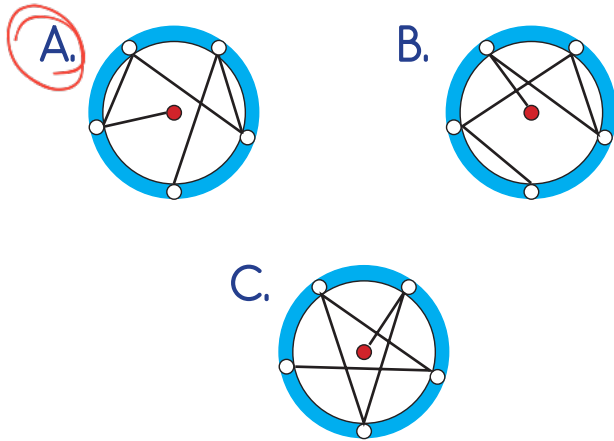
5. Aşağıdaki sözcüklerden hangisinin tek başına bir anlamı vardır?

- A. ile B. ara C. ama

6. SORUYA GEL

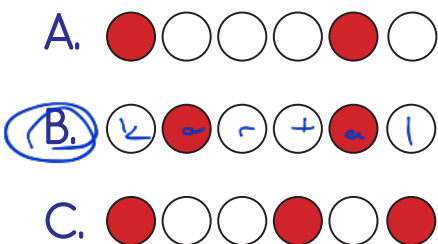


Yukarıdaki fare sözcüklerin üzerine alfabetik sıraya göre sıçrayacaktır. Farenin çizdiği yol aşağıdakilerden hangisi gibidir?



boris - deniz - galip - manav - zincir.

7. "kartal" kelimesinde sırasıyla her bir harf bir daire ile gösterilmektedir. Daha sonra ünlü harflerle gösterilen daireler boyanmaktadır. Boyama bittikten sonra oluşan şekil hangisidir?



8.



Türkçede kelimele-
rin başında hiçbir
zaman yer almam.

Yukarıda kendini tanıtan harf aşağıdakilerden hangisidir?

A. S B. Ğ C. K

9. Aşağıdaki cümlelerden hangisinin sonunda nokta kullanılmalıdır?

A. Yarın parka gidecek misin?
B. Kitap okumayı seviyorum.
C. Hey, canım acıdı!


10. Yeşildir rengim

Üstümde evim

Hem denizde yüzerim

Hem karada gezerim

Yukarıda anlatılan görsel aşağıdakilerden hangisidir?



11.

A	T	K	İ
	A	K	
A	Y	A	K

Yukarıdaki bulmacada her sırada kelimeler verilmiştir.

Kelimelerin eksik harflerini tamamladığınızda hangi kelime bulmacada yer almaz?

- A. ATKI ✓
 B. AYAK ✓
 C. AKAR

4 3 2 1
 Serdar kasaptan et aldı.

12.

1 aldı	2 et
3 kasaptan	4 Serdar

Yukarıdaki sözcüklerle anlamlı ve kurallı bir cümle oluşturulduğunda sıralama nasıl olmalıdır?

- A. 4 3 2 1
 B. 1 3 2 4
 C. 4 1 2 3

13. Sila yarın sinemaya gidecek.
 Kim Ne Zaman Nereye
 Yukarıdaki cümlede altı çizili sözcükler sırasıyla hangi soruların yanıtıdır?

- A. Kim - Nereye - Nasıl
 B. Kim - Ne Zaman - Nereye
 C. Kim - Kaç - Niçin

14. "Büyük" ile "küçük" arasındaki anlam ilişkisi aşağıdakilerin hangisinde yoktur?

- A. kalın - ince → zıt anlam
 B. al - kırmızı → eş anlam
 C. siyah - beyaz → zıt anlam

15.

eğitim	penbe
piton	sürpriz

Yukarıdaki tabloda yazımı yanlış olan sözcüklerin bulunduğu kutular boyanırsa hangi görüntü oluşur?

- A.

 B.

 C.

1.  Ninem 76 yaşındadır.

Ayça'nın ninesinin yaşı ile ilgili aşağıdakilerden hangisi yanlıştır?

- A. 7 onluk, 6 birlikten oluşur. ✓
 B. En yakın onluğu 70'tir. $76 \rightarrow 80$
 C. 7 desteden 6 fazladır. ✓
 $70 + 6 = 76$

2.

TR	22
----	----

 Edirne

TR	34
----	----

 İstanbul

TR	26
----	----


 Eskişehir

Yukarıda verilen plaka kodlarıyla ilgili aşağıdaki ifadelerden hangisi yanlıştır?

- A. Edirne'nin plaka kodunun okunuşu yirmi ikidir. ✓
 B. İstanbul'un plaka kodunun en yakın onluğu 30'dur. $34 \rightarrow 30$ ✓
 C. Eskişehir'in plaka kodu 6 onluk, 2 birlikten oluşmaktadır. ✗
 $26 \rightarrow 20 \text{ onluk} + 6 \text{ birlik}$

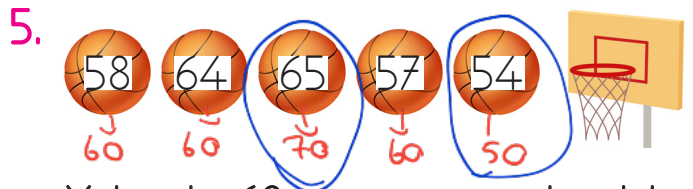
3. 8'den başlayarak 20'ye kadar 4'er ritmik sayan bir öğrenci sırasıyla hangi sayıları söyler?

- A. 8, 12, 16, 20 ✓
 B. 8, 13, 17, 20 ✗
 C. 8, 14, 16, 20 ✗



Yukarıda verilen arı, üzerinde sayılar yazan çiçeklere sırayla konacaktır. Sayılar arasındaki örüntü kuralına göre eksik olan sayılar aşağıdakilerden hangisidir?

- A. 16, 21
 B. 14, 20 ✓
 C. 15, 22



Yukarıda 60 sayısına yuvarlanabilen sayıların yazıldığı toplar potaya atılmıştır. Potaya atılmayan toplar aşağıdakilerden hangisinde ifade edilmiştir?

- A. 65, 54 ✓
 B. 57, 54
 C. 58, 57



6. $\begin{array}{r} \text{✿} \quad 38 \\ + \quad 41 \\ \hline \text{☆} \end{array}$ $\begin{array}{r} \text{✿} \quad 53 \\ + \quad 41 \\ \hline \text{△} \end{array}$ $\begin{array}{r} \text{✿} \quad 65 \\ + \quad 23 \\ \hline \text{◇} \end{array}$



Yukarıdaki toplama işlemlerinde hangisinin sonucu diğerlerinden büyüktür?

A. ☆

B. ◇

C. △

7.  3 desteye yuvarlanabilen en büyük sayıdır. $30 \rightarrow 34$ en büyük
 4 onluk 6 birlikten oluşan sayıdır. 46

Yukarıdaki bilgilere göre  +  işleminin sonucu kaçtır?

A. 60

B. 70

C. 80

$46 + 34 = 80$

8. $\begin{array}{r} 74 \\ - 13 \\ \hline 61 \end{array}$ $\begin{array}{r} 61 \\ - 12 \\ \hline 49 \end{array}$ $\begin{array}{r} 74 \\ - 13 \\ \hline \text{★} \end{array}$

Yukarıda verilen şemada ★ yerine yazılması gereken sayının bir düzine eksiği kaçtır?

A. 49

B. 47

C. 52

12 eksiği

9. SORUYA GEL



Bir balıkçı büyük balık yakalamak için elindeki küçük balığı oltaya takıp denize atmaktadır. Başlangıçta balıkçı elindeki 30 gramlık balığı oltasına takıp denize atmış, 50 gramlık balık yakalamıştır. Daha sonra 50 gramlık balığı oltaya takıp 80 gramlık balık yakalamıştır. Bu durumda balıkçının kovasında kaç gram balık olmuştur?

A. 80

B. 160

C. 110

10.

$\begin{array}{r} 616 \\ - 76 \\ \hline 58 \\ \hline 18 \end{array}$

Yukarıda verilen çıkarma işlemi için aşağıdakilerden hangisi söylenebilir?

A. Onluk bozmadan yapılabilir. X

B. Fark 1 onluk, 8 birlikten oluşur. ✓

C. Eksilen sayı 58'dir. X

11.



Aşağıda verilen çıkarma işlemlerinden hangisinin sonucu yukarıda verilmemiştir?

A.
$$\begin{array}{r} 80 \\ -40 \\ \hline 40 \end{array} \checkmark$$

B.
$$\begin{array}{r} 50 \\ -30 \\ \hline 20 \end{array} \checkmark$$

C.
$$\begin{array}{r} 90 \\ -60 \\ \hline 30 \end{array}$$

12.

$$\begin{array}{r} 40 \\ +40 \\ \hline 80 \end{array}$$
 ■

$$\begin{array}{r} 54 \\ +42 \\ \hline 96 \end{array}$$
 ●

$$\begin{array}{r} 37 \\ +36 \\ \hline 73 \end{array}$$
 ▲

Yukarıdaki toplama işlemlerinde verilmeyen toplananlardan hangisi en büyüktür?

A. ▲

B. ●

C. ■

$$\begin{array}{r} 80 \\ -40 \\ \hline 40 \end{array}$$

$$\begin{array}{r} 96 \\ -54 \\ \hline 42 \end{array}$$

$$\begin{array}{r} 73 \\ -37 \\ \hline 36 \end{array}$$

13.



36 TL



14 TL



24 TL



51 TL

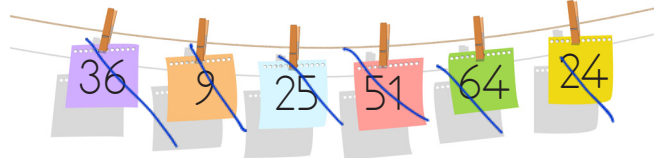
70 lirası olan Soner yukarıda verilen ürünlerin hangilerini birlikte alamaz?

A.
$$\begin{array}{r} 51+14=65 \end{array} \checkmark$$

B.
$$\begin{array}{r} 24+36=60 \end{array} \checkmark$$

C.
$$\begin{array}{r} 51+24=75 \end{array} \times$$

14.



Yukarıdaki sayılar küçükten büyüğe doğru sıralandığında 3. ve 5. sıradaki sayıların tahmini toplamı kaç olur?

A. 60

B. 70

C. 80

$$\begin{array}{cccccc} 1 & 2 & 3 & 4 & 5 & 6 \\ 9 & 24 & 25 & 36 & 51 & 64 \end{array}$$

$$25 \rightarrow 30$$

$$51 \rightarrow \begin{array}{r} 50 \\ +30 \\ \hline 80 \end{array}$$

	Gerçek	Tahmini
en büyük \rightarrow 26	$\begin{array}{r} 26 \\ +10 \\ \hline 36 \end{array}$	$\begin{array}{r} 30 \\ +10 \\ \hline 40 \end{array}$
en küçük \rightarrow 10		

15.

İki basamaklı 25'ten büyük en küçük sayı ile 2 basamaklı en küçük sayının toplamının tahmini ve gerçek sonucu için aşağıdakilerden hangisi yanlıştır?

A. Tahmini sonuç gerçek sonuçtan büyüktür. ✓

B. Gerçek sonuç 3 onluk, 6 birlikten oluşur. ✓

C. Tahmini sonuç 50'dir.

1. Aşağıdakilerden hangisi fiziksel özelliklerden değildir?

- A. Kitap okumaktan hoşlanmak. *Kişisel* X
- B. Kısa boylu olmak. ✓
- C. Siyah saçlı olmak. ✓

2.



Çocuklar Cumhuriyet Bayramı için sınıfı süslememiz gerekiyor.

Sude Öğretmen'in ifadesine göre sınıfın süslenmesine kim karar vermelidir?

- A. Sınıf başkanı
- B. Tüm sınıf birlikte
- C. Sude Öğretmen

3. Okulda para harcarken olmayan şeyleri almamalıyız.

Boş bırakılan yere aşağıdakilerden hangisi yazılmalıdır?

- A.
- B.
- C.

4.



Sabah erken uyandım, kahvaltımı yaptım. Çantamı kontrol ettim.

Yukarıdaki ifadeye göre Emre için aşağıdakilerden hangisi söylenebilir?

- A. Düzenlidir. ✓
- B. Sorumsuzdur. X
- C. Tembeldir. X

5.


▲ İşlerimiz daha hızlı biter. ✓

● Tek başımıza daha rahat çalışabiliriz. X

■ Sorumluluk duygumuz gelişir. ✓

Yukarıdaki ifadelerden hangileri iş birliği ile çalışmanın faydalarındandır?

- A. ▲ ●
- B. ● ■
- C. ▲ ■

6.  Babamızın erkek kardeşi bizim olur.

Boş bırakılan yere aşağıdakilerden hangisi yazılmalıdır?

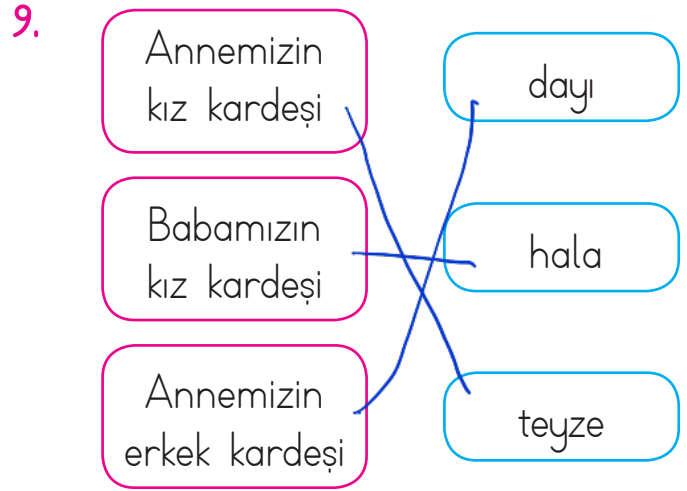
- A. Eniştemiz
- B. Dayımız
- C. Amcamız

7. Aşağıdaki davranışlardan hangisi yanlıştır?

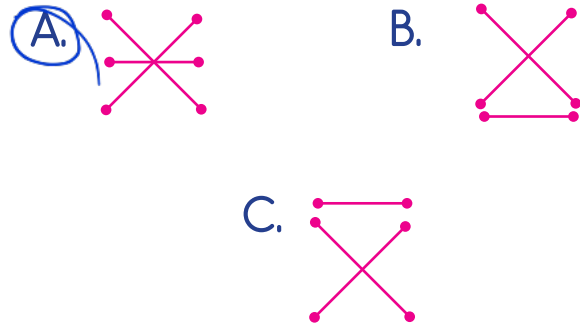
- A. Karşımızdakini dinlerken göz teması kurmak. ✓
- B. Arkadaşlarımız ile sorun yaşadığımızda hemen öğretmene şikayet etmek. ✗
- C. Nezaket kurallarına uygun bir dille iletişim kurmak. ✓

8. Aşağıdaki ifadelerden hangisi yanlıştır?

- A. Oyunda arkadaşlarımıza adaletli davranmalıyız. ✓
- B. Mizikçilik yaparsak herkes tarafından seviliriz. ✗
- C. Oyunda kaybeden arkadaşlarımızla alay etmemeliyiz. ✓



Yukarıda verilen açıklama ve akraba adları eşleştirilirse hangi şekli elde ederiz?



10. Aşağıdakilerden hangisi akrabamız değildir?

- A. Halamız ✓
- B. Kuzenimiz ✓
- C. En sevdiğimiz arkadaşımız ✗

1. Teacher : Turn left.
Student : Okay

Yukarıdaki cümleyi tamamlayan ifade aşağıdakilerden hangisidir?

- A. open
B. turn
C. cut

2. CUT THE PAPER

Yukarıdaki ifadede eksik harfler hangileridir?

- A. U/E/A/R
B. A/I/E/L
C. U/I/E/R

3. 

Yukarıdaki görsele uygun ifade aşağıdakilerden hangisidir?

- A. Stand up.
B. Turn left.
C. Sit down.

4. 

Yukarıda verilen görsele uygun ifade hangisidir?

- A. Open the door.
B. Open your book.
C. Open the window.

5. 

Lisa :

Student : You're welcome.

Diyaloğu tamamlayan ifade hangisidir?

- A. Thank you.
B. Excuse me.
C. I'm sorry.