


DENİZ GERGEDANI

En ilginç deniz canlılarından biri olan ve narval adıyla da bilinen deniz gergedanları, buzullarda yaşamaktadır. Bu canlılar çevrelerini taramak için ses dalgalarını kullanırlar. Erişkin deniz gergedanları ortalama 4,5 metre boyunda ve 1500 kg (bin beş yüz kilogram) ağırlığında olur. En dikkat çeken özellikleri, erkek bireylerin sol üst çenesinden çıkan ve ileriye 3 metre kadar uzayabilen, sola dönüşlü, boynuz benzeri uzun bir diştir.



1, 2 ve 3. soruları metne göre cevaplayalım.

1. Deniz gergedanının diğer adı nedir?

- A. Narval
- B. Deniz böceği
- C. Boynuzlu balık

2. Erişkin deniz gergedanlarının boyu ortalama kaç metredir?

- A. 3,5
- B. 4
- C. 4,5

3. Deniz gergedanlarının en dikkat çekici özelliği nedir?

- A. Büyük olması
- B. Dişleri
- C. Suda yüzebilmesi

4.

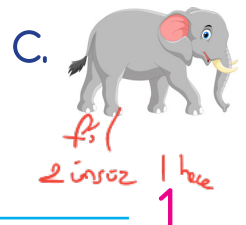


Hayvanları koruyup onlara sahip çıkmalıyız.

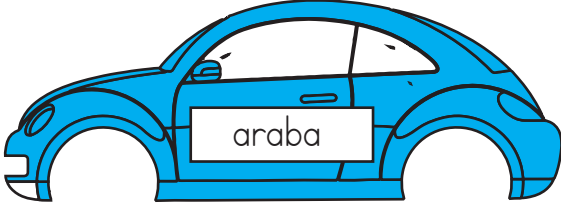
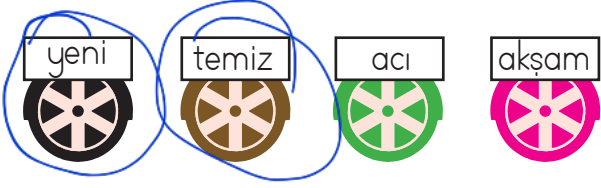
Serhat'ın söylediği cümle ile ilgili aşağıdaki açıklamalardan hangisi yanlıştır?

- A. Olumlu bir cümledir. ✓
- B. Kurallı bir cümledir. ✓
- C. Soru cümlesidir.

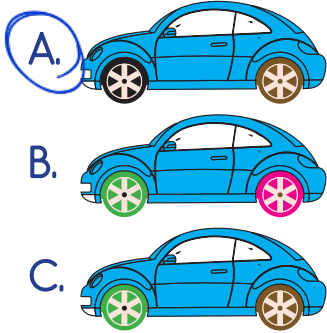
5. Aşağıdaki varlıklardan hangisinin isminin ünsüz harf sayısı, hece sayısından fazla değildir?



11. SORUYA GEL



Cem, oyuncak arabasının parçalarını birleştirmek istiyor. Parçaları birleştirdiğinde tekerleklerin üzerinde yazan sözcükler arabayı durumu yönünden nitelendirecektir. Buna göre arabanın birleştirilmiş hali aşağıdakilerden hangisi gibi olmalıdır?



12.

gördü

Yukarıdaki kelimenin son hecesine aşağıdakilerden hangisi getirilirse topluluk adı oluşur?

- A. zen *düzen* B. zine *düzine* C. rüm *dürüm*

13.




Öğrenciler eş sesli sözcüklerin yazılı olduğu balonları patlatacaktır. Öğrenciler balonlardan kaç tanesini patlatır?

- A. 1 B. 2

C. 3

14.



Semih, Burcu ve Dilek isimlerinin alfabetik sıralamasına göre vagonlardaki koltuklara sırasıyla oturacaklardır. Buna göre 2. vagondaki koltuğa aşağıdakilerden hangisi oturmalıdır?

- A. Burcu
B. Semih

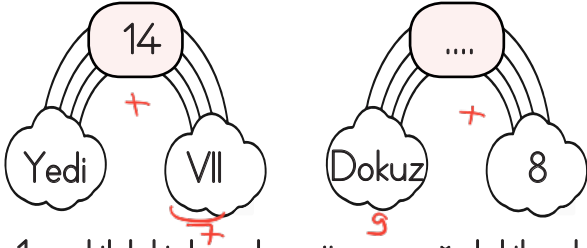
C. Dilek

Burcu - Dilek - Semih
2. koltuk

15. Aşağıdaki cümlelerden hangisine farklı bir noktalama işareti konur?

- A. Nasılsın ?
B. Hey önüne bak !
C. Saat kaçta geleceksin ?

1.

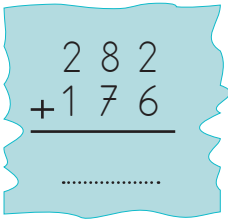


1. şekildeki kurala göre aşağıdakilerden hangisi 2. şekildeki noktalı alana yazılmalıdır?

- A. XVII
B. XIV
C. XIX

$9 + 8 = 17$
 $17 \rightarrow \underline{XVII}$

2.



Yukarıdaki toplama işleminin tahmini sonucu ile gerçek sonucu arasındaki fark kaçtır?

- A. 1 B. 2 C. 3

$$\begin{array}{r} 282 \\ + 176 \\ \hline 458 \end{array}$$

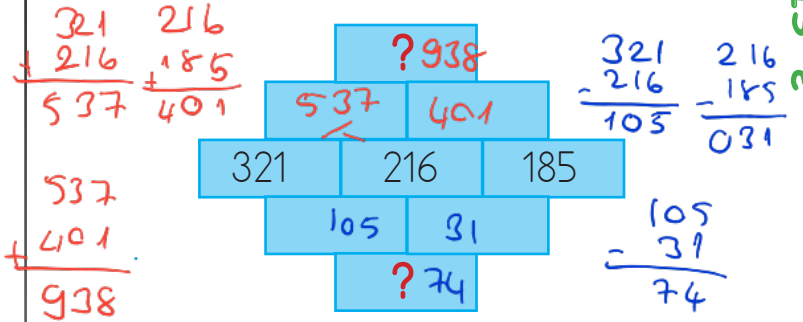
$$\begin{array}{r} 280 \\ + 180 \\ \hline 460 \end{array}$$

$$\begin{array}{r} 460 \\ - 458 \\ \hline 002 \end{array}$$

3. $158 + 48 > \square$ eşitsizliğinde \square yerine gelebilecek en büyük sayı aşağıdakilerden hangisidir?

- A. 205 B. 206 C. 207

4. SORUYA GEL



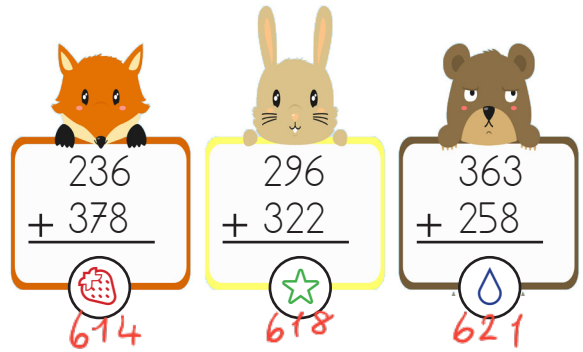
Ortadaki basamaktan yukarı çıktığında yan yana olan sayılar toplanıp bir üstteki basamağa yazılmaktadır. Aşağı inildiğinde ise yan yana olan sayılar çıkarılıp bir alttaki basamağa yazılmalıdır.

Buna göre "?" ile gösterilen yerlere gelen sayıların farkı kaçtır?

$$\begin{array}{r} 938 \\ - 74 \\ \hline 864 \end{array}$$

- A. 696 B. 779 C. 864

5.



Yukarıdaki toplama işlemlerinin toplamaları ile ilgili verilen karşılaştırmalardan hangisi doğrudur?

A. $\text{fox} > \text{rabbit}$ $614 > 618$ X

B. $\text{fox} > \text{bear}$ $614 > 621$ X

C. $\text{bear} > \text{rabbit}$ $621 > 618$ ✓

6.



Körebe oyununda Samet 178 saniye boyunca ebe olmuştur. Fikret Samet'ten 25 saniye az, Deniz'den ise 18 saniye fazla ebe olmuştur. Üçü toplamda kaç saniye ebe olmuştur?

A. 466 B. 327 C. 171

$$\begin{array}{r} \text{Samet} \\ 178 \\ \hline \end{array} \quad \begin{array}{r} \text{Fikret} \\ 178 \\ - 25 \\ \hline 153 \\ \hline \end{array} \quad \begin{array}{r} \text{Deniz} \\ 178 \\ - 18 \\ \hline 160 \\ \hline \end{array} \quad \begin{array}{r} 178 \\ 153 \\ + 160 \\ \hline 491 \end{array}$$

7. Aşağıdaki işlemlerden hangisinin sonucu 327 sayısından büyük, 384 sayısından küçüktür?

A. $\begin{array}{r} 182 \\ +176 \\ \hline 358 \end{array}$ B. $\begin{array}{r} 222 \\ +246 \\ \hline 468 \end{array}$

C. $\begin{array}{r} 282 \\ +188 \\ \hline 470 \end{array}$

8.

$a < 12$, $b < 15$ ve $c < 8$ 'dir.

Buna göre "a+b+c" toplamı en çok kaç olabilir? $11 + 14 + 7 = 32$

A. 38 B. 35 C. 32

9.

1. Toplanan		
Yüzlük	Onluk	Birlik
6	3	0

2. Toplanan		
Yüzlük	Onluk	Birlik
2	0	3

Yukarıda modellenen işleme göre toplam kaçtır?

A. 823 B. 833 C. 843

$$\begin{array}{r} 630 \\ + 203 \\ \hline 833 \\ \hline \end{array}$$

10.

İşlem	Tahmini Sonuç	Gerçek Sonuç
$\begin{array}{r} 456 \\ +313 \\ \hline \end{array}$	$\begin{array}{r} 460 \\ +310 \\ \hline 770 \end{array}$	$\begin{array}{r} 456 \\ +313 \\ \hline 769 \end{array}$

Tabloda verilenlere göre semboller ile belirtilen yerlere getirilmesi gerekenler hangi seçenekte doğru verilmiştir?

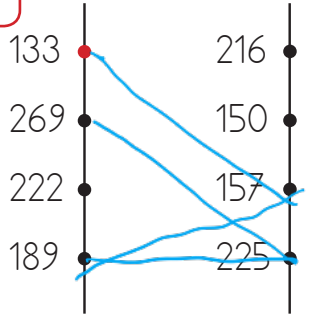


A. $\begin{array}{r} 769 \\ 770 \end{array}$

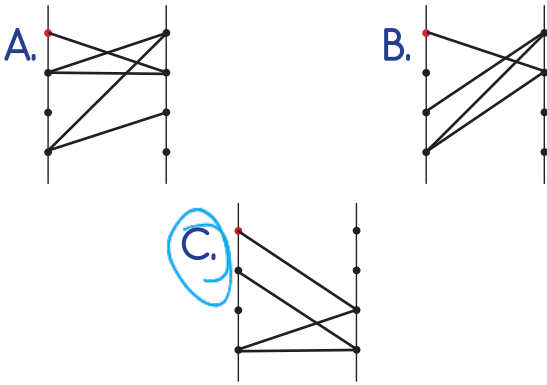
B. $\begin{array}{r} 770 \\ 769 \end{array}$

C. $\begin{array}{r} 760 \\ 769 \end{array}$

11. SORUYA GEL



Yukarıda karşılıklı iki duvar ve duvarların üzerinde nokta şeklinde çıkıntılar verilmiştir. Tavşan 133 sayısının yazılı olduğu çıkıntidan başlayarak küçükten büyüğe sadece tek sayıların olduğu çıkıntılara atlayacaktır. Tavşanın çizdiği yol aşağıdakilerden hangisi gibi olmalıdır?



Çiçek Türleri	Çiçek Sayısı
Lale	$48 + 8 = 56$
Gül	$95 + 5 = 100$
Karanfil	$32 + 2 = 34$

100
56
+ 34
190

Tabloda bir çiçekçideki çiçek sayıları verilmiştir. Bu çiçekçiye her çiçek türünün birer basamağındaki sayının basamak değeri kadar çiçek geldiğine göre çiçekçide toplam kaç çiçek olmuştur?

- A. 173 B. 190 C. 182

Harfler	Defterimdeki Sayısı
A	A A A A A
E	E E E
K	K K
L	L
I	I

Not: Her resim 1 harfi göstermektedir.

13, 14 ve 15. soruları grafiğe göre cevaplayalım.

13. Yukarıdaki grafikte Yasin'in defterinde bulunan harfler ve sayıları verilmiştir. Bu harfleri defterden kesip boş bir kağıda yapıştıran Yasin hangi kelimeyi oluşturamaz?

- A. 1 LİK B. KELEK ✓ C. AKIL ✓
2 "1" yol


14. Yasin'in defterinde bulunan harflerin toplamı kaçtır?


- A. 10 B. 12 C. 14


$$5 + 3 + 2 + 1 + 1 = 12$$

15. Yukarıdaki grafikte en fazla olan harfle ilgili hangi bilgi yanlıştır? "A" harfi

- A. Alfabemizin ilk harfidir. ✓
B. Ünlü harftir. ✓
C. Yasin'in defterinde 6 tane bulunmaktadır. L1 toa bulunul.

1.  Yastık, sert bir maddedir. ✗

 Pamuk, kırılgan bir maddedir. ✗

 Gül, kokulu bir maddedir. ✓

Yukarıdaki çocuklardan hangisi doğru bir bilgi vermiştir?

A. 

B. 

C. 

2.



Yukarıdaki maddenin özelliği aşağıdaki seçeneklerden hangisinde verilmiştir?

A. Serttir. ✓

B. Yumuşaktır. ✗

C. Esnektir. ✗

3.



Yukarıdaki çalışma, hangi duyu organımızla ilgili bir çalışmadır?

A. Burun

B. Kulak

C. Deri

4. Hareket halindeki bir cisme hareket yönünün tersi bir kuvvet uygulanırsa ne olur?

A. Cisim yavaşlar.

B. Değişiklik olmaz.

C. Cisim hızlanır.

5.

Sağlam	Kırılgan
Demir	
Çelik	Vazo
	Ayna

Yukarıdaki tabloda  ve  yerine hangi maddeler yazılabilir?


A. Telefon


Mıknatıs


B. Kaya

Cam

C. Bardak

Masa

6.



Mert ile Sila masa tenisi oynamaktadır. Bu oyunu oynarken topa hangi kuvveti uygularlar?

- A. İtme
 B. Çekme
 C. Döndürme

7.

Kuvvet uygulanınca şekil değiştiren, kuvvet kalkınca tekrar eski haline dönen maddeler maddelerdir.

Yukarıdaki cümlede boş bırakılan yere aşağıdakilerden hangisi gelebilir?

- A. Pürüzlü
 B. Kırılgan
 C. Esnek

8.



Yukarıdaki maddelerden kaç tanesi için "kırılgan" diyebiliriz?

- A. 3
 B. 4
 C. 5

9.



Yukarıdaki varlıklardan hangisini hareket halindeyken durdurmaya çalışmak tehlikelidir?

- A. III
 B. II



10. Aşağıdaki maddelerden hangisini koklayarak diğerlerinden ayırt ederiz?



1. Komşularımızı ara sıra ziyaret etmeliyiz. ✓
- Zor zamanlarında komşularımızın yanında olmalıyız. ✓
- Komşularımızın istekleri bizim için önemli olmamalı. ✗

Yukarıdaki cümlelerden kaç tanesi doğrudur?

- A. 3
- B. 2
- C. 1

2.

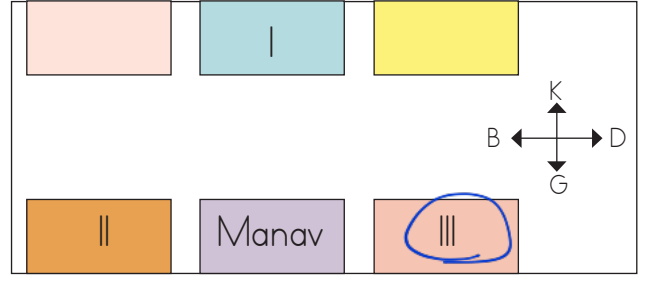
Eskiden oyuncaklarımızı biz kendimiz yapardık.



Kitap okuyan dedenin torunlarına söylediği cümlede hangi dönemlerinden bahsetmiştir?

- A. Yaşlılığından
- B. Çocukluğundan
- C. Şimdiki zamandan

3.



Serkanların evi manavın doğusundadır. Buna göre kaç numaralı yer Serkanların evidir?

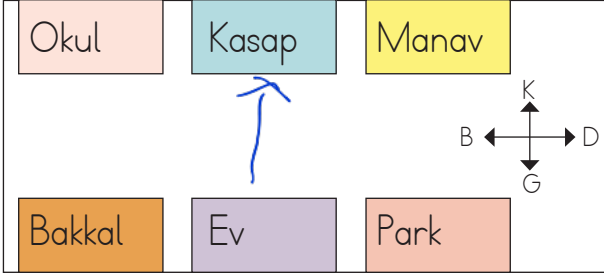
- A. I
- B. II
- C. III

4. Okul kaynaklarının kullanımı ile ilgili aşağıdakilerden hangisi yanlıştır?

- A. Sınıftan çıkarken yanan lambaları kapatmak ✓
- B. Sınıftaki sıraların üzerine yazı yazmak ✗
- C. Sınıftaki çöpleri çöp kutusuna atmak ✓

5. Komşuluk ilişkileri bakımından aşağıdaki davranışlardan hangisi yanlıştır?

- A. Komşularımızı ziyaret etmek ✓
- B. Komşularımıza nazik davranmak ✓
- C. Komşularımızı umursamamak ✗



6 ve 7. soruları yukarıdaki krokiye göre cevaplayalım.

6. Evin kuzeyindeki yer hangi görselle ifade edilebilir?

A.



B.



C.



7. Kroki ile ilgili verilen bilgilerden hangisi yanlıştır?

- A. Bakkal, evin doğusundadır. ✗
 B. Manav, parkın kuzeyindedir. ✓
 C. Park, evin doğusundadır. ✓

8. Grup çalışmasında verimli olmak için hangi öğrencinin davranışı doğrudur?

- A. Grupta aldığım sorumlulukları yerine getiririm. ✓
 B. Grupta düşüncelerim kabul edilmek zorundadır. ✗
 C. Grup içindeki farklı fikirlere saygı duymam. ✗

9. Komşular, ailemizden sonra gelen en yakınçevremizdir. Atalarımız "Ev alma, al." demişler. Her zaman onlarla içinde olmalıyız.

Bu metinde boş bırakılan yerlere sırasıyla aşağıdakilerden hangisi gelmelidir?

- A. komşu - anahtar - birlikte
 B. sosyal - komşu - dayanışma
 C. kötü - araba - yardım

10.



Babamın zamanında da beştaş, saklambaç vardı.

Bu açıklamaya göre aşağıdakilerden hangisi söylenebilir?

- A. Herkes aynı oyunları oynamaktadır.
 B. Eskiden oyun yoktu.
 C. Oyun her zaman vardı. ✓


1.



Görsele göre hangi seçenekteki ifade doğrudur?

- A. It's old.
- B. It's short.
- C. It's tall.

2.



Görsele göre hangi seçenekteki ifade doğrudur?

- A. It's a big dog.
- B. It's a strong dog.
- C. It's a slow dog.

3.



Görsele göre hangi seçenekteki ifade doğrudur?

- A. She is a thin girl.
- B. She is a fat girl.
- C. She is a short girl.

4. "He is fat." ifadesinde altı çizili sözcüğün zıt anlamı hangisidir?

- A. fast
- B. old
- C. slim

5. "He is short." ifadesinde altı çizili sözcüğün zıt anlamı hangisidir?

- A. young
- B. tall
- C. weak