

Körebe oyunu dünya çapında bilinen ve hala günümüzde severek oynanan geleneksel bir oyundur. Çarpma ve yaralanma riskine karşı 5 yaş ve üzeri çocuklar için uygundur. Bez ya da mendil ile ebe olan oyuncunun gözleri bağlanır. Diğer oyuncular etrafa dağılır ve ardından: "Körebe, körebe Gel sesime sesime, gel sesime sesime." şeklinde bağıarak bir tempo tutulur. Ebe kişinin kim olduğunu tahmin edebilirse o oyuncu körebe olur. Yakalanan kişinin gözleri bağlanarak oyun tekrar aynı şekilde devam eder.



1 ve 2. soruları metne göre cevaplayalım.

1. Oyunun 5 yaş ve üzeri çocuklar için uygun olma sebebi nedir?
 - A. Çocukların oyun esnasında korkması
 - B. Çarpma ve yaralanma riski
 - C. Oyun kurallarını bilmemeleri
2. Metne göre oyunda ebe olan oyuncunun amacı nedir?
 - A. Oyuncuları sesinden tanıyarak kim olduğunu tahmin etme
 - B. Bağıarak tekerleme söyleme
 - C. Diğer oyuncuları yakalama

3.



1 14 15 6

Yukarıdaki şifrelenmiş kelimenin harfleri ile aşağıdakilerden hangisi yazılabilir?

- A. sıra B. kale C. kara

4.



Yukarıdaki arabaları karşıt anlamlı sözcüklere göre eşleştirdiğimizde kaç numaralı araba dışarda kalır?

- A.1 B.2 C.3

5.

"Adana'lı arkadaşım bize kebap, şalgam ısmarladı.

Yukarıdaki cümlede hangi noktalama işareti hatalı kullanılmıştır?

- A. kesme işareti
B. virgül
C. nokta

6. Aşağıdaki cümlelerin hangisinde tek başına anlamı olmayan bir sözcük kullanılmıştır?

- A. Silgimi evde unuttum.
- B. Ödevimi arkadaşım ile yaptım.
- C. Annem en sevdiğim yemeği yapmış.

7.



Yukarıdaki şekil için hangisi yanlıştır?

- A. Bütün kenarları birbirine eşittir.
- B. Dört kenarı vardır.
- C. Köşe sayısı, üçgenin köşe sayısı ile aynıdır.

8.



Gelen misafirlere önce 2 sürahi su, ardından da 5 bardak su ikram edilmiştir. Buna göre misafirler kaç bardak su ikram edilmiştir?

- A. 17
- B. 16
- C. 19

sonerfoca.net

9.

- Kenarı ve köşesi yoktur.
- 4 kenarının dördü de eşittir.

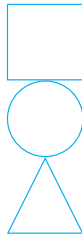
Yukarıdaki geometrik şekiller sırasıyla hangisinde verilmiştir?

- A. ■ = Çember ● = Kare
- B. ■ = Üçgen ● = Kare
- C. ■ = Kare ● = Üçgen

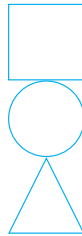
10.




Üçgen



Çember



Dikdörtgen



Yukarıdaki bilgisayar oyununda motor sürücüsü isimleri yazılan geometrik şekillerin içinden geçecektir. Oyunu başarı ile tamamlayan biri için aşağıdakilerden hangisi söylenmez?

- A. İlk olarak üç kenarlı geometrik şeklin içinden geçmiştir.
- B. İkinci olarak kenarı olmayan geometrik şeklin içinden geçmiştir.
- C. Üçüncü olarak en üste verilen geometrik şeklin içinden geçmiştir.

| Benzer Yönleri | Farklı Yönleri |
|---------------------------------|----------------------|
| Kenar sayıları Köşe sayıları | Kenar uzunlukları |

Yukarıda hangi geometrik şekillerin benzer ve farklı yönleri verilmiştir?

- A. Kare ve üçgen
B. Kare ve dikdörtgen
C. Dikdörtgen ve üçgen

12. Bir damacana 71 bardak su alıyor. Bu damacandan 1.gün 23, 2.gün 19 bardak su içiliyor. Buna göre damacanada kaç bardak su kalır?

- A. 39 B. 29 C. 19

13. Aşağıdakilerden hangileri sağlıklı olmamızı sağlar?




- A. Fazla yemek yemek
B. Ders çalışmak
C. Spor yapmak

14. Evimizi, okulumuzu, yaşadığımız çevreyi turalım.

Yukarıdaki ifadede boş bırakılan yere hangisi yazılmalıdır ?

- A. sık sık B. temiz
C. sürekli

15. Aşağıdaki ifadelerden hangisi ihtiyaçlarımıza örnek olamaz?

- A.  Yemek yerken çatal, kaşık, bıçak kullanırım.
- B.  Yemekten önce ve sonra ellerimi yıkarım.
- C.  Sevmediğim yemek olursa sofraya oturmam.

ADI SOYADI :

SINIFI :

PUANI :

| | | | |
|----|---|---|---|
| 1 | A | B | C |
| 2 | A | B | C |
| 3 | A | B | C |
| 4 | A | B | C |
| 5 | A | B | C |
| 6 | A | B | C |
| 7 | A | B | C |
| 8 | A | B | C |
| 9 | A | B | C |
| 10 | A | B | C |
| 11 | A | B | C |
| 12 | A | B | C |
| 13 | A | B | C |
| 14 | A | B | C |
| 15 | A | B | C |