


1.


DE	ED
FE	

36	63
46	


Her harf ikilisi yanda verilen sayılar ile şifrelenmiştir. Buna göre FD harfleri ile oluşacak sayı 4 desteden kaç fazladır?

 Çözüm:

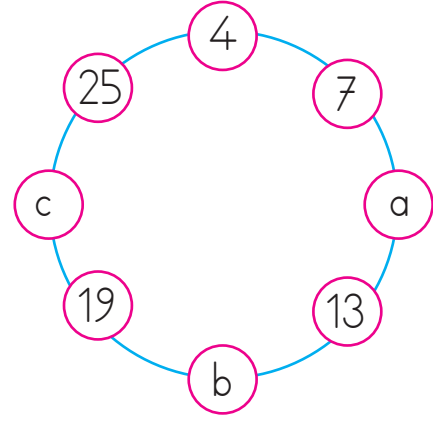
2. Emre 64 sayfalık bir kitabın 1. gün 14, 2.gün 28 sayfasını okumuştur. Emre'nin okuyacağı kaç sayfası kalmıştır?

 Çözüm:


3. Fatih 39 liraya kitap aldıktan sonra 18 lira parası kalmıştır. Fatih'in kitap almadan önce kaç lirası vardır?

 Çözüm:


4.



Çemberin üzerindeki sayılar belirli bir kurala göre dizilmiştir. Buna göre  $a + b + c$  toplamı kaçtır?

 Çözüm:

5. 90 ağacın bulunduğu ormanlık alanda ağaçların 21'i gürgen, 33'ü çam, kalanları ise kavak ağacıdır. Buna göre kavak ağaçlarının sayısı kaçtır?

 Çözüm:



