



1. → 12 15 ? 21 ? ?

Yukarıdaki sayı örüntüsünde "?" ile belirtilen yerlere gelmesi gereken sayıların toplamı kaçtır?


 **Çözüm:**


2. Aynı türden 17 varlık deste ve birlikten oluşur.

Yukarıdaki ifadede noktalı yerlere gelmesi gereken sayıların toplamı kaçtır?


 **Çözüm:**

3. 76 sayısının onlar basamağındaki rakam ile 19 sayısının birler basamağındaki rakamın toplamı kaçtır?


 **Çözüm:**

4.  Mert 34 lira para biriktirdim.

Abisi Mert'ten 28 lira fazla biriktirmiştir. Ablası abisinden 13 lira eksik para biriktirdiğine göre ablası kaç lira para biriktirmiştir?

 **Çözüm:**

5. Sena tanesi 10 lira olan kalem-lerden 2 tane, tanesi 14 lira olan defterlerden 1 tane alıyor. Kırtasiyeye 50 lira veren Sena kaç lira para üstü alır?

 **Çözüm:**




Öğrenci : 54
Veli : 27
Öğretmen : 7


Yukarıda bir okulda geziye katılan öğrenci, veli, öğretmen sayıları verilmiştir.

6 ve 7. soruları yukarıdaki bilgilere göre cevaplayalım.

6. Geziye katılan öğrenci ve öğretmenlerin toplamı velilerin sayısından kaç fazladır?

 Çözüm:

7. Her velinin 1 öğrencisi olduğuna göre velisi olmayan öğrencilerin sayısı öğretmenlerin sayısından kaç fazladır?


 Çözüm:

9.




1 saat : 5 TL
3 saat : 10 TL


Yukarıda bir elektrikli mobiletin saatlik kira ücretleri verilmiştir. Buna göre hafta içi her gün birer, hafta sonu her gün üçer saat kiralayan biri 1 haftada kaç lira öder?

 Çözüm:

8. Beril 18 liraya top, 56 liraya paten alınca 19 lirası kalmıştır. En başta Beril'in kaç lirası vardı?

 Çözüm:

10. Bir okul servisi evlerine bırakacağı 78 öğrencinin önce 18 daha sonra 23 tanesini bırakmıştır. Geriye serviste kaç öğrenci kalmıştır?

 Çözüm:

