


1.




Tavuk: 37

Horoz: 18


Bir kümeste bulunan hayvanların sayısı yukarıda verilmiştir. Cıvıvlerin sayısı ise tavuk ve horoz sayılarının farkından 1 onluk eksiktir. Buna göre kümede kaç hayvan vardır?

 Çözüm:

2. Bir simit satıcısı 84 simidin 16 tanesini sabah, 23 tanesini öğlen, kalanını öğleden sonra satmıştır. Buna göre simit satıcısının öğleden sonra sattığı simit sayısı kaçtır?

 Çözüm:

3. Toplamları 76 olan iki sayıdan büyüğü 48'dir. İki sayının farkı kaçtır?


 Çözüm:

4.




● 8 sayısından başlayarak dörder ritmik sayarken söylediğim 6. sayıdan 8 eksik.

Rüya, annesinin yaşını yukarıdaki gibi şifrelemiştir. Buna göre Rüya'nın annesinin yaşı kaçtır?

 Çözüm:

5. Emre haftada 10 lira biriktirmektedir. 5 haftanın sonunda tanesi 10 lira olan iki kitabı almıştır. Buna göre Emre'nin kaç lirası kalmıştır?

 Çözüm:



Sabah: 18


Öğle: 27

Akşam:


Bir şirketin müşteri hizmetlerinin, müşterileri memnuniyeti için yaptığı ara-
maların görüşme sayısı verilmiştir. Akşam
yapılan görüşme sayısı, öğlen yapılan
görüşme sayısından 14 fazladır.

6 ve 7. soruları yukarıdaki bilgile-
re göre cevaplayalım.

6. Akşam ve sabah yapılan görüşme
sayısının farkı kaçtır?

 Çözüm:


7. Şirketin toplam 98 müşterisi oldu-
na göre görüşülmeyen müşteri sayısı
kaçtır?

 Çözüm:


8. Kargo hizmeti veren bir
komyonda 84 adet koli
vadır.




Kamyondan önce 28 koli, ardından
14 koli indirilmiştir. Buna göre son
durumda kamyonda kaç koli kal-
mıştır?

 Çözüm:

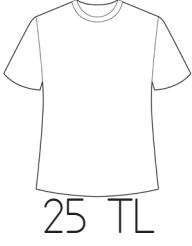
9. Bir toplama işleminde 1. toplanan
36, toplam 7 desteye eşit ise 2.
toplanan kaçtır?

 Çözüm:


10. Bir satıcıda 18 gömlek, gömlekler-
den 17 fazla kazak vardır. Buna
göre satıcıdaki gömlek ve kazak-
ların toplamı kaçtır?

 Çözüm:


11.




55 Lirası olan Emre yukarıdaki tişörtlerden birer tane almak istiyor. Buna göre Emre'nin kaç liraya ihtiyacı vardır?

 Çözüm:


12. 58 sayısının 34 fazlasının 24 eksiği kaçtır?

 Çözüm:




Kova 6 sürahi su ile doluyor. Sürahi 4 bardak su ile doluyor. 13, 14 ve 15. soruları yukarıdaki bilgilere göre cevaplayalım.


13. İki kova kaç sürahi ile dolar?

 Çözüm:

14. 3 sürahi kaç kupa ile dolar?

 Çözüm:

15. İçinde bir miktar su bulunan kova 3 sürahi ile dolmaktadır. Buna göre kova kaç bardak su ile dolar?

 Çözüm:
