

Sınıftaki tüm öğrenciler "Sağlıklı Yaşa" adlı okullararası resim yarışmasına hazırlanıyordu. Herkes sınıfta, boş zamanında resim yapıyordu. Yarışmanın şartnamesinde resimlerin kişisel olarak yapılabileceği gibi grup olarak da yapılabileceği yazılıyordu. Selim ve Ahmet resimlerini birlikte yapmaya karar verdiler. Birçok deneme yaptılar fakat akıllarına yatan resmi bir türlü bulamadılar. Tam ümitlerini yitireceken Ahmet'in aklına "Yeşilay" temalı bir resim yapma fikri geldi. İkisi bu temada çok güzel bir resim yaptı. Sınıf arkadaşları ve öğretmenleri resimlerini çok beğendi. Resimlerini daha sonra okul idaresine teslim ettiler. Resim yarışmasının sonuçlanacağı günü ipe çekiyorlardı.

(1 ve 2. soruyu yukarıdaki metne göre cevaplayalım.)

- Yukarıdaki metne göre aşağıdaki bilgilerden hangisi yanlıştır?
 - Resim yarışmasına hazırlanırken Ahmet ve Selim birçok resim yapmışlardır.
 - Grup olarak yapılan resimlerin yarışmaya katılmasında bir sakınca yoktur.
 - Ahmet ve Selim resimlerini yaptıktan sonra öğretmenlerine teslim etmişlerdir.
 - Yapılacak resim yarışması için sınıftaki tüm öğrenciler boş zamanlarında resim yaptılar.
- Yukarıdaki metinde hikayenin hangi unsuruna yer verilmemiştir?
 - Olay
 - Zaman
 - Karakterler
 - Mekan

- Aşağıdaki cümlelerin hangisinde bir varlığı niteleyen sözcük sayısı birden fazladır?
 - Mavi kazağını ve ceketini giyerek evden çıktı.
 - İki küçük köpek, minik patileriyle kar üzerinde birçok iz bıraktılar.
 - Havalar ısınınca kalın giysilerini kutulara koydu.
 - Eve giderken dik yokuşlardan çıkmanın çok yorucu olduğunu söyledi.

senefoca.net

- | | | |
|--------|---------|---------|
| cm'ye | TBMM'de | TRT'dan |
| TL'nin | TDK'a | TL'nin |

Yukarıdaki kısaltmalara gelen eklerden kaç tanesinde hata yapılmıştır?

- 1
- 2
- 4
- 5

- Umut Öğretmen, tahtaya "tasarruf, eğitim ve dayanışma" alanlarını içeren atasözleri yazmıştır. Aşağıdakilerden hangisi Umut Öğretmen'in yazdığı atasözlerinden birisi olamaz?
 - Bir musibet bin nasihatten iyidir.
 - İşten artmaz dışten artar.
 - Komşu komşunun külüne muhtaçtır.
 - Ağaç yaş iken eğilir.

- Bir musibet bin nasihatten iyidir.
- İşten artmaz dışten artar. *tasarruf*
- Komşu komşunun külüne muhtaçtır. *dayanışma*
- Ağaç yaş iken eğilir. *eğitim*

6. Aşağıdaki cümlelerden hangisinde karşılaştırma yapılmamıştır?

- A. Ankara, İzmir'e göre daha soğuk bir şehirdir.
 B. Zürafa, tavşandan farklı olarak daha yüksekteki bitkilerle beslenir.
 C. Buz gibi bir havada evden markete doğru yola çıktık.
 D. Kedi, köpekten daha atik bir hayvandır.

$$\begin{array}{r} 1344 \\ -12 \\ \hline 14 \\ -12 \\ \hline 24 \\ 24 \end{array}$$

$$\begin{array}{r|l} 1344 & 6 \\ \hline & 224 \end{array}$$

$$\begin{array}{r|l} 224 & 8 \\ \hline & ? \\ & 28 \end{array}$$

Yukarıdaki sıralı bölme işleminde "?" yerine gelmesi gereken sayı kaçtır?

- A. 25
 B. 28
 C. 33
 D. 38

8. $(A \times 25) \times 32 = 17 \times (32 \times B)$ eşitliğinde A ve B yerine gelen sayılar için $A \times B$ işleminin sonucu kaçtır?

- A. 400
 B. 425
 C. 544
 D. 800

$$\begin{array}{r} 25 \\ \times 17 \\ \hline 175 \\ +25 \\ \hline 425 \end{array}$$

9.

$$28 \times 15 = \triangle + 150$$

Yukarıdaki eşitliğin sağlanması için \triangle yerine gelmesi gereken sayının 50 eksiği kaçtır?

- A. 200
 B. 218
 C. 220
 D. 226

$$\begin{array}{r} 420 \\ -150 \\ \hline 270 \end{array}$$

$$\begin{array}{r} 270 \\ -50 \\ \hline 220 \end{array}$$

10.

$8 \times 28 = 200 + \square \rightarrow 24$
$25 + \bullet = 8 \times 5(40) \rightarrow 15$
$40 + 15 = 60 - \triangle \rightarrow 5$
$36 : 4 = 3 \times \blacklozenge \rightarrow 3$

Yukarıdaki eşitliklerin sağlanması için verilen sembollerin yerine yazılması gereken sayılar sırasıyla hangi seçenekte doğru olarak verilmiştir?

- A.

5
15
5
4

 B.

24
15
5
3

 C.

24
20
22
3

 D.

7
26
30
6

11.

Yusuf'un Bilye Sayısı

Kadir'in Bilye Sayısı

Serhat'in Bilye Sayısı

$$(22 \times 6) + 6 = A \rightarrow 138$$

$$(45 : 3) \times 10 = B \rightarrow 150$$

$$9 \times (30 - 12) = C \rightarrow 162$$

Yukarıda üç çocuğa ait bilye sayılarının matematiksel olarak ifade edilmiş şekilleri verilmiş, sonuçları harflerle gösterilmiştir. Buna göre aşağıdaki durumlardan hangisi gerçekleşirse Yusuf, Kadir ve Serhat'in bilye sayıları eşit olur?

- A. Yusuf, Kadir'e 15 bilye verirse 3 çocuğun bilye sayısı eşitlenir.
 B. Kadir, Serhat'tan 8 bilye alırsa 3 çocuğun bilye sayısı eşitlenir.
 C. Serhat, Yusuf'a 12 bilye verirse 3 çocuğun bilye sayısı eşitlenir.
 D. Yusuf, Serhat'a 8 bilye verirse 3 çocuğun bilye sayısı eşitlenir.

12. $(45 : 5) : 3$ $49 : (56 : 8)$

Yukarıdaki işlemlerin sonuçlarının toplamı aşağıdakilerden hangisidir?

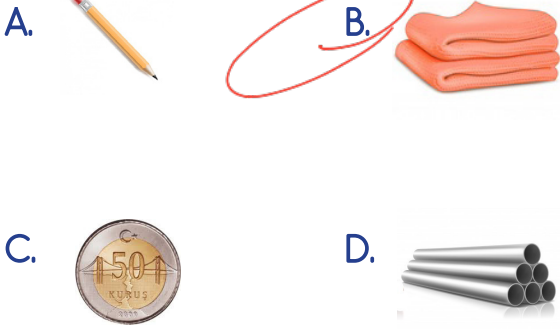
- A. 9 B. 10
C. 11 D. 12

$$9 \div 3 = 3$$

$$49 \div 7 = 7$$


$$7 + 3 = 10$$


13. Aşağıdaki maddelerden hangisi hem suda batma ve hem de esneklik özelliğine sahiptir?



$$\text{Dara} = \text{Brüt Kütle} - \text{Net Kütle}$$

14.

Brüt Kütle : 6000 g

$\begin{array}{r} 6000 \\ - 5850 \\ \hline 150 \end{array}$
Net Kütle : 5850 g

Brüt Kütle : 2000 g

$\begin{array}{r} 2000 \\ - 1975 \\ \hline 25 \end{array}$
Net Kütle : 1975 g

Yukarıdaki maddelerin "daralarının" toplamı kaç gramdır?

- A. 125 g B. 155 g
C. 175 g D. 200 g

$$\begin{array}{r} 150 \\ + 25 \\ \hline 175 \end{array}$$

15. Aşağıdaki ifadelerden hangisi doğrudur?
- A. Maddenin boşlukta kapladığı yere kütle denir.
B. Boş kabın kütlesine brüt kütle denir.
C. Maddelerin hacimlerini ölçerken ölçü birimi olarak kg veya g kullanılabilir.
D. Brüt kütlesi 750 g, net kütlesi 500 gram olan bir maddenin darası 1250 gramdır.

16.

Madde	Brüt Kütle	Net Kütle	Dara
Yağ	4000 g	3750 g	7750 g
Süt	1000 g	995 g	5 g
Su	8000 g	7750 g	250 g

Yağız evinde bulunan üç maddenin kütleleriyle ilgili ölçme sonuçlarını yukarıdaki tabloya aktarmıştır. Buna göre Yağız'ın yaptığı ölçmelerle ilgili aşağıdaki ifadelerden hangisi doğrudur?

- A. Hepsi doğrudur. B. 1 yanlış yapmıştır.
C. 2 yanlış yapmıştır. D. 3 yanlış yapmıştır.

17. Kaan, hava durumu tahminlerinden dolayı rezervasyon yaptırdığı uçak biletinin iptal olduğuna dair mesajı okumuştur. Buna göre Kaan'ın uçak yolculuğunun iptal olması aşağıdaki kurumlardan hangisinin tahminlerine dayalıdır?

- A. Devlet Demir Yolları B. Meteoroloji Genel Müdürlüğü
C. Türk Hava Yolları D. Uzay Araştırmacılığı Kurumu

18. Bir yerin eğimli olması ve çok yağış alması aşağıdaki doğal afetlerden hangisinin olma riskini daha fazla artırır?

- A. Deprem
B. Fırtına
C. Heyelan
D. Erozyon

19. Aşağıdakilerden hangisi seli önlemek için yapılacaklardan bir tanesi değildir?

- A. Ağaçlandırma çalışmalarının yapılması
B. Dere kenarlarının yerleşime açılmaması
C. Barajların yapılması
D. Kanalizasyon sistemlerinin devre dışı bırakılması

20. Aşağıdakilerden hangisi deprem öncesinde yapılacaklardan bir tanesi değildir?

- A. Deprem çantası kuralına uygun olarak hazırlanmalıdır.
B. Acil toplanma alanında toplanılmalıdır.
C. Deprem bilgi kartları hazırlanmalıdır.
D. Oturulan binanın depreme uygun olması kontrol edilmelidir.

ADI :

SOYADI :

SINIFI :

PUANI :

1	A	B	C	D
2	A	B	C	D
3	A	B	C	D
4	A	B	C	D
5	A	B	C	D
6	A	B	C	D
7	A	B	C	D
8	A	B	C	D
9	A	B	C	D
10	A	B	C	D
11	A	B	C	D
12	A	B	C	D
13	A	B	C	D
14	A	B	C	D
15	A	B	C	D
16	A	B	C	D
17	A	B	C	D
18	A	B	C	D
19	A	B	C	D
20	A	B	C	D