





Yukarıda her tavşan 1 havuç alacaktır. Buna göre kaç havuç alınmamıştır?

ÇÖZÜM:												



Çocuklar beden eğitimi dersinde sıraya girmiştir. Bu sırada Emir baştan üçüncü, Ozan ise baştan yedinci sıradadır. Buna göre Emir ile Ozan arasında kaç kişi vardır?

ÇÖZÜM:												


3. 16 sayısı  onluk,  birlikten oluşmaktadır. Buna göre  ve  yerine gelmesi gereken rakamların toplamı kaçtır?

ÇÖZÜM:									

4. 3 ile 5 arasında olan sayının 7 fazlası kaçtır?

ÇÖZÜM:								

5. Yandaki tele 4 kuş daha konarsa teldeki kuş sayısı toplam kaç olur?



ÇÖZÜM:								

6. Yandaki kavanoza 4 şeker daha eklenirse kavanozda kaç şeker olur?



ÇÖZÜM:

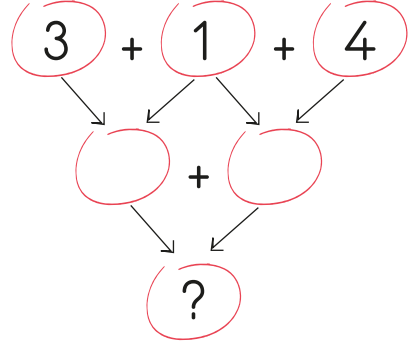
7. Eren'in 7 boncuğu vardır. Eren boncuklarının 3 tanesini Efe'ye vermiştir. Eren'in boncuklarının azaldığını göre Mehmet, Eren'e 5 boncuk vermiştir. Son durumda Eren'in kaç boncuğu olur?

ÇÖZÜM:

6. 13 kitabın 6 tanesini okursam okumadığım kaç kitap kalır?

ÇÖZÜM:


9.



Yukarıdaki bağlantılı toplama işleminde "?" yerine kaç gelmelidir?

ÇÖZÜM:

10.



Tabakta 5 dilim şeftali vardır. Asya dilimlerden 3 tanesini yedikten sonra annesi tabağa 6 dilim daha koymuştur. Son durumda tabakta kaç dilim olmuştur?

ÇÖZÜM:

11.



12 şekerim var.

6 şekerim var.

Yukarıdaki çocukların şekerleri toplamı kaçtır?

ÇÖZÜM:

12.



Yukarıdaki kutuların her birinde ikişer kazak vardır. Tüm kutularda toplam kaç kazak vardır?

ÇÖZÜM:

13. Bir bahçede 8 elma ağacı 6 armut ağacı vardır. Bu bahçede toplam kaç ağaç vardır?

ÇÖZÜM:

14. Ablamın 1 onluk 6 birlik kadar tokası vardır. Tokalarının sadece 7 tanesini kullanmaktadır. Geri kalanını kullanmamaktadır. Buna göre ablamın kullanmadığı kaç toka vardır?

ÇÖZÜM:

15. Elif, yandaki balıkları çizmiş ve 4 tanesini boyamıştır. Geri kalanını boyamadığına göre boyamadığı balık sayısı kaçtır?

ÇÖZÜM: