

Suat sabah gözlerini açtığı-  
da odasının perdesini açmış  
ve gözlerini inanmamıştı  
Bembeyaz bir örtü kaplamıştı her  
bir yanı. Heyecanla annesinin ya-  
nına koşmuş ve dışarıyı göstermişti.  
Annesi ile dışarı çıkıp kartopu oyna-  
mak istiyordu. Annesi gülümseyerek:  
"Elbette yavrum, ama önce kahvaltı  
yapmamız lazım." dedi. Kahvaltıdan  
sonra kartopu oynayan Suat ve an-  
nesi çok mutlu görünüyorlardı.



1 ve 2. soruları metne göre cevap-  
layalım.

1. Suat sabah uyandığında niçin  
gözlerine inanmamış?

- A. Annesi güzel bir kahvaltı hazır-  
ladığı için
- B. Her bir yanı bembeyaz bir örtü  
kapladığı için
- C. Annesi ile kardan adam yapa-  
cağı için

2. Suat'ın annesinin kartopu oyna-  
mak için şartı neymiş?

- A. Önce ödevlerin yapılması
- B. Öğretmenin verdiği kitabın  
okunması
- C. Kahvaltı yapılması

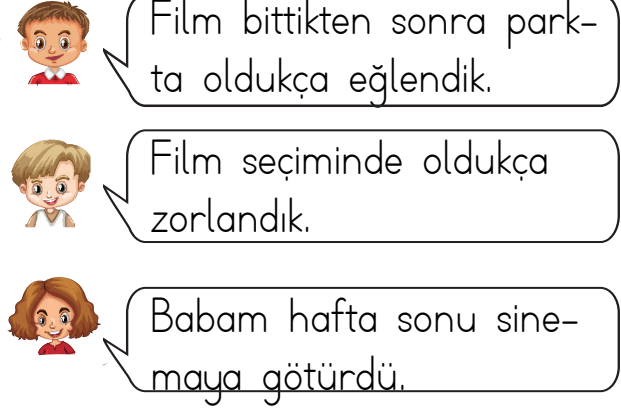
3.



Yukarıdaki görselleri karşılayan  
sözcükler hangi seçenekte veril-  
miştir?

- A. ince, yeşil, zayıf
- B. kalın ,sarı, şişman
- C. sarı, kalın, zayıf

4.



Yukarıdaki olayları sıraladığımızda  
hangi çocuğun cümlesi ikinci sırada  
olur?

- A. 
- B. 
- C. 

5. Aşağıdaki görsellerden hangisinin  
adı her zaman büyük harfle baş-  
lar?

- A. 
- B. 
- C. 

## 2. SINIF 2. DÖNEM 1. HAFTA


6.



Yukarıda verilen sözcüklerden kaç tanesi ek aldığında kesme işareti kullanılır?

- A. 3      B. 2      C. 4

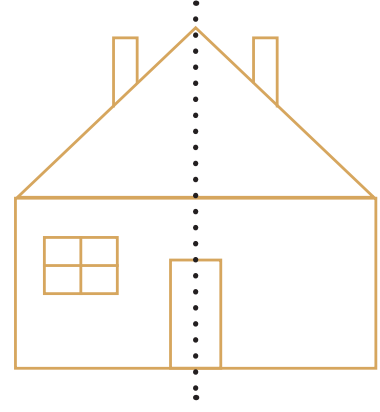
7.



Yukarıdaki geometrik şekiller kenar sayılarına göre azdan çoğa doğru sıralandığında hangisi ikinci sırada olur?

- A.       B.       C. 

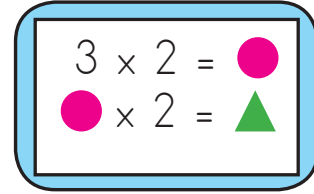
8.





Yukarıdaki simetriyi bozan şekil hangisidir?

- A. baca      B. kapı      C. pencere


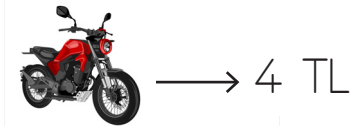
9.



Yukarıdaki çarpma işlemlerine göre  +  işleminin sonucu kaçtır?

- A. 16      B. 18      C. 14

10.



Yukarıda bir otoparkın araç türlerine göre kullanım ücretleri verilmiştir. Otoparkta 8 motosiklet, 5 araba ve 4 kamyon vardır. Buna göre motosikletler ve arabalar için ödenen ücret ile kamyonlar için ödenen ücretin farkı kaçtır?

- A. 31      B. 32      C. 33

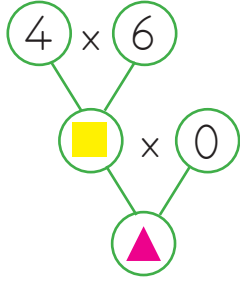
11.

Keçi	9
Horoz	36
İnek	42

Çiftliğimizde 6 koyun, koyunların toplam ayak sayısından 18 fazla başka bir hayvan vardır. Bu hayvan hangisidir?

- A. Keçi B. Horoz C. İnek

12.



Yanda verilen işleme göre  $\blacksquare + \blacktriangle$  işleminin sonucu kaçtır?

- A. 21 B. 18 C. 24

13.

1. Yaz	A			
2. Kış	B			
3. Sonbahar	C			

Yukarıdaki verilen sebzeler ile mevsimlerin doğru şekilde eşleştirilmesi hangi seçenekte verilmiştir?

- A. 1. A 2. B 3. C  
 B. 1. B 2. A 3. C  
 C. 1. B 2. C 3. A

14. Aşağıdakilerden hangisi beslenme çantamıza koyabileceğimiz ürünlerden biri değildir?

- A. Çorba B. Tost C. Sandviç

15.

..... mevsiminde yenen mandalınanın besin değeri oldukça yüksektir. İfadesinde noktalı yere hangi ifade yazılmalıdır?

- A. yaz B. kış C. ilkbahar

ADI: .....

SOYADI: .....

SINIFI: .....

sonerhoca.net

1	A	B	C
2	A	B	C
3	A	B	C
4	A	B	C
5	A	B	C
6	A	B	C
7	A	B	C
8	A	B	C
9	A	B	C
10	A	B	C
11	A	B	C
12	A	B	C
13	A	B	C
14	A	B	C
15	A	B	C