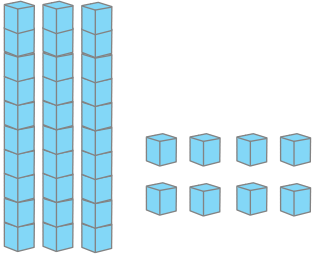


1.



Yukarıda modelle ifade edilen sayının 18 fazlası kaçtır?



Çözüm:

2.

■ onluk ▲ birlik = 58

■ + ▲ işleminin sonucu 2 desteden kaç eksiktir?



Çözüm:

3.

Bir çiftiçi bahçesinden 23 karpuz, karpuzlardan 19 fazla kavun toplamıştır. Çiftiçinin topladığı karpuz ve kavunların toplamı kaçtır?



Çözüm:

4.



Öğretmen Suna Hanım sınıfına aldığı 78 kitapta 29'u hikaye, kalanı ise masaldır. Buna göre masal kitaplarının sayısı hikaye kitaplarından kaç fazladır?



Çözüm:

5.

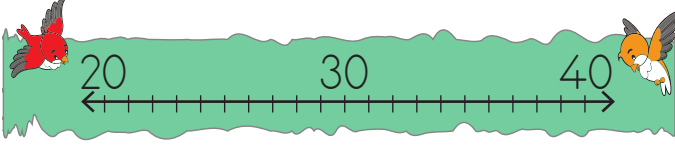


Trenin vagonlarındaki koltuk sayıları belirli bir kurala göre tasarlanmıştır. Tren 6 vagonlu olduğuna göre 5 ve 6. vagondaki koltukların toplamı kaçtır?




Çözüm:

6.




Yukarıdaki kuşlardan ilki 20'ye yuvarlanan en büyük sayıya, diğeri 40'a yuvarlanan en küçük sayıya konmuştur. Buna göre kuşların konduğu sayıların toplamı kaçtır?

 Çözüm:

7.



Eda'nın okuduğu kitabın sayfa sayısı onlar basamağı 3 olan en büyük iki basamaklı sayıya eşittir. İpek ise sayfa sayısı 5 desteye eşit olan kitabı okumaktadır. Buna göre okunan iki kitabın sayfa sayıları toplamı kaçtır?


 Çözüm:

Şubeler	Öğrenci sayıları
2/A	22
2/B
2/C	23
2/D


Yukarıda şubelerdeki öğrenci sayıları verilmiştir. 2/B sınıfındaki öğrenci sayısı 20'ye yuvarlanan en büyük sayı, 2/D sınıfındaki öğrenci sayısı 2 düzinedir.

8, 9 ve 10. soruları yukarıdaki bilgilere göre cevaplayalım.


8. 2/A ve 2/B sınıfındaki öğrenci sayılarının toplamı kaçtır?

 Çözüm:

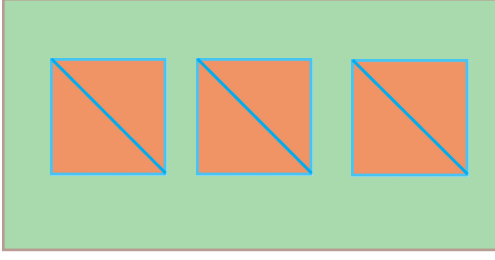
9. 2/D ve 2/C sınıfındaki öğrenci sayılarının tahmini toplamı kaçtır?

 Çözüm:

10. 2. sınıf şubelerinde toplam kaç öğrenci vardır?

 Çözüm:

11.



Öğretmenin tahtaya çizdiği şekillerdeki üçgen ve karelerin sayıları toplamı kaçtır?



Çözüm:

12. Emir Sedef'ten 19 kg daha hafiftir. Sedef 42 kg olduğuna göre Emir ve Sedef'in kütlelerinin toplamı kaç kilogramdır?



Çözüm:

13. Bir çiftlikte bir inek günde 4 kova süt, bir koyun ise 2 kova süt vermektedir. 1 kova süt 6 sürahi süte eşittir. Buna bir koyun ve bir inek 2 günde kaç sürahi süt verir?



Çözüm:

sonerhoca.net

14. Bir saksı günde 2 sürahi su ile sulanmaktadır. 1 sürahi 4 bardak su ile dolmaktadır. Saksı 2 günden kaç bardak su ile sulanır?



Çözüm:

15. Bir kutu süttan 4 bardak süt çıkmaktadır. 3 kutu süttan 5 bardağını içersen kaç bardak süt kalır?



Çözüm:
